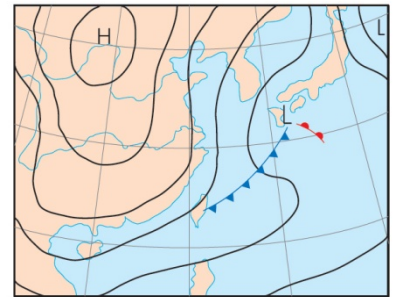


國立台南二中 105 學年度 高一語文適性班 社會科考題

一、 單選題(共50題，每題2分，共100分)

- 某人在地表某一點向南行 100 公里，再向正東行 60 公里，然後再向正北行 100 公里，結果仍回到原處，請問其出發點是在何處？
(A)赤道 (B)北回歸線 (C)南極 (D)北極。
- 台北某電視台在安排全球直播球賽節目時，發現在：(甲)費城 75°W；(乙)洛杉磯 118°W；(丙)墨爾本 145°E；(丁)巴黎 2°E 四地，當地時間 5 月 4 日下午 7 時各有一場球賽要播。這四場球賽畫面傳送到電視台的時間，先後順序為何？
(A)甲乙丙丁 (B)甲丁丙乙 (C)丙丁甲乙 (D)丁甲乙丙。
- 王先生最近移民澳洲雪梨，想買一間面向正北方的二層樓房。為了在房子後方的空地找出全年陽光都照不到的地方，以便規劃植栽的內容，王先生應該選擇在下列哪一個月份某日的中午時刻去參觀？ (A)三月 (B)六月 (C)九月 (D)十二月。

- 右圖為亞洲東部某日的天氣圖。根據此圖，請問該日臺灣地區最可能遭受何種氣象災害？
(A)豪雨 (B)寒害 (C)焚風 (D)龍捲風。

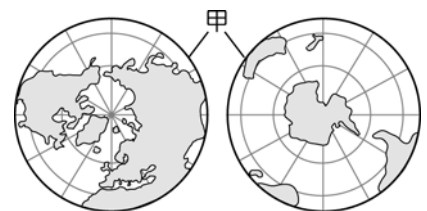


- 為了解中國區域發展的差異，小明將中國畫分為甲區和乙區，並根據 2000 年的資料整理出附表。由表中各項數據的比例分配判斷，這二區的分界最可能為下列何者？

區域	甲區	乙區
占全國面積比例 (%)	56.7	43.3
占全國 GDP 比例 (%)	4.3	95.7
占全國糧產比例 (%)	5.9	94.1
占全國人口比例 (%)	6.1	93.9

- (A)年均溫 0°C 等溫線 (B)黑河與騰衝的連線 (C)年雨量 750 毫米等雨量線 (D)東部和中部經濟帶分界線。

- 地圖是用來呈現地表現象的工具，依研究主題可選用不同地區為中心繪製的地圖。附圖是以甲線為界將地球剖分後所繪製的世界地圖。下列哪一個地理議題的研究成果最適合呈現在此圖上？

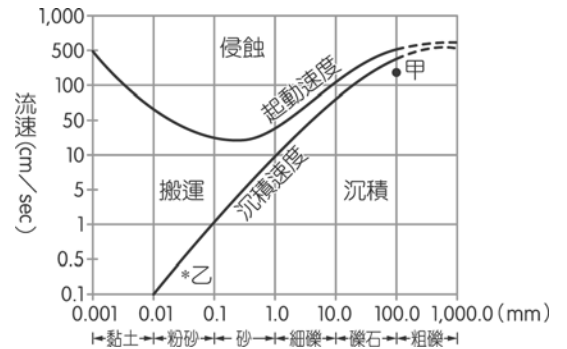


- (A)全球熱帶栽培業作物的區位探討 (B)登革熱的分布與擴散情形 (C)已開發與開發中國家的經濟發展比較 (D)極區交通與資源開發的戰略地位分析。

7. 臺灣因位於板塊交界處，造山運動劇烈，屬於新褶曲地帶。根據上述推斷，下列對於臺灣地形特徵的敘述何者「不正確」？ (A) 3,000 公尺以上高山林立 (B) 河流湍急，富水力資源 (C) 斷層地形發達 (D) 金屬礦產資源豐富。

8. 右圖中，甲處所在地最有可能出現哪一種地形景觀？

(A) 峽谷 (B) 瀑布 (C) 沖積扇 (D) 三角洲。



9. 根據調查顯示，2011 年臺南市生育率低於全國平均值，然而該年人口增加卻為南部縣市之冠，高於其他地區。請問：這種現象的成因最可能為下列何者？

(A) 平均壽命延長 (B) 人口拉力增加 (C) 重視男女平等 (D) 限制人口移出。

10. 臺灣已步入高齡化社會，且有逐年增加的趨勢，預估至民國 140 年老年人口將達 24 %。老年人口比例大幅增加和哪一現象最有關？

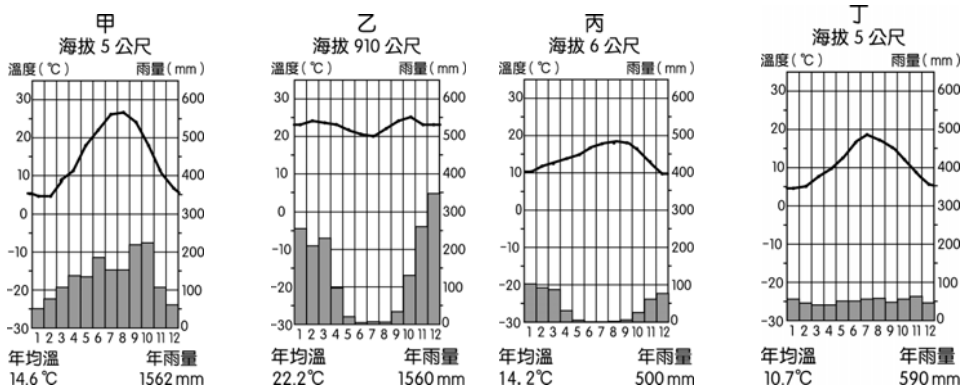
(A) 出生率下降 (B) 死亡率下降 (C) 年輕人口外移 (D) 慢性病獲得控制。

11. 下列為住在臺北的王先生春節時為家族旅遊安排中部之行的內容，王先生計畫一路由北往南移動。請問其行程安排順序應為下列何者？ (A) 甲乙丙丁 (B) 乙甲丙丁 (C) 甲丙丁乙 (D) 甲丙乙丁。

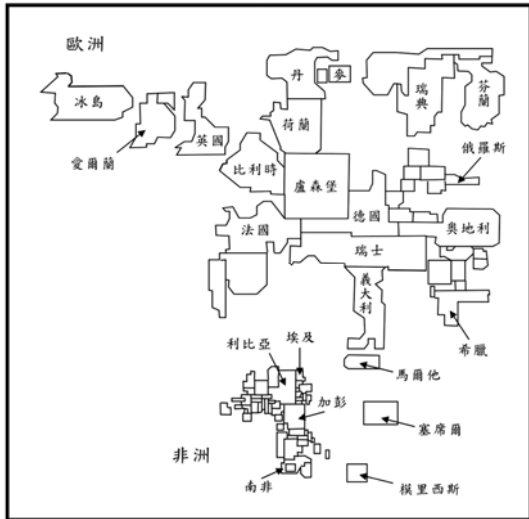
- 甲、苗栗南庄客家老街
- 乙、彰化鹿港天后宮
- 丙、臺中后豐鐵馬道
- 丁、雲林古坑華山咖啡步道

12. 下列四個都市的氣溫雨量分布圖，何者可能為南美洲的氣候圖？

(A) 甲 (B) 乙 (C) 丙 (D) 丁。





13. 日本傳統的民間習俗，在每年夏季男孩節時，都會掛上斗大的鯉魚旗。請問：此時鯉魚旗多飄往下列哪一個方向？
 (A) 東北方 (B) 東南方 (C) 西北方 (D) 西南方。
14. 下左圖為歐、非二洲國家某種社會發展指標的統計地圖，圖中各國的面積代表該項指標值的大小。該項指標最有可能為下列哪一項？ (A) 國民平均壽命 (B) 平均國民生產毛額 (C) 15歲以上人口識字率 (D) 平均每人水資源擁有量。

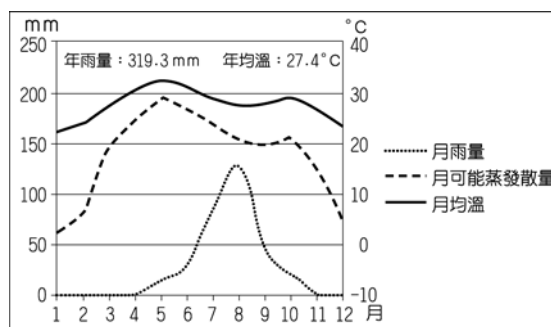


15. 小南在大學畢業後到澳洲進行打工度假，上右圖中甲區為她打工的第一站，她將在當地的經歷發佈在臉書上。請問，下列哪一經歷最符合現況？

- (A) (B) (C) (D)




16. 氣候變化對全球環境造成影響，附圖為某地的氣候水平衡圖。請依圖中內容判斷，該地最可能出現的環境問題為何？ (A) 冰山融化 (B) 水源短缺 (C) 濫伐雨林 (D) 臭氧層破洞。




17. 全球暖化來自於人類的過度開發，開發地的分布如附圖所示。請問：若當地出現生態系統失衡的狀況，則受影響的自然景觀帶最可能為下列何者？



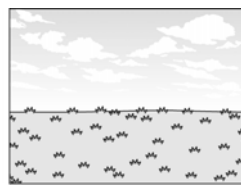
(A)




(B)



(C)



(D)



18. 右圖是清康熙年間由西洋傳教士繪製的臺灣地圖。此圖只繪製臺灣西半部，反應出當時清廷治臺的何種政策？

- (A) 禁絕漢人渡臺，防止臺灣成為反清基地 (B) 施行劃界封山，禁止漢人入侵原住民區 (C) 開港通商，設定西半部為對外貿易據點 (D) 加強建設西半部，使該地成為海市重鎮



19. (甲)分裂：第二次世界大戰結束後分裂為東、西德(乙)關係發展：1990年代，東、西德漸行漸遠(丙)戈巴契夫的改革，加速東、西德統一的步伐(丁)東、西德終於在2000年正式統一。上列關於德國的分裂與統一，哪些項目敘述正確？
(A) 甲丙 (B) 乙丁 (C) 甲乙 (D) 丙丁。

20. 附表是從漢至宋的部分南北戶數統計表，由其數字的演變，反映了哪種歷史趨勢？

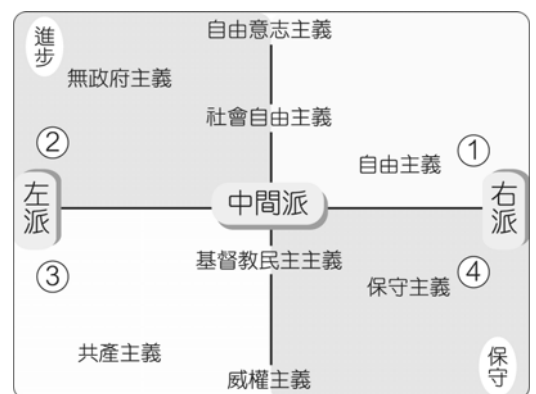
年 代	北方戶數	南方戶數	南方所占(%)
漢(元始二年，西元2年)	965萬	111萬	10.3
唐(天寶元年，西元742年)	493萬	257萬	34.3
宋(元豐三年，西元1080年)	459萬	830萬	64.4

- (A) 南方經濟漸趨繁榮 (B) 南方士族日漸崛起 (C) 北方胡漢漸趨融合 (D) 北方都市逐漸興起。

21. 雷恩在第一次世界大戰初期奉命到一個樹林中，埋伏即將經過的俄國步兵團，幾天之後，卻接到命令要攻擊德國的彈藥庫。雷恩最有可能是哪個國家的士兵？
 (A)義大利 (B)日本 (C)美國 (D)奧國
22. 身處在中古時代莊園中的農民，下列何種情形不會出現在他的日常生活中？
 (A)與其他農民共同耕作領主的土地 (B)到教堂參加宗教儀式 (C)接受馬術訓練，準備為領主作戰 (D)為領主修補坍塌的圍牆
23. 歷史課筆記上記載以下內容：唐朝滅亡後(甲)長江流域先後出現(乙)後梁、後唐、後晉、後漢、後周五個政權(丙)史稱「五代」，為唐朝(丁)藩鎮割據的延續。請問：上述記載何者錯誤？ (A)甲 (B)乙 (C)丙 (D)丁。
24. 附表是臺灣某一時期各項產品所占的出口比例表。請根據表中的數據來判斷，這應該是下列哪一時期的出口比例？ (A)1930年 (B)1950年 (C)1970 (D)1990年。

產品	糖	米	罐頭食品、茶、香蕉 等其他農產品	工業產品(含化學 品、紡織品等)
比例	58.9%	15.3%	17.7%	8.1%

25. 中國歷史上曾有多次傳統文化遭受破壞的運動，下列哪些屬之？(甲)民初新文化運動(乙)義和團之亂(丙)太平天國之亂(丁)秦始皇焚書(戊)中共文化大革命 (A)甲乙丙丁 (B)乙丙丁戊 (C)甲丙丁戊 (D)甲乙丁戊。
26. 第一次世界大戰後，墨索里尼出任義大利總理，主張反共和「恢復古羅馬光榮」；並且取締所有政黨，使其一手打造的國家法西斯黨成為義大利唯一合法的政黨。請問：若以附圖政治光譜區分，墨索里尼應在哪一象限？ (A)第①象限 (B)第②象限 (C)第③象限 (D)第④象限。



27. 如右圖所示，甲、乙、丙、丁各代表上古時期西亞文明四個不同民族，關於此四個民族，下列敘述何者正確？ (A)甲代表亞述人，編訂《漢摩拉比法典》 (B)乙代表希伯來人，以好戰著名 (C)丙代表腓尼基人，創立一神信仰 (D)丁代表加爾底亞人，擅長觀察天象和占星術。



28. 人生的最高價值不在於生存的長短，而在於對「大我」，即世界與社會的有益奉獻。下列的典型事蹟與人物的配對，正確的為何？(甲)批評政府與天主教教會，並強調言論自由(乙)主張生命、自由與財產是不可剝奪的「天賦人權」(丙)提出行政、立

- 法、司法三權分立，彼此制衡，以免造成專制(丁)主張「主權在民」，強調普遍意志 (A)伏爾泰、洛克、孟德斯鳩、盧梭 (B)洛克、伏爾泰、盧梭、孟德斯鳩 (C)盧梭、孟德斯鳩、伏爾泰、洛克 (D)孟德斯鳩、洛克、伏爾泰、盧梭。
29. 某地方志記載：此地製茶工坊林立，茶葉產期時，茶行必須僱用許多女工，多則五、六十人，少則二、三十人，甚至有漳、泉婦女來此短期工作，每日工資四、五錢不等。這本地方志最可能為下列何者？ (A)《諸羅縣志》 (B)《彰化縣志》 (C)《臺東州志》 (D)《臺北府志》。
30. 人類進入新石器時代以後有許多重大的變革，而有「新石器革命」之稱，其主要意義為何？ (A)已知用火取暖、照明與熟食，使生命得以延長 (B)開始使用文字，明確記載當時人們的各種活動 (C)進入產食時代，人們開始有餘暇從事文明創造 (D)發展嚴密的軍事及國家組織，保障群體的安全。
31. 一部關於中國社會史的著作寫道：「在北宋初年，從很多名臣的實例來看，婦女改嫁情形屢見，守寡之風並不盛行……到了北宋末，婦女守寡、重視貞操觀念深植社會，成為風習。」這種社會風氣改變的關鍵在於當時的哪一社會現況？ (A)清談風氣 (B)理學盛行 (C)世族政治 (D)養士之風。
32. 「交換手段難逃長河冰封，工業企業盡成枯枝敗葉，農場產品找不到市場，千萬家庭的多年積蓄毀於一旦。」上述的社會現象可能發生於下列何地？ (A)1900年的德國 (B)1925年的英國 (C)1928年的俄國 (D)1932年的美國。
33. 自上古時代開始，巴爾幹半島曾受到哪些帝國統治？(甲)亞歷山大帝國(乙)羅馬帝國(丙)拜占庭帝國(丁)查理曼帝國(戊)神聖羅馬帝國 (A)甲乙丁(B)甲乙戊 (C)甲丁戊 (D)甲乙丙。
34. 有一部冒險電影背景設定在西元8世紀間繁榮的某帝國首都，街道上遍布商人從各國帶來的貨品，可知其工商業發達。此帝國剛打敗了東方強國，而主角即將被派去中亞的城市學習造紙的技術。請問：這部電影的背景最可能是設定在下列哪一座城市？ (A)長安 (B)羅馬 (C)威尼斯 (D)巴格達。
35. 思辨對話理論是由當代大師費雪金 (James Fishkin) 所提出，此理論強調評斷公共政策的準則在於討論的過程；因此，在報章雜誌上經常看到的公聽會，就是一種過程，舉行公聽會不一定要造成特定的結論，公聽會所強調的是討論的過程；根據上述內容研判，思辨對話理論與近代何種民主理論最接近？ (A)古典民主理論 (B)經驗民主理論 (C)審議民主理論 (D)多元民主理論
36. 強調政府的存在是為了保障人民的自由權利，如果政府無法達成任務，人民即可加以撤換。這種觀念符合下列何種理論？ (A)自然權利 (B)主權在民 (C)分權理論 (D)少數服從多數。
37. 和非民主政治相較起來，民主政治在制度上包括哪些主要特徵？(甲)其統治者的權威可能來自於世襲或指定，或透過革命、政變等途徑來組成政府；(乙)有嚴格的新

聞檢查制度；(丙)政府是基於定期改選、多數決的程序來組成；(丁)自主性的公民社團並不存在，只有執政黨或其特許的少數團體可以合法存在；(戊)政府的權威是建立在大多數被統治者的同意上；(己)公民可藉由大眾傳播媒體，來保障自己「知的權利」。以上正確的是：(A)丙戊己 (B)乙丁戊 (C)甲丙丁 (D)甲乙己。

38. 每到過年，家家戶戶都會貼春聯，這種行為是屬於何種社會規範？(A)風俗習慣 (B)倫理道德 (C)宗教信仰 (D)法律。
39. 2014年臺北捷運發生駭人聽聞的殺人事件，由於21歲的鄭姓少年已成年，家屬無須負起連帶賠償責任，被害人及其家屬恐無法獲得賠償。上述所稱家屬不用負起連帶賠償責任，為下列何種責任？(A)民事責任 (B)刑事責任 (C)行政責任 (D)社會責任。
40. 民法第805條規定，「有受領權之人認領遺失物時，拾得人得請求報酬。但不得超過其物財產上價值十分之一……得請求報酬之拾得人，在其費用或報酬未受清償前，就該遺失物有留置權。」有位女大學生在校園裡遺失皮包，其中有父母貸款借來的4萬元註冊費，某學姊致電表示撿到她的皮包，但卻向她索取一成報酬，否則就要行使「留置權」(拒絕將失物返還)，4萬元的一成大約是4,000元。這位家境清寒的女大學生實在給不起，眼看註冊期限又快到了，讓她心急如焚。請問：關於上述事例，下列敘述何者正確？(A)該女大學生家境清寒，故其遺失物之認領不應適用民法805條 (B)該學姊之意圖不具正當性，故不得主張民法805條中的留置權 (C)法律是價值觀的具體呈現，故合法行為即符合國人的道德觀念 (D)法律只是最低限度的道德，故違反道德的行為不見得違反法律。
41. 某日，小新家來了一位檢察官與幾名警察，聲稱接獲線報，小新家藏有一批走私軍火，欲入內搜索。檢察官若欲進入小新家搜索，必須先完成下列哪一項程序？(A)向上級機關聲請搜索許可 (B)向法官聲請搜索票 (C)打電話與小新約定搜索時間 (D)會同管區警察一起搜索。
42. 成本效益」觀念運用在政府公共支出時，請問：下列敘述何者正確？(A)「成本效益」觀念要兼顧成本與效益，而不是只注重效益 (B)「成本效益」的成本不考慮外部成本 (C)「成本效益」觀念是以金錢為主要標準來衡量效益 (D)「成本效益」的成本包括機會成本的觀念，機會成本愈大愈適合公共支出。
43. 當國際間某傳染病大流行時，我國可由下列哪一個國際組織得到疫情相關資訊？(A)國際紅十字會 (B)世界衛生組織 (C)聯合國衛生委員會 (D)亞太經濟合作會議。
44. 民法中的「權利主體」可依其精神狀態與年齡享有不同的「行為能力」。若小騰今年17歲，未婚，則依民法規定，小騰享有下列哪一種「行為能力」？(A)無行為能力 (B)部分行為能力 (C)完全行為能力 (D)限制行為能力。
45. 政府提供必要的公共建設，這些公共建設對國家整體的經濟發展具有很大的貢獻，

但政府提供這些公共財都存在些許問題，這些問題總會讓人們有「不公義」的感覺，請問：公共財是具備下列哪一種特性，才會讓人民覺得沒有「公義」呢？ (A)人民可以無限使用公共財 (B)縱使沒有繳稅也可以享受 (C)公共財的種類相當多元 (D)政府機關無限制的浪費資源。

46. 2014年11月第8屆立委在第6會期階段，制定《公立國民小學及國民中學委託私人辦理條例》、《學校型態實驗教育實施條例》、《高級中等以下教育階段非學校型態實驗教育實施條例》；修正《公職人員利益衝突迴避法》、《公務人員行政中立法》等；以法律所規範的法律關係是否平等、是否涉及國家權利來區分，這些法律應被分類為何者？ (A)公法 (B)國內法 (C)普通法 (D)成文法。
47. 19世紀早期，美國人麥考米克發明了收割機，雖然農民對收割機有極大的需求，但卻無法負擔購買收割機的金額，導致收割機的市場相當有限，於是麥考米克又發明了「分期付款」的交易方式，讓農民有能力購買農業機械，也因此開創了新商機。請問：麥考米克之所以能獲利是因為他善用了下列何項經濟發展要素？ (A)人造資本 (B)人力資本 (C)自然資本 (D)企業才能。
48. 臺灣女首富王雪紅在決策工作與文書處理方面都比林祕書擅長，但是卻把文書處理的工作交給林祕書來處理，這是根據什麼樣的分配原則？ (A)需求法則 (B)供給法則 (C)比較利益法則 (D)能者多勞原則。
49. 不同類型的媒體若要進行合併，經常引發社會各界正、反面意見的辯論。如果從媒體識讀的角度來看，下列主張何者正確？ (A)如果併購會造成媒體市場的集中，可能會帶來言論自由空間被限制的疑慮 (B)如果併購導致只有一、二家媒體獨大之結果，最終將有助民主政治的效率 (C)媒體經營者若能同時經營電子與平面媒體，更可保障閱聽人的媒體近用權 (D)單一媒體的市占率一定要能達到獲利規模，才可能確保弱勢群體發聲管道。
50. 之前新聞曾報導，新北市中和、新店的捷運預計錄取女司機，即成為社會上的新鮮事。新聞標題中的「破例招考11名女司機」，是媒體對兩性的看法，產生了什麼樣的偏差？ (A)性別多元 (B)性別刻板印象 (C)性別不公平 (D)性別混淆。

國立台南二中 105 學年度 高一語文適性班 社會科解答

1	2	3	4	5	6	7	8	9	10
D	C	D	B	B	D	D	C	B	A
11	12	13	14	15	16	17	18	19	20
D	B	C	B	A	B	D	B	A	A
21	22	23	24	25	26	27	28	29	30
A	C	A	B	C	D	D	A	D	C
31	32	33	34	35	36	37	38	39	40
B	D	D	D	C	B	A	A	A	D
41	42	43	44	45	46	47	48	49	50
B	A	B	D	B	A	D	C	A	B