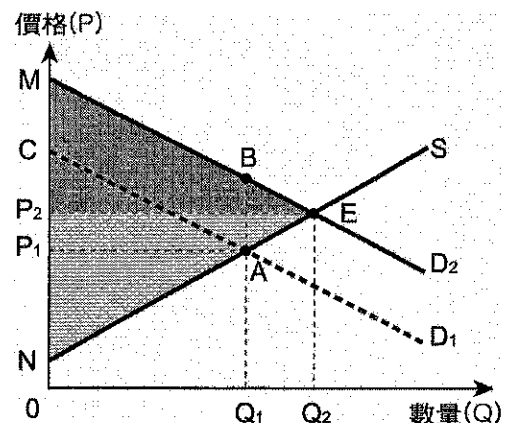


一、單選題(每題 2 分，共 30 題)

- 17 世紀時以前，英國幾乎沒有燈塔，但到了 1820 年，英國已有 46 座燈塔，其中絕大部分是私人建造的，船隻經過任何一座燈塔時，要根據船隻大小向燈塔的主人繳納使用費，英國的民間甚至發行了不同航程所要經過的燈塔應收費標準名冊。請問：上述的英國燈塔屬於哪一種財貨？ (A)具共享性及無排他性的純公共財 (B)不具共享性，但具無排他性的準私有財 (C)具共享性，但不具無排他性的準公共財 (D)不具共享性，也不具無排他性的純私有財。
- 政府針對不同的課徵對象，有著不同的賦稅方式與原則，這些方法與原則都是經過精心設計，以避免人民因過高的稅賦而影響其工作或活動的意願，請問：下列哪一種稅賦為「流通稅」課徵對象？ (A)每年必須繳納的綜合所得稅 (B)進出口廠商必須繳交的關稅 (C)購買有價證券繳納的證券交易稅 (D)自用住宅必須繳納的房屋與地價稅。
- 碳交易市場的設置，不能透過經濟學上何種手段提升社會整體效益？ (A)強化企業節能減碳的道德認知 (B)將生產的外部性納入成本考量 (C)增加政府污染防治的公共投資 (D)降低企業稅率，提高企業獲利。
- 若臺南市某地區欲興建一座社區森林公園，有關此行為，下列敘述何者正確？ (A)居民利用週休假日至公園運動、散步，屬於直接效益 (B)狗飼主未清理狗大便，屬於直接成本 (C)居民至園內練社交舞、排舞等，屬於間接成本 (D)舉辦藝人簽唱會，帶動週邊飯店業績，屬於直接效益。
- 為使政府的政策能夠符合人民的需求，因此需要人民普遍的參與公共政策。但在現實生活中，卻發現一般民眾不一定願意參與公共政策的討論，使得公共決策的品質大打折扣。請問：造成此種缺點的原因，下列敘述何者正確？ (A)政府決策缺乏效率，使得民眾對政府失去信心，因此產生政治冷感 (B)民主參與需要花費成本，利益卻是大家共享，因此參與者就會很少 (C)政黨主導政策的通過與否，民眾幾乎沒有影響力，因此不願去投票 (D)利益團體相互角力，使得民眾必須加入利益團體方能影響政府決策。

- 種植花卉的農場旁邊比鄰養蜂場，因為農場種植的花卉可以招蜂引蝶，提供蜜蜂花蜜，所以農場對於蜂場有相當的幫助。右圖是花卉農場的市場供需圖， $D_1$  為原本的市場需求線， $S$  為市場供給線，在考量外部效益下，請問下列敘述何者正確？ (A)若花農生產數量為  $Q_1$ ，其生產的外部效益是四邊形  $MCAE$  面積 (B)若將外部效益內部化，造成社會福祉提升的面積是四邊形  $MCAB$  (C)若將外部效益內部化後的總社會福利是梯形  $MNAB$  面積 (D)若維持原產量  $Q_1$  則總社會福利將較增產  $Q_2$  後低。



- 政府的收入有多種來源，若收入少於政府支出，政府將會出現預算赤字的問題。請問：若

政府出現預算赤字時，下列哪一種政府「開源」的管道，必須經過立法院三讀通過，才能增加該項政府的收入？ (A)央行發行公債 (B)出售公有土地 (C)提高所得稅率 (D)提升公營事業利潤。

8. 「在山區一些靠砍竹子維生的農戶，往往因不諳法令或一時疏忽，未事先申請在森林地砍伐，被依違反森林法處以重罰，動輒罰款 12~60 萬。被罰的農戶向農政單位或林務機關哭訴，無奈惡法亦法，難逃重典。然而，山老鼠卻經常來無影去無蹤，讓林業管理單位疲於奔命。山老鼠對林業資源的戕害，遠勝於老老實實卻不諳法令的農戶，但實際情況卻經常是山老鼠捉不到，只能找殷實農戶當墊背，叫這些農戶怎能心服口服。」(摘自中國時報 2011/05/29) 請問：文中「山老鼠」的出現會產生外部效果的原因應為下列何者？ (A) 資訊不良 (B) 交易成本過高 (C) 財產權不完整的問題 (D) 檸檬市場。
9. 美國聯邦政府所屬的「國家氣象服務 (NWS)」估算，全美國有約三分之一的經濟表現對天氣相當敏感，「世界氣象組織」的研究也顯示，每投資天氣預報 1 美元，平均可減少 10 美元的經濟損失。上述氣象與市場如此密切的關連，證明下列何者能使經濟效率提高？ (A) 外部成本內部化 (B) 確定財產權歸屬 (C) 避免出現搭便車 (D) 擁有完整的資訊。
10. 「成本效益」觀念運用在政府公共支出時，請問：下列敘述何者正確？ (A) 「成本效益」觀念要兼顧成本與效益，而不是只注重效益 (B) 「成本效益」的成本不考慮外部成本 (C) 「成本效益」觀念是以金錢為主要標準來衡量效益 (D) 「成本效益」的成本包括機會成本的觀念，機會成本愈大愈適合公共支出。
11. 行政院衛生署實施散裝食品新標示政策，要求商家在販賣散裝食品給消費者時，必須標示品名及原產地國，若標示不實將重罰 4~20 萬。請問：衛生署實施此政策是希望能有效達成哪一目的？ (A) 界定財產權歸屬 (B) 避免交易成本過高 (C) 降低外部性傷害 (D) 減少資訊不良的問題。
12. 沉迷於智慧型手機和平板電腦的「低頭族」愈來愈多，但「低頭族」一旦開車上路，會造成道路安全的隱憂。立法院先前 (2012.05) 三讀通過《道路交通管理處罰條例》修正案，對低頭族的汽車駕駛開罰 3,000 元，機車 1,000 元。對此修正案及會帶來的外部效果，下列敘述何者正確？ (A) 此政策對路上行人而言是外部成本 (B) 此政策對低頭族來說是造成了外部效益 (C) 此政策的概念與直接管制的概念類似 (D) 此政策執行後會帶來外部成本，使社會福祉減少。
13. 寇斯主張只要財產權界定明確，不論財產權歸屬誰或做何種分配，都可以通過財產權的自由買賣和私人之間契約的自由選擇，找到最有利社會的資源分配和制度安排。下列有關寇斯定理的相關敘述，何者正確？(甲)寇斯認為只要財產權界定明確，就足以解決外部效果問題；(乙)寇斯主張和萬能政府概念相似，政府應協助人民處理外部成本問題；(丙)若交易成本為零時，汙染者與被汙染者可透過財產權協商談判，以達成協議；(丁)寇斯的主張與皮古稅的方式相似，均採取課稅手段，使外部成本內部化。 (A) 甲乙 (B) 乙丙 (C) 甲丙 (D) 乙丁
14. 學者哈定曾提到原本一片綠油油草地是無主物，牧羊人都會把自己的羊群帶到草原上吃

草，每個人都希望自己的羊群可以吃到最多的牧草，當羊群愈來愈多時，草原因為過度使用而終至枯竭，最後羊群和牧羊人都深受其害。若想要避免草原悲劇的發生，可以尋求下列何種管道來解決？ (A)讓使用者付費，使外部效益能夠內部化 (B)界定財產權，讓財產權持有者盡力維護 (C)提供充足的環保資訊，並揭露問題關鍵 (D)降低交易成本，使買賣雙方的成本降低。

15. 商店街上某家商店整修及裝飾店面後，吸引許多消費者前來購買，同時也為附近店家帶來人潮並獲得好處。請問：下列有關前述外部性的敘述，何者正確？ (A)外部性對社會產生的效益或成本，市場機制會自動加以消除 (B)必須所有店家平均分攤外部性的影響，才能提高資源使用效率 (C)外部性與公共財的共享性質相似，但只有前者才會發生市場失靈 (D)透過補貼店家整修店面，可解決外部效益所導致的市場失靈問題。
16. 面對環境汙染問題，我國在國內外的對策敘述，下列何者有幾項正確？ (A)甲丙 (B)甲丁 (C)乙戊 (D)丙戊。

	國內外環保議題事件	我國因應方式
(甲)	1997 年國際上簽訂京都議定書	擬定溫室氣體減量法
(乙)	2004 年聯合國推動斯德哥爾摩公約	依廢棄物清理法全面管制汙染物
(丙)	1992 年英國指控臺灣進口犀牛違反國際公約；1994 年國內野生動物保育人士抗爭	1994 年三讀通過動物保護法
(丁)	1980 年代台電提出核四計畫案	無擬訂法案，2001 年簽署復工協議，但申明建立非核家園的目標
(戊)	2009 年聯合國氣候變遷哥本哈根會議	我國以中華臺北名義參與

17. 公共財具有共享性與無法排他性，通常是由政府提供給民眾的服務，而人民日常生活中也都接觸到公共財。請問：有關公共財敘述何者正確？ (A)政府可將公共財交由企業提供 (B)公共財的提供會形成外部效益所以不會出現市場失靈 (C)具排他性的公園，亦屬公共財 (D)政府應持續擴大設立所有的公共財。
18. 一般來說，第一部門的政府的效率，時常低於第二部門的企業，但唯有在提供公共財上的，就算政府缺乏效率，還是能帶給民眾「物超所值」的效益。要讓民眾的獲益大於繳納的稅金，有賴於公共財的何種特性？ (A)共享性 (B)無排他性 (C)敵對性 (D)共享性及無排他性。
19. 政府為執行既定政策，滿足國民需要，在取得各種收入後，開始執行各種財政支出。請問：下列關於我國政府支出之敘述何者正確？ (A)日前軍公教調薪 3% (2011.7.1)，在性質上屬移轉性支出 (B)目前隨著公債發行增多，債務利息支出占支出面最大宗 (C)新北市改制後積極擴張公車與捷運路線的支出屬投資性 (D)提出公共支出計畫只應考量到經濟效益面向，慎用每分錢。
20. 騎士帝國最近考慮兩個公共支出方案，其成本效益分析的部分資料如下表(單位：億元)。請問下列何者正確？ (A)興建大型體育館的益本比是 0.67 億元 (B)購買多功能生化人的

機會成本是 130 億元 (C)購買多功能生化人的直接效益是 10 億元 (D)購買多功能生化人優於興建大型體育館

	興建大型體育館	購買多功能生化人
直接成本	工程費用：30	生化人價格：25
間接成本	溫室氣體、交通擁擠：10	噪音汙染：5
直接效益	出租場地收入：40	緊急滅火、急難救助：？
間接效益	帶動社區發展：20	周邊商品銷售：40
益本比	？	2

21. 2014 上半年，全國稅收實徵淨額達到 1 兆 878 億元，突破歷年新高。其中營業稅、房屋稅、贈與稅等也都創下歷年同期新高紀錄。不過，隨著政府打房使得房市成交量萎縮，土地增值稅則出現負成長。請問上述稅收的分類，何者正確？ (A)營業稅屬於消費稅 (B)贈與稅屬於所得稅 (C)房屋稅屬於流通稅 (D)土地增值稅屬於財產稅
22. 為減少溫室氣體排放，某國政府聘請明星拍攝「節能減碳」的公益廣告，鼓勵民眾多加利用大眾運輸工具。此舉也促使多家車廠加緊研發替代能源車種，以期能掌握愈來愈重視「綠色消費」的客群。請問上述國家的作法，是運用下列哪一種概念來處理外部效果？ (A)課稅 (B)使用者付費 (C)界定財產權 (D)消費者主權
23. 碳排放造成全球暖化，而全球暖化也意外地造成全球地理政治學的權力分布改變，由於環北極國家的氣溫提高，變得適宜居住與耕作，極地和冰川「解凍」後，將出現大量的天然氣、石油與水等重要資源，而北極冰原融化後，將出現一條歐亞之間的重要航道，這些都提升了環北極國家的國際勢力與地位。關於上文所述，下列解讀何者正確？ (A)環北極國家讓熱帶國家承受外部成本，應賠償熱帶國家 (B)環北極國家享受熱帶國家提供的外部效益，應補貼熱帶國家 (C)環北極國家應補貼碳排放國，碳排放國應賠償熱帶國家 (D)環北極國家應賠償熱帶國家，碳排放國應補貼熱帶國家。
24. 臺灣曾為了因應金融海嘯衝擊而舉債支應發放消費券，有些學者批評這個計畫的收益甚小，而且債留未來，倒不如採取減稅，更有促進經濟發展的功效。請問從上文中，持批判態度的學者主要是基於下列哪一個概念？ (A)增加債務支出刺激經濟景氣的作法無可厚非 (B)政府應該減少公共計畫支出，避免債務膨脹就好 (C)政府舉債會產生跨世代外部效果，可能後續會更難處理 (D)若要增加 GDP，除了增加民間消費外，也可增加政府債務支出
25. 珍妮特·柯里(Janet Currie)等人在〈速食店對肥胖的影響〉(The Effect of Fast Food Restaurants on Obesity)一文中指出，學校離速食店愈近，學童肥胖比例亦愈高。請問若政府推動下列何項措施，有助於降低學童肥胖比例？ (A)界定速食財產權以處理外部效果 (B)將學童購買速食的交易成本降低 (C)禁止在兒童節目播放速食店廣告 (D)針對速食採使用者付費方式購買
26. 某位新上任的政府首長委託專家學者蒐集相關資訊，打算興建大型收費停車場供民眾使用，這項政策引起民眾許多的關注和討論。關於此收費停車場的興建，下列敘述正確的有

哪些？(甲)可提高社會資源的使用效率；(乙)投資效率需經成本效益評估；(丙)符合公共財無法排他的特性；(丁)容易造成政府支出規模擴大；(戊)會造成民眾「搭便車」現象。(A)甲丁 (B)乙丙 (C)乙丁 (D)丙戊。

27. 目前我國汽機車燃料稅為「隨車徵收」，每年依引擎排氣量的大小固定徵收一筆稅金。未來能源稅上路後，將改為「隨油徵收」，每公升汽油課以一定比例的稅金。就「綠色稅制」的觀點，此舉除了符合租稅公平性之外，也可以強調下列哪些概念？(甲)生產效率；(乙)外部性問題；(丙)比較利益；(丁)使用者付費。(A)甲丁 (B)甲丙 (C)乙丙 (D)乙丁
28. 德國科隆市曾考慮按店家前的排隊人龍佔地面積向業者收取「長龍稅」，提案者表示，隊伍佔用公共道路應該課稅，但反對者則認為排隊在所難免。長龍稅最終因市長「不想成為全國笑柄」而遭否決。請問若通過長龍稅，下列何者正確？(A)只要調高長龍稅的稅率，科隆市政府的稅收就會增加 (B)長龍稅可能使體型較大的客人不受歡迎，具有排他性 (C)雖然長龍稅是對業者課徵，但也會間接地影響消費者 (D)針對具有外部成本的行為課稅，無助於提升社會福祉
29. 若以經濟學的角度分析生育議題時，有學者認為當父母將小孩視為(甲)耐久財時，生育數變少則對每個小孩的投資會增加，即(乙)質與量的取捨；而奉養父母具有(丙)公共財的性質，小孩數增加時，(丁)搭便車的機率也隨之增加。請問下列何者正確使用經濟學作分析？(A)(甲)為違背需求法則的產品 (B)(乙)是運用機會成本的觀點 (C)(丙)獨享及無法排他特性 (D)(丁)因共享性產生的問題。
30. 所謂暴利稅(windfall tax)為針對非透過提供勞力或其他生產要素而獲取之所得，譬如彩券、樂透等所得，課徵高稅率的租稅有關暴利稅性質的敘述，下列何者正確？(A)樂透中獎繳納的稅，是針對交易行為課徵的稅收 (B)樂透中獎人被課稅，是因為發行樂透公司將租稅轉嫁給消費者 (C)樂透中獎人會被課稅，但人們可以選擇不購買，故符合效率原則 (D)樂透中獎人被課的稅，高於一般勞動者所得的稅率，符合公平原則

## 二、題組題(每題 2 分，共 10 題)

資料一：紐西蘭政府在 2004 年起決定，凡飼養牲畜的農場主都要為牲畜排放的臭氣繳稅，即家畜的「打嗝稅」、「屁稅」及「汗物稅」。牛羊排放出的屁中含有大量甲烷，在各種溫室氣體中，除了二氧化碳外，甲烷類氣體所占的比重也很大，主要源於牲畜和稻田，家畜在消化飼料過程中所排放的甲烷和一氧化二氮是其排放的二氧化碳的 21~310 倍，其溫室效應十分強烈。紐西蘭總人口約 400 萬，而飼養的羊數則為總人口的近 10 倍，家畜排放的溫室氣體占該國溫室氣體排放總量的 55%，這一指標在發達國家名列前茅。開徵此稅，是為了減少溫室氣體排放，以達到甲規定的標準。

資料二：無獨有偶，美國加州中部聖華金谷，其飼養的 250 萬頭牛排放出的屁，成了當地最大單一污染源。過去幾年來，當地 8 小時的臭氧煙霧量遠超過美國環保署規定的標準上限，因此當局要求農牧業加裝空汙控制裝備以降低廢氣排放。

31. 資料一敘述中的空格甲，應屬於下列何項國際公約規範的內容？(A)《華盛頓公約》(B)《蒙特婁議定書》(C)《京都議定書》(D)《巴賽爾禁令》。

32. 資料二美國政府的做法，屬於何種政府的對策？ (A)使用者付費 (B)直接管制 (C)課稅與補貼 (D)提供業者充分資訊。

新北市三重區承德里力行環保多年，最近倡導過期藥物回收，以廢棄廣告看板製作藥品回收箱，放置三德公園內，成為鄰里藥品回收的第一站，四月份第一次辦活動，就收到三大紙箱、約 180 公升的廢棄藥品，盼宣導民眾正確用藥觀念，避免任意丟棄，造成環境汙染。里長表示有些人罹患某些慢性病，有長期用藥習慣，每次到醫院，總帶回一大包藥，經常因為沒按時吃藥，加上勤儉性格，往往把藥留到下次使用，久而久之放到過期，一旦身體有病痛，卻依然拿來服用，導致藥物濫用的情況屢見不鮮。事實上，所有藥品都有保存期限，過期藥物隨意丟棄，恐造成環境汙染，里長希望從教育著手，藉由宣導過期藥品回收，確保民眾用藥安全與健康。

資料來源：自由電子報賴筱桐。承德里設回收箱。

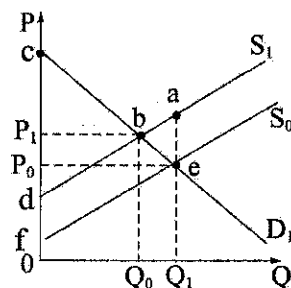
<http://www.libertytimes.com.tw/2012/new/jul/3/today-taipei7.htm>

33. 對於一般不知情的民眾將過期藥品丟棄，因而造成環境汙染的問題。請問：下列何者無法解決藥品丟棄所造成的外部性問題？ (A)罰款 (B)訂定家用垃圾丟棄標準 (C)汙染者付費 (D)補貼藥品未回收的丟棄者
34. 下列哪些敘述與「將過期藥品、健康食品隨意丟棄垃圾桶造成環境汙染」的外部效果不相同？ (A)元宵節釋放大批煙火慶祝，燈會附近居民飽受噪音干擾 (B)平溪天燈節在情人節時，廣招情侶施放 600 盞天燈，雖然活動製造廣大話題性，卻不小心釀成火災 (C)百年限量紀念幣造成搶購熱潮，民眾不但漏夜排隊更爆出肢體衝突 (D)除夕當天，慈善團體發起街友吃團圓飯的活動，營造溫馨氣氛

我國接連爆發塑化劑、毒澱粉等問題，暴露出食品管理的漏洞。衛生福利部食品藥物管理署表示，食品稽查員不到 500 人，卻負責全國 30 萬家以上的食品業者，平均每個業者大約要 7 年半才會被稽查 1 次；而從經費來看，全臺每人大約只能分到 36 元。

35. 如果每位民眾都得自行送驗有意購買的食品，不僅個人負擔太重，就整個社會來看，重複送驗相同食品也會形成浪費。下列何者可能是較有效率的解決辦法？ (A)由政府建立公營事業負責各種食品的生產 (B)由具有相同需要的民眾集資監督食品安全 (C)由各家廠商自行送驗，再以網站公布結果 (D)由政府加強監督與罰則，使廠商不敢投機
36. 若我國政府增加食品安全管理的人力與資源，請問此種轉變對於經濟效率與社會公平有何影響？ (A)可加強經濟效率，增進社會公平 (B)經濟效率提升，但減損社會公平 (C)社會公平提升，但減損經濟效率 (D)對經濟效率與社會公平沒有影響

在經濟學中，外部成本為對他人產生負面的外部性，例如：工廠排放廢水使生態環境遭受汙染、二手菸造成他人身心的不健康等……。右圖為開心國市場上存在外部效果時的供需圖形分析， $S_1$  為社會成本， $S_0$  為私人成本，請依序回答下列問題：



37. 依圖示判斷，當有外部成本產生的情況下，市場上對於此財貨的供應數量會 (A)過多 (B)過少 (C)不變 (D)無法判定。
38. 請問：在此狀況下，若供給量為  $Q_1$  時，社會福利為下列何者？ (A) $\triangle bcd$  (B) $\triangle cef$  (C) $\triangle cef - \triangle abd$  (D) $\triangle bcd - \triangle abc$
39. 為了解決汙染問題，開心國的政府決定對汙染工廠課稅，以防環境再遭到嚴重破壞。而這種讓生產者造成的外部成本自行負擔的方式，在經濟學中稱為 (A)外部效果克制化 (B)外部效果標準化 (C)外部效果內部化 (D)外部效果效率化。
40. 承上題，開心國政府此舉目的是希望達到社會福利最大，請問：課稅後在  $Q_0$  產量下之社會福利為圖中哪一區塊？ (A)ae fd (B)abe (C)bdfe (D)bcd。

三、多重選擇題(每題 2 分，答錯倒扣 1/5 題分)

41. 下列關於公共財與私有財的敘述，選出正確者？ (A)國營企業所提供的產品屬於公共財 (B)國防、知識都是屬於公共財 (C)公共財常會發生搭便車的情況 (D)政府雖然效率低落，但提供公共財仍有其必要 (E)公共財難以避免虧損，因此私人絕對不會提供公共財。


42. 依據我國財政部公告的 2016 年度所得稅課稅級距表(如右)相關規定，以個人綜合所得稅為例，若品臻去年的總收入為 120 萬扣掉基本生活開銷，再扣除用於醫療、保險等的所得還剩下 80 萬，請問下列敘述哪些正確？ (A)我國個人綜合所得稅是採單一稅率徵收 (B)品臻適用的稅率為第 2 級別，繳交總金額為 96000 元 (C)品臻適用的稅率為 2 級別以下，繳交總金額為 59600 元 (D)品臻適用的稅率為第 3 級別，繳交總金額為 240000 元 (E)我國個人綜合所得稅是採累進稅率徵收

級別	稅率	課稅級距 (單位：元)
1	5%	0-520,000
2	12%	520,001-1,170,000
3	20%	1,170,001-2,350,000
4	30%	2,350,001-4,400,000

43. 有關政府政策工具的敘述，下列何者正確？ (A)工廠排放汙水造成汙染，產生市場失靈，政府為了避免此現象，應完全禁止汙水之排放 (B)零汙染才能使社會達到最適狀況 (C)標售財產權主要是說明政府透過標售來讓願意付出最高價格的人運用這資源，例如：透過公開標售出汙染物排放許可證 (D)政府可透過課稅或補貼來影響私部門的外部行為，並矯正私部門在資源運用的缺失 (E)上游工廠任意排放汙水，常常是因為財產權界定不明確、管理權責不明所造成。
44. 交易成本的高低會影響交易是否發生，下列哪些選項算是「交易成本」？ (A)餐廳老闆為了研發新料理而觀看美食節目 (B)丁丁網購國外商品，向賣家詢問是否可提供商品原廠證明書 (C)班會採取審議式民主為達成共識進行的溝通討論 (D)選填志願前，先打聽大學科系口碑與畢業生的就業率 (E)迪迪想買二手機車，向朋友打聽飛常機車店家的商品來源。
45. 永續發展及市場失靈的敘述，下列何者正確？ (A)永續發展的因應政策循序漸進可分為總體經濟政策、制度性調整及全球性措施等三個層次 (B)界定財產權或標售財產權可以

改善財產不明確所造成的市場失靈現象 (C)一隻看不見的手是指價格機能使供需能夠自動調整至均衡 (D)外部性是指人的行為對其他人產生正面的影響 (E)民眾濫用健保資源，屬於公共財之市場失靈現象。

46. 據報載「建國百年重大環境事件回顧展」在新北市政府大廳揭幕，展出公元 2000 年的阿瑪斯號貨輪洩油，汙染海洋等重大環保事件，適逢發生基隆砂石輪擱淺漏油，回顧展別具意義。新北市政府環保局表示，環境課題不僅是地區性問題，更是國際性的議題。環境發展過程，環保觀念的省思與崛起，大多肇因於過度追求經濟發展而帶來的環境災害。(資料來源：2011.10.3 中央社) 請問：下列選項中哪些為目前能改善汙染環境的可能作法？ (A) 對於工廠排放的汙染量做直接管制 (B)將汙染權公開標售 (C)課徵汙染稅 (D)對於裝設防汙設施的工廠予以補貼 (E)對於高汙染產業全面禁止營運。



47. 財政政策是政府利用財政的「收入」與「支出」的調整，來達到影響總體經濟表現的政策。請問下列哪些選項敘述正確？ (A)政府歲入最主要來源為事業盈餘收入 (B)軍公教薪資，在性質上屬於消費性支出 (C)「愛臺十二項建設計畫」預期可促進經濟成長，屬於投資支出 (D)實施緊縮性財政政策，有助於緩和通貨膨脹的壓力 (E)「量入為出」原則一直是政府財政支出的原則。
48. 政府支出中的「投資性支出」，下列何者為其範疇？ (A)檢察官的薪資 (B)購買防禦性武器 (C)教科文的經費 (D)興建連結國道四號快速道路 (E)購置人造資本。
49. 政府推出「青年安心成家」政策，協助新婚或育有子女之青年家庭解決居住問題，提供租金補貼及前 2 年零利率購置住宅貸款利息補貼。有關此方案的敘述何者正確？ (A)對政府而言是債務利息支出 (B)與政府發放育兒津貼為同一類型支出 (C)相較於興建國宅，此方案較具彈性與效率 (D)設限各種申請條件，不符合政府支出的公平原則 (E)在經濟不景氣的情況之下，政府應減少此類的支出以減低財政負擔。
50. 送禮物可以傳達友誼或親情，但美國經濟學家瓦佛格發現，人們之間「送錯禮」是很常見的情況，且必然會造成經濟效率的損失。根據統計結果，我們在禮物上所花的每 100 元，對收到禮物的人來說平均只有 82 元的價值，而每年全世界在聖誕節的「禮」尚往來，共造成了新臺幣 8,000 億元的「無謂損失」。若用經濟學的角度分析上述「送錯禮」的現象，則下列敘述何者正確？ (A)就算是「送錯禮」，收禮的人依舊得到「外部效益」 (B)買禮物的人具備「直接管制」的特性，因而造成「送錯禮」 (C)「送錯禮」是「資訊不良」造成的市場失靈現象 (D)不論對誰都送禮卷或現金，能 100%避免「送錯禮」 (E)若要避免「送錯禮」，則送禮的「交易成本」將提高。



# 電腦閱卷答案卡

姓名：\_\_\_\_\_

年級：\_\_\_\_\_ 班別：\_\_\_\_\_ 座號：\_\_\_\_\_

科目名稱：高三公民

※畫線要粗黑，清晰，不可出格，擦拭要乾淨，若畫線過輕或污損不清，不為機器所接受，考生自行負責。

※請用 2 B 鉛筆畫記。

年級	1	2	3								
班	十	0	1	2	3	4	5	6	7	8	9
	個	0	1	2	3	4	5	6	7	8	9
座	十	0	1	2	3	4	5	6	7	8	9
	號	0	1	2	3	4	5	6	7	8	9

↓注意題號，不要畫錯

1	A	B	C	D	E
2	A	B	C	D	E
3	A	B	C	D	E
4	A	B	C	D	E
5	A	B	C	D	E
6	A	B	C	D	E
7	A	B	C	D	E
8	A	B	C	D	E
9	A	B	C	D	E
10	A	B	C	D	E
11	A	B	C	D	E
12	A	B	C	D	E
13	A	B	C	D	E
14	A	B	C	D	E
15	A	B	C	D	E
16	A	B	C	D	E
17	A	B	C	D	E
18	A	B	C	D	E
19	A	B	C	D	E
20	A	B	C	D	E

21	A	B	C	D	E
22	A	B	C	D	E
23	A	B	C	D	E
24	A	B	C	D	E
25	A	B	C	D	E
26	A	B	C	D	E
27	A	B	C	D	E
28	A	B	C	D	E
29	A	B	C	D	E
30	A	B	C	D	E
31	A	B	C	D	E
32	A	B	C	D	E
33	A	B	C	D	E
34	A	B	C	D	E
35	A	B	C	D	E
36	A	B	C	D	E
37	A	B	C	D	E
38	A	B	C	D	E
39	A	B	C	D	E
40	A	B	C	D	E

41	A	B	C	D	E
42	A	B	C	D	E
43	A	B	C	D	E
44	A	B	C	D	E
45	A	B	C	D	E
46	A	B	C	D	E
47	A	B	C	D	E
48	A	B	C	D	E
49	A	B	C	D	E
50	A	B	C	D	E
51	A	B	C	D	E
52	A	B	C	D	E
53	A	B	C	D	E
54	A	B	C	D	E
55	A	B	C	D	E
56	A	B	C	D	E
57	A	B	C	D	E
58	A	B	C	D	E
59	A	B	C	D	E
60	A	B	C	D	E