

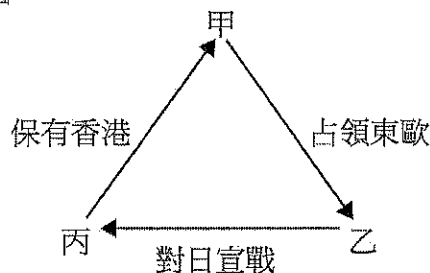
國立台南二中 104 學年度第二學期高二社會組期末考歷史科試題卷

考試範圍：歷史(四)第七章～第十章

1~25 為單一選擇題（每題 2 分，共 50 分，答錯不倒扣）

1. 一位日本將領自我辯護說：「我們就像一大群人擠在一間狹小的房間內，只有三扇門供我們逃出去，也就是說移居外地、打入世界市場和領土擴張。第一扇門，移居外地，已經被其他反對日本移民的國家堵死了。第二扇門，打入世界市場，又已被關稅壁壘關上了。三扇門關上了兩扇，日本該怎麼辦？很自然，日本只有從剩下的一扇門奪門而出了。」請問題幹中的將領最可能是為日本的那一次擴張行動辯護？而導致「日本的第二扇門」也被關上了的原因為何？ (A)甲午戰爭；中國閉關自守 (B)日俄戰爭；俄國強占庫頁島 (C)九一八事變；經濟大恐慌 (D)盧溝橋事變；退出國聯
2. 1938 年的這場國際會議由甲、乙、丙、丁四個國家的首腦共同參與。以當時的政治立場來說，甲乙一組、丙丁一組。在會議中他們出賣了一個完全沒有參與此次會議之國家的利益，以完成所謂的「公平正義」。其中甲國代表向國際聲稱：「這是最後一次」，丙國代表則興高采烈的向他的人民說：「我帶回了一代人的和平」。然而，這一切的幻影卻維持了不到半年，隨即宣告破裂。關於這場國際會議的敘述，下列何者正確？ (A)這場會議是一次大戰後的巴黎和會 (B)這場會議同意德國併吞奧地利 (C)甲國在半年後入侵了捷克斯洛伐克，破壞了會議中保證邊界安全的決議 (D)丙國當時的首領應為英國首相邱吉爾
3. 歷史學者霍布斯邦 1917 年生於埃及，後與雙親搬到了維也納。霍布斯邦十二歲時，父親心臟病發猝逝，兩年後，母親亦因肺病不治，雙親俱逝的霍布斯邦只好到柏林投奔姨媽，寄人籬下。此時的霍布斯邦非常喜歡柏林街頭熱鬧的政治活動，特別是左派團體的激烈示威抗議。那時的德國正處於政爭激烈的年代，納粹蓄勢待發。關於那個年代的敘述，何者正確？ (A)德意志皇帝威廉二世為當時國家元首 (B)世界經濟不景氣連帶影響德國經濟 (C)經濟大恐慌後，經濟困頓，使得親共的納粹政黨興起 (D)兩年後，希特勒藉由政變上臺
4. 「當時一輛汽車只需要一百元美金就可以購得，許多城市的銀行拉下鐵門，對於外面群眾的呼喊充耳不聞，甚至出現了在中國城的餐廳後門等待著殘羹剩飯的白人，該餐廳老闆也提到，開店十多年來，從來不曾看過這樣的情景……。」關於這段資料的敘述，何者正確？ (A)本文所描述的是美國發生經濟大恐慌時的情景，經濟持續惡化 (B)當時的美國總統羅斯福在此情景發生後推廣「新經濟政策」，以解決貧窮問題 (C)當時的政府以「和平、土地、麵包」的口號，重新取得人民的信任 (D)這股不景氣的現象，因為美國當時的孤立主義，並未擴散至全球
5. 資料一：1925 年時，她已變成沒有反對黨和政府控制一切出版與輿論的國家。
資料二：1928 年時，規定議院席次四百名，由各界各組織提出一千名人選，最後由執政黨最高會議核定四百名，選民就這四百名投票予以全體接受或不接受。
資料三：1934 年，將全國的經濟活動分為二十二個領域，每領域設一「組合」，組合的理事中包含勞、資雙方的代表，而由政府決定工資、售價、工業政策。
以上這三段資料敘述的是那一個國家？ (A)蘇聯 (B)義大利 (C)美國 (D)德國

6. 甲、東戰線取得勝利；乙、東戰線陷入僵局；丙、西戰線取得勝利；丁、西戰線陷入僵局。兩次世界大戰中，德國都在歐陸開闢東、西兩大戰線，針對德國在兩大戰線的成果，選項中的配對何者正確？ (A)第一次世界大戰：甲、丙；第二次世界大戰：乙、丁 (B)第一次世界大戰：乙、丁；第二次世界大戰：甲、丙 (C)第一次世界大戰：甲、丁；第二次世界大戰：乙、丙 (D)第一次世界大戰：甲、丁；第二次世界大戰：乙、丁
7. 美國總統杜魯門說：「我決定，對日本的占領不能重蹈德國覆轍……我不想給俄國人任何機會，再讓他們像在德國和奧地利那樣去行動。」其中的「覆轍」是指 (A)聯合國安理會的決議 (B)舊金山和約的內容 (C)雅爾達會議的決議 (D)波茨坦宣言的內容
8. 第二次世界大戰中，甲國支持乙國占領東歐；乙國應丙國要求，對日本宣戰；丙國則同意甲國繼續保有香港。甲、乙、丙各是那個國家？ (A)甲：英國；乙：蘇聯；丙：美國 (B)甲：英國；乙：美國；丙：蘇聯 (C)甲：美國；乙：蘇聯；丙：英國 (D)甲：美國；乙：英國；丙：中國




9. 1938 年以後，幾個歐洲國家來的移民突然湧入上海，他們來自不同的社會階層，從事不同的職業，說不同的語言，卻有共同的宗教信仰。他們在上海建立社區，發行報紙。戰爭結束後，他們離開上海，移往歐美各地。他們共同的信仰是 (A)基督教 (B)伊斯蘭教 (C)猶太教 (D)天主教
10. 一個工業國家在第二次世界大戰中，受到戰火破壞，戰後經濟困苦。藉著韓戰爆發的時機，迅速復興其工業，到 1970 年代成為經濟大國。1990 年後，該國經濟發展則陷入停滯，但其科技研發仍居領先。這個國家是 (A)德國 (B)蘇聯 (C)日本 (D)中華民國
11. 附表為二次大戰期間重要的戰爭會議整理，請依資料判斷其發生的先後順序：

甲會議	乙會議	丙會議	丁會議
開闢歐洲第二戰場	日本無條件投降	許諾蘇聯取得中國東北	日本須將東北歸還中國

- (A)丁甲乙丙 (B)丁乙甲丙 (C)丁甲丙乙 (D)丙丁甲乙
12. 由中、美、英三國在 1943 年戰爭期間對外發布的開羅宣言中，對臺灣主權部分明確表示戰爭結束後日本須無條件歸還臺澎。然而在 1951 年戰爭結束後的舊金山和約中，又再一次的載明要求日本放棄臺澎主權。針對上述兩項關係臺灣主權的國際文書重複的內容，下列解釋何者正確？ (A)開羅宣言不具有國際法效力，因此需要透過舊金山和約來取得法源依據 (B)舊金山和約因有日本簽約具法律效力，因此確立臺澎主權歸屬中華民國 (C)開羅宣言公布時及已具有法律效力，舊金山和約的簽訂只是再加以確認 (D)舊金山和約與開羅宣言為同盟國對於敵國處置的態度，無關國際法效力
13. 戰爭爆發後，敵軍不只轟炸城市與水庫，也封鎖港口，肥料無法順利進口，影響農業生產。許多年輕人被徵調到國外作戰，不僅勞動力短缺，農業產量下降，政府還不斷將糧食運往前線，導致本地糧食不足。這是何時何地的情況？ (A)第一次大戰時的青島 (B)第二次大戰時的香港 (C)太平洋戰爭時的臺南 (D)韓戰爆發前後的漢城

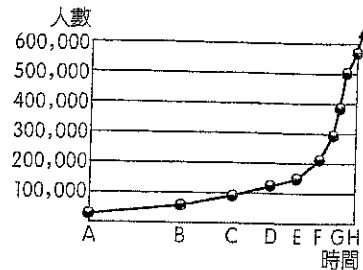
14. 英國首相邱吉爾於 1941 年 12 月拍電報給中國國民政府軍事委員會委員長蔣中正提到：「英國和美國已經受到日本的攻擊。我們一向是朋友，而現在，我們面對著一個共同的敵人。」關於這段敘述，下列何者正確？ (A)日本的攻擊指日本攻擊英、美在亞洲的殖民地 (B)共同的敵人指德國 (C)珍珠港事件促使邱吉爾發了此電報 (D)此後美軍反擊，半年內對日本取得決定性優勢
15. 一部 2006 年的電影介紹：「1945 年美軍在攻占硫磺島時，遭到日軍激烈抵抗，雙方均損失慘重。經過歷時一個月的殊死爭奪，美軍終於將美國國旗插在島上的最高點。美聯社當即拍下插旗照片，十八小時後傳回國內，將原本已厭倦戰爭的美國社會重新點燃希望的火焰。」關於這部電影、這座島嶼，以下選項何者正確？ (A)這部片的背景是美軍執行的「跳島戰術」 (B)依據開羅宣言，日本戰後將該島歸還給中華民國 (C)這場戰役後美軍逐漸扭轉情勢 (D)此戰爭為太平洋戰區中、美聯手攻日之經典



16. 鴻圖老師帶領學生到東港做一次燒王船的田野調查，為了要得知學生用何種思考角度進行觀察，因此要求學生提交學習報告。甲生：「燒王船做為宗教儀式，除了有強化文化認同的價值外，最重要的是確認個人在凝聚集體的文化共識過程中所扮演的角色以及與價值。」乙生：「我認為王船儀式本身帶有很強烈的漢人男性沙文主義，藉由排除女性在儀式中的活動參與，鞏固男性在社會決斷中至高無上的地位。」根據學生的報告內容，下列老師對其學生思考方式的理解何者正確？ (A)甲生：後現代主義／乙生：存在主義 (B)甲生：存在主義／乙生：浪漫主義 (C)甲生：現代主義／乙生：理性主義 (D)甲生：存在主義／乙生：後現代主義
17. 1950、60 年代，歐美社會出現一種新風潮：中、上層階級的年輕人，開始大量模仿、吸收都市低層社會人們的行為或事物。社會上，青年男女的品味，快速湧現平民風格。以下最能說明當時這種文化變遷現象的是 (A)追逐明星成風、熱衷選美活動 (B)搖滾樂的興起、牛仔褲的流行 (C)電話取代書信、工作取代休閒 (D)素食主義成風、節育觀念普遍
18. 有一史書記載：「這個地區被占領長達六年餘（1945～1952 年），駐軍人數在 1945 年時，高達三十五萬人以上。而這個被占領地區的國家元首地位受到了很大的改變，不只失去了原有的統治權力，並且在新憲法中，也僅存象徵地位。」請問關於這個地區所發生的占領事件敘述何者正確？ (A)這個地區之所以被占領，是因為五國和約的簽訂 (B)進入此區的三十五萬軍隊指的是聯合國部隊 (C)這個軍事占領事件是德國發動閃電戰後的結果 (D)該地被軍事占領六年後才正式簽訂和約

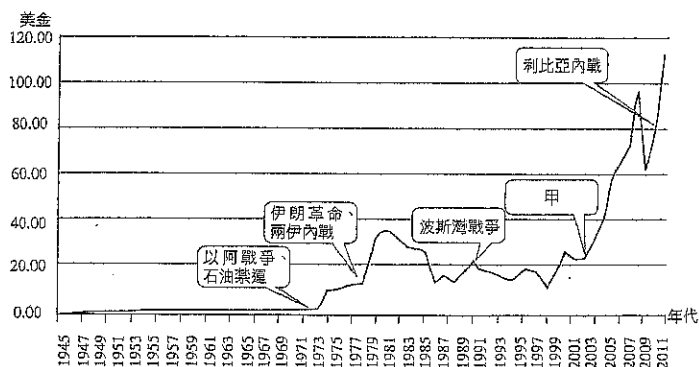
19. 某德國部隊的進行曲如下：「戰場讓我們更加團結，我們與義大利友軍一同行軍，直到和平再次降臨，等待到那回家之時。如果敵人的槍砲終結我的生命，就讓我在黃沙滾滾中長眠吧！為我吹響戰爭的號角，前進！前進！跟隨我們的隆美爾一起前進！」根據歌詞內容，可以判斷這是在何時、何處的戰場？ (A)1942年，蘇聯史達林格勒 (B)1943年，埃及開羅 (C)1944年，法國諾曼第 (D)1945年，德國柏林

20. 許多學者指出，美國與歐洲各國高等教育的大幅擴充是當代西方社會文化變遷最重要的動力之一。大學生人數的激增觸發年輕世代對政治、社會、文化和經濟等議題的關注與投入，成為世界性的現象。舉凡巴黎之春、布拉格之春和反越戰運動都與學生運動有關。右圖是歐美某國歷年大學生人數成長的統計表，被視為是其他國家高等教育發展的基本模式。請問歐美各國高等教育人數開始快速增加的時期（E～H）是在何時？
 (A) 1880～1890年代 (B) 1920～1930年代 (C) 1950～1960年代 (D) 1970～1990年代。



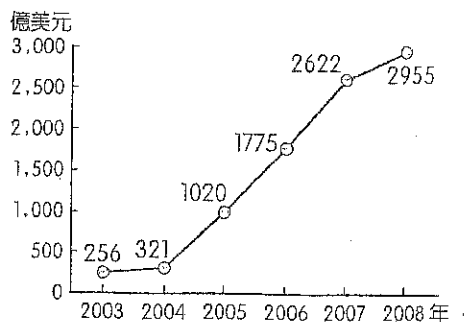
21. 某學者提出以下看法：長期以來女性被視為「不是某種理所當然和顯而易見，而男人，是。女人是他者，是否定（不存在），她們缺乏某些東西」、「女人是形成的，不是生成的」。因此主張：女人是可以有選擇的；而選擇必須建立在深刻的自覺、足夠的勇氣、以及自信與努力之上。請問有關此學者的相關歷史背景，下列何者正確？
 (A) 十五世紀文藝復興人文學者 (B) 十八世紀啟蒙主義學者
 (C) 十九世紀中社會主義學者 (D) 二十世紀中存在主義學者

22. 老師於課堂上講解二次戰後石油的供應變化時，展示一張圖片如右。請問造成「甲時期」石油價格快速飆升的原因，下列何者正確？
 (A) 美國推翻海珊政權 (B) 伊拉克入侵科威特
 (C) 以色列於中東建國 (D) 兩伊戰爭



23. 右圖是哪一國的貿易順差趨勢圖？ (A)日本 (B)中華民國 (C)俄羅斯共和國 (D)中華人民共和國。

24. 許多當代政治學者眼中所謂「二十世紀末～二十一世紀初持續而最大的衝突」是指 (A)共產思想與資本主義的鬥爭 (B)基督教文化與伊斯蘭文化的衝突 (C)自由政體與保守政體的鬥爭 (D)北半球與南半球的對抗。



25. 一部編年史如此描述 1980 年代世界局勢的變動：「經過 20 年社會、政治的劇變，一種新的政治浪潮在西方世界逐漸抬頭。這可說是一種反革命，開始於 1979 年柴契爾 (Margaret Thatcher) 夫人出任英國首相，但直到 1980 年底雷根 (Ronald Reagan) 當選美國總統後，這一浪潮才真正發揮力量。」文中所說「新的政治浪潮」所指為何？其主要政策路線為何？ (A)新自由主義；新中間路線 (B)新社會主義；福利國家 (C)新保守主義；自由市場 (D)新民主主義；人權政治。

26~55 題為題組題 (每題 1 分，共 30 分)

26~28 為題組

「法西斯主義」是一種強調民族國家至上的政治學說，它主張個人應為國家無條件犧牲奉獻。它反對民主和社會主義，主張種族主義，採取驕武的軍事外交政策，對領袖高度效忠。請問：

26. 一次大戰後，它高喊社會正義原則，承諾協助勞工大眾與中產階級改善其生活與社會地位，對於工商企業界則承諾恢復社會秩序，所以逐漸在那些地區受到支持？ (A)英、法 (B)德、義 (C)俄、奧 (D)希、土
27. 這些地區當時有何股勢力在破壞社會秩序？ (A)共產黨 (B)工人黨 (C)綠黨 (D)保守黨
28. 事實上，法西斯政權依然保障資本家和地主的既得利益，控制所有經濟活動，執行那一種政策？ (A)社會福利 (B)恐怖統治 (C)無產階級專政 (D)民族聯合陣線

29~30 為題組

阿民將甲 (發起者)、乙國簽署的協約整理如下：

- ◆ 不論是獨自的或是與他國共同的行動，兩國絕不採取任何攻擊對方的行動。
- ◆ 若有任何其他國家攻擊這兩個簽約國之一，則另一方絕不支持此發動攻擊的國家。
- ◆ 協議劃分各自在東歐的利益範圍。

29. 此項協約造成何種影響？ (A)德軍進占奧地利 (B)日本進占中國東北 (C)義大利進軍衣索比亞 (D)德軍進攻波蘭
30. 以下有關甲、乙二國的敘述，何者「錯誤」？ (A)甲國為避免兩面作戰推動此協約 (B)乙國覬覦東歐利益簽署此協約 (C)甲、乙國早從一次大戰即有合作關係 (D)甲國同時與義、日交好

31~32 為題組

下表是以世界各大洲為單位的聯合國會員數目統計圖。請問：

地區 \ 年度	1945	1955	1965
甲	22	22	24
乙	4	5	37
丙	9	21	26
丁	14	26	28

31. 甲區顯示的情況最可能屬於那一洲？ (A)美洲 (B)非洲 (C)歐洲 (D)亞洲
32. 乙區會員數目增加的主要原因為何？ (A)冷戰結束之後，許多共產國家紛紛加入聯合國 (B)蘇聯為了鞏固其地位，鼓勵加盟國參與聯合國 (C)非洲新興民族國家開始出現，並參與國際事務 (D)亞洲共產主義退潮，東南亞出現許多新興國家

33~34 為題組

以下為節錄於某文件的內容：

- ◆日本政府承認朝鮮的獨立，並放棄對朝鮮包括濟州島等島嶼的一切權利。
- ◆日本政府放棄對臺灣、澎湖等島嶼的一切權利。
- ◆日本政府放棄對千島群島、1905年9月5日獲得之庫頁島部分，以及鄰近各島嶼的一切權利。

33. 請問此文件為何？ (A) 聯合國憲章 (B) 紐倫堡大審會議記錄 (C) 舊金山和約 (D) 美國與日本安全保障條約

34. 主導此份文件的國家為何？ (A) 蘇聯 (B) 英國 (C) 美國 (D) 日本

35~36 為題組

某個日本耆老回憶道：「早年家鄉貧困，因此響應接受拓殖會社的招募移民到中國新成立的政權進行墾殖，一方面是為了生計，一方面也算是替政府守邊，鞏固邊界。……到了戰爭末期，大量敵軍衝入我們的家園，我們在完全沒有被軍隊知會的情況下，被拋棄在撤退的隊伍之後，家當都被敵軍接收，不少人凍死在那年初冬。大多數的人最後都選擇留在中國，有些人則想盡辦法回到日本，但卻備受歧視。」

35. 根據內文判斷，這位耆老「實邊」的地點會在那裡？ (A) 華南地區 (B) 滇緬地區 (C) 東北地區 (D) 外蒙地區

36. 當時這位耆老是向那國部隊投降？ (A) 中國部隊 (B) 蘇聯部隊 (C) 美國部隊 (D) 英國部隊

37~39 為題組

以下是第二次世界大戰後設立的兩條公約：

甲公約第五條：各締約國同意對於歐洲或北美之一個或數個締約國之武裝攻擊，應視為對締約國全體之攻擊。因此，締約國同意如此種武裝攻擊發生，每一締約國按照聯合國憲章第五十一條所承認之單獨或集體自衛權利之行使，……恢復並維持北大西洋區域之安全。等武裝攻擊及因此而採取之一切措施，均應立即呈報聯合國安全理事會，……。

乙公約第四條：如果在歐洲發生了任何國家或國家集團對一個或幾個締約國的進攻，每一締約國應根據聯合國憲章第五十一條行使單獨或集體自衛的權利，……立即……給予援助。……根據本條所採取的措施，將按照聯合國憲章的規定，通知安全理事會。……。

37. 這兩條公約分別為北大西洋公約與華沙公約，內容均在講述當公約組織內的締約國遭到攻擊時，其他締約國應給予協助。請問以下那個選項可做為判別甲、乙兩條公約的「關鍵字」？ (A) 甲公約「各締約國同意對於歐洲或北美」 (B) 甲公約「按照聯合國憲章第五十一條」 (C) 乙公約「在歐洲發生了任何國家或國家集團」 (D) 乙公約「使用武裝部隊」

38. 承上題，這兩條公約皆依據聯合國憲章規範並接受聯合國安全理事會管轄，請問原因為何？ (A) 這兩個組織都是聯合國的下屬組織，故接受聯合國的指導 (B) 這兩個組織背後的推動者都是安全理事會理事國，故皆援引聯合國憲章做為鞏固自身陣營的依據 (C) 這兩個組織是世界經濟組織，故皆按照聯合國規範來運作 (D) 這兩個組織的設立與聯合國有密切的關係

39. 這兩個組織是那個時代背景下的產物？ (A) 二次大戰後自由民主陣營與共產陣營間的對抗 (B) 1950年代第三世界興起 (C) 1970年代世界石油危機 (D) 1980年代新保守主義崛起

40~41 為題組

進入工業化時代後人口快速增加；2011 年全球已有七十億人口，而科學家估計至 2050 年會達到九十億。請問：

- 40.造成人口快速增加的原因是 (A)生育率提高 (B)節育政策達到效果 (C)科技進步使得死亡率下降 (D)糧食生產過剩
- 41.已開發國家和開發中國家各自有不同的人口問題，請問以下何者是已開發國家的問題？ (A)出生率高，人口增加快速 (B)青壯年人口大量外移 (C)糧食供不應求 (D)社會老齡化

42~43 為題組

「小國在世界政治的兩個層面有不同的行為模式。她們希望聯結起來，集合力量抗衡兩個超級大國，因為獨自行動很易淪為大國的附庸。她們或保持中立，或與美國結成聯盟。……一類小國在參與國際政治時，崇尚主權至上與民族主義，避免捲入超級大國之間的爭鬥。……利用某國際組織來增進小國利益……。」

- 42.上文介紹顯示出怎樣的國際情勢？ (A)歐洲國家為促進彼此的統合，而有歐洲聯盟的產生 (B)亞洲國家陸續擺脫殖民並建國，形成反西方獨霸的第三勢力 (C)中、南美洲國家為擺脫美國控制，興起社會主義風潮 (D)第三世界國家於冷戰中形成第三勢力，倡導不結盟策略
- 43.以下何者即是文中小國對抗超級大國的方式？ (A)1967 年成立的東南亞國協 (B)1955 年召開的萬隆會議 (C)1989 年成立的亞太經濟合作會議 (D)2010 年爆發的阿拉伯之春

44~45 為題組

臺灣某家跨國企業的專業經理人，在一場「二十一世紀企業大趨勢」的專題演講中強調：現代企業除了具備靈活細膩的經營手法，還必須善盡社會責任才能永續發展。……二十一世紀的企業經營，不能只知利益而輕忽道義，只重眼前而不計後果，一味競爭而忽略合作，尤不可缺少關懷與尊重的世界一家觀念，才能營造圓融和諧且富創造力的未來世界。

- 44.這家跨國企業在各國推出的商品廣告，表達了該企業瞭解世界各地不同的經驗與價值：同一產品，在 A 地是豪邁瀟灑的代表，在 B 地是幸福美滿的象徵，在 C 地則是環保節能的模範生。這家跨國企業廣告所傳達的經營理念為何？ (A)消弭階級與貧富差距 (B)重視公平性與安全性 (C)結合全球化與在地化 (D)平衡單邊與多邊主義
- 45.這家跨國企業，為了避免剝削產業勞工的利益，通常會以合理的價格自國內外採購商品，然後在旗下各大百貨超市中，以適當而穩定的價位陳列販賣。這種行銷的手法落實了那一種經營理念？ (A)公有共享 (B)社會救助 (C)社會公平 (D)社會福利

46~48 為題組

「低盪」是指 1960、1970 年代，美國和蘇聯冷戰情勢的緩和與雙方關係的改善。因為在此時日本與西歐經濟成長，使其開始採取較為獨立自主的外交政策，而不處處配合美國要求。同時中國在政治與經濟上的實力有所增長，而與蘇聯發生許多對立、摩擦，乃至軍事衝突。所以正當美蘇雙方陣營都產生內部鬆懈情況時，雙方開始調和敵對關係。請問：

- 46.低盪的表現之一是美國、加拿大、日本等國，開始派遣外交使節團到鐵幕中的那一國家？ (A)波蘭 (B)捷克 (C)東德 (D)中國
- 47.低盪達到鼎盛時，雙方簽訂那一個條約？ (A)九國公約 (B)羅加諾公約 (C)雅爾達密約 (D)禁止核子武器擴散條約
- 48.低盪在 1980 年代初期結束，和美國那位總統的堅決反共立場有關？ (A)雷根 (B)卡特 (C)福特 (D)柯林頓

49~50 為題組

第二次世界大戰以後，以美國與蘇聯為首的兩大陣營，形成對峙的局面，其對抗的形式包括軍備競賽、參與地區性戰爭與宣傳不利對方的活動等，不勝枚舉。請問：

49. 美國採取何種策略防止蘇聯共產勢力的擴張？ (A) 發展核武 (B) 中立主義 (C) 孤立主義 (D) 圍堵政策
50. 美、蘇參與地區性的衝突，在亞洲主要是那兩場戰爭？甲、韓戰；乙、國共內戰；丙、越戰；丁、波斯灣戰爭 (A) 甲丙 (B) 乙丁 (C) 甲乙 (D) 丙丁

51~53 為題組

從波羅的海的斯特汀到亞德里亞海的特雷斯，一道鐵幕已經橫跨了歐洲大陸。這道界線的彼方羅列著中歐與東歐古國的都城，這包括華沙、柏林、布拉格、維也納、布達佩斯……他們都受到□□不一而足的控制……只有雅典這個光榮的古城，因為它受到美國、英國與法國的保護，而可以自由決定其前途。

51. 請問□□所指為何？ (A) 中國 (B) 蘇聯 (C) 日本 (D) 德國
52. 題幹所說的雅典，之後更進一步在何種計畫下得到援助？ (A) 星戰計畫 (B) 莫斯科計畫 (C) 馬歇爾計畫 (D) 五年計畫
53. 這道無形的鐵幕逐漸瓦解，以下何者「不是」其瓦解的因素？ (A) □□國內的民生經濟難有起色 (B) 東歐示威潮擴大 (C) □□國內的政治紛爭 (D) 戈巴契夫箝制民主

54~55 為題組

資料一：這是美軍自越戰後主導參加的第一場大規模局部戰爭，也是一場聯合國會員國之間的戰爭。

資料二：美國組成了一個包括三十四個國家在內的聯盟，主力以美軍及英軍為主。

資料三：儘管師出有名，但國內的和平組織人士還是高喊著「不要用血換油」的口號。

分析資料，請問：

54. 這場戰爭的導火線是什麼？ (A) 恐怖分子發動九一一攻擊事件 (B) 石油輸出國組織實施石油禁運 (C) 科威特遭到侵略者占領 (D) 伊拉克擁有大規模毀滅性武器
55. 關於這場戰爭的敘述，以下何者「正確」？甲、美國與聯合國的立場並不相同；乙、戰爭仍免不了能源利益的陰影；丙、戰後美國勢力深入中東 (A) 乙丙 (B) 甲乙 (C) 甲丙 (D) 甲乙丙

56~61 為非選題（每格 1 分，共 20 分）

56. 以下是某書對極權主義的論述：「極權主義意識型態是二十世紀重要的政治型態，以共產黨及法西斯黨的統治為代表；極權主義的核心思想是要將生活的各個領域都置於(甲)的監控下。1926 年「極權主義」一詞首次被收入牛津英語辭典，這時世人已注意到世上出現兩個極權主義的國家(乙)、(丙)。至 1930 年代，因(丁)的發生，極權主義逐漸強大，世界走入極權主義的時代。」

(1) 文中的(甲)所指為何？

(2) 文中(乙)、(丙)依序應是那一國家？

(3) 文中的(丁)事件應是指 1930 年代那項重要事件？

高二歷史(社會組)14-19班 電腦閱卷答案卡

姓名：_____

年級：_____ 班別：_____ 座號：_____

科目名稱：_____

※畫線要粗黑，清晰，不可出格，擦拭要乾淨，若畫線過輕或污損不清，不為機器所接受，考生自行負責。

※請用2B鉛筆畫記。

年級		1	2	3												
班別	十	0	1	2	3	4	5	6	7	8	9					
	個	0	1	2	3	4	5	6	7	8	9					
座號	十	0	1	2	3	4	5	6	7	8	9					
	個	0	1	2	3	4	5	6	7	8	9					

↓注意題號，不要畫錯

1	A	B	C	D	E
2	A	B	C	D	E
3	A	B	C	D	E
4	A	B	C	D	E
5	A	B	C	D	E
6	A	B	C	D	E
7	A	B	C	D	E
8	A	B	C	D	E
9	A	B	C	D	E
10	A	B	C	D	E
11	A	B	C	D	E
12	A	B	C	D	E
13	A	B	C	D	E
14	A	B	C	D	E
15	A	B	C	D	E
16	A	B	C	D	E
17	A	B	C	D	E
18	A	B	C	D	E
19	A	B	C	D	E
20	A	B	C	D	E

21	A	B	C	D	E
22	A	B	C	D	E
23	A	B	C	D	E
24	A	B	C	D	E
25	A	B	C	D	E
26	A	B	C	D	E
27	A	B	C	D	E
28	A	B	C	D	E
29	A	B	C	D	E
30	A	B	C	D	E
31	A	B	C	D	E
32	A	B	C	D	E
33	A	B	C	D	E
34	A	B	C	D	E
35	A	B	C	D	E
36	A	B	C	D	E
37	A	B	C	D	E
38	A	B	C	D	E
39	A	B	C	D	E
40	A	B	C	D	E

41	A	B	C	D	E
42	A	B	C	D	E
43	A	B	C	D	E
44	A	B	C	D	E
45	A	B	C	D	E
46	A	B	C	D	E
47	A	B	C	D	E
48	A	B	C	D	E
49	A	B	C	D	E
50	A	B	C	D	E
51	A	B	C	D	E
52	A	B	C	D	E
53	A	B	C	D	E
54	A	B	C	D	E
55	A	B	C	D	E
56	A	B	C	D	E
57	A	B	C	D	E
58	A	B	C	D	E
59	A	B	C	D	E
60	A	B	C	D	E

國立台南二中 104 學年度第二學期期末考
高二歷史科答案卷(社會組)

班級：_____ 座號：_____ 姓名：_____

一、選擇題	二、非選擇題	總分

56~61 非選擇題 (每格 1 分, 共 20 分)

56	(甲)	國家或政府
	(乙)	蘇聯
	(丙)	義大利
	(丁)	經濟大恐慌
57	(1)	普普藝術
	(2)	抽象表現主義
58	(1)	西歐
	(2)	杜魯門
	(3)	蘇聯共產主義
59	(1)	阿拉伯國家聯盟
	(2)	石油輸出國組織
	(3)	條約：馬斯垂克條約
		組織：歐洲聯盟
60	(1)	戊
	(2)	英國
	(3)	甘地
61	(1)	G
	(2)	B
	(3)	D
	(4)	C到B