

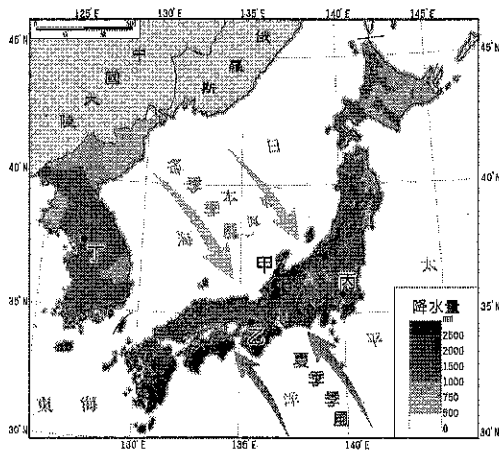

國立臺南第二高級中學 105 學年度第一學期第二次期中考

高二自然組 地理科試題


範圍：龍騰版地理 3 chap2-7 東北亞、東南亞、南亞

壹、單選題(共 50 題；每題 2 分)

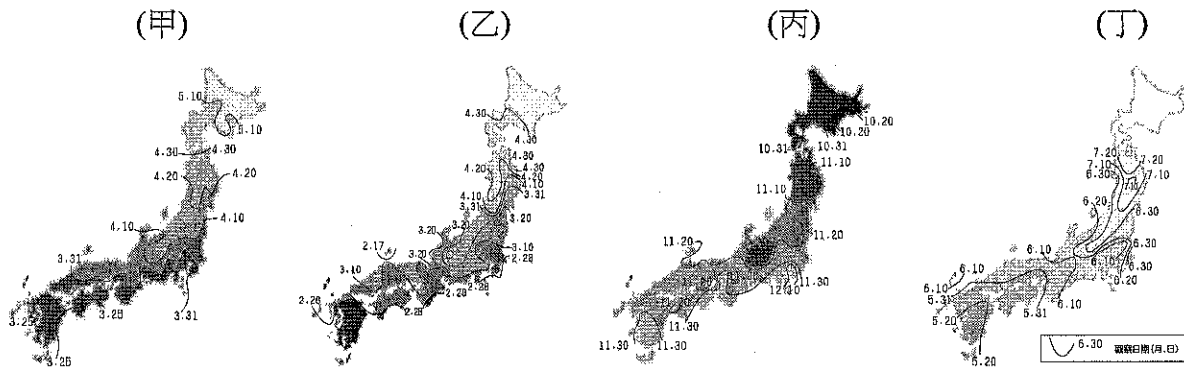
1. 「海上交通線就是日本經濟的生命線。」此一敘述是指日本經濟活動的哪一特性？
(A)本州島上的三大平原人口密集，都市林立 (B)大部分工廠集結於東京到九州一帶的海岸
(C)遠洋漁輪遍布全球，年漁獲量達一千萬公噸 (D)主要工、礦業原料需仰賴進口，工業產品運銷全球。
2. 照片是世界著名遺產合掌村的冬雪美景，請根據照片中的氣候景觀判斷該地可能位在圖中的哪個位置？ (A)甲 (B)乙 (C)丙 (D)丁。



3. 南韓的泡菜醃製方式從三國時代由中國傳入，歷經數個發展階段，形成多樣吃法，直接食用的，烤著吃的，陳年的泡菜則做成湯，據統計，南韓每人每年要吃掉 35 公斤的泡菜。請問早期南韓醃製泡菜的目的與下列哪一地理特色有密切關係？ (A)高山高原面積廣大 (B)降水量由南向北遞減 (C)實行集體農場制度 (D)冬季寒冷漫長。
4. 區域全面經濟夥伴協定 (Regional Comprehensive Economic Partnership, 簡稱 RCEP) 共有印尼、馬來西亞、菲律賓、新加坡、泰國、汶萊、越南、寮國、緬甸、柬埔寨、日本、中國、南韓、印度、澳洲、紐西蘭等 16 個成員國，目前臺灣正積極爭取加入。RCEP 的成員國中，以哪個文化區的國家為數最多？ (A)南亞文化區 (B)西方文化區 (C)東南亞文化區 (D)大洋洲文化區。
5. 印度境內宗教多元複雜，由照片可知泰姬瑪哈陵的建築形式受到哪一宗教的影響？ (A)印度教 (B)伊斯蘭教 (C)基督教 (D)佛教。
6. 「和印度農業發展息息相關的綠色革命，對於人文與自然環境造成了顯著的影響。」文中描述的兩方面影響，分別為下列何者？
(A)貧富差距擴大、土壤汙染 (B)種姓制度瓦解、沙漠化 (C)都市化發展加速、過度伐林
(D)農業組織崩解、生物多樣性消失。
7. 據某學者研究，亞太地區最有利於推動國際金融業務的地區，是以東經 120° 為中央經線的東八區時區。下列哪個都市，理論上在東七區的時區，但卻透過時區調整，變更時間與東八區一致，以利該都市發展國際金融業務？(A)東京 (B)香港 (C)新加坡 (D)坎培拉



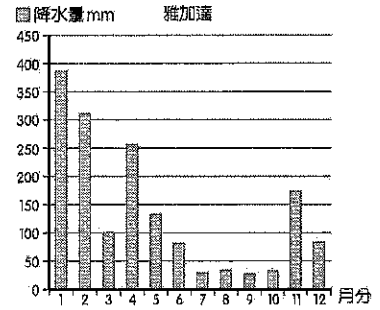
8. 下列關於日、韓各大城市特色的敘述，正確的是？ (A)祇園祭多在每年四月份在日本大阪舉行，華麗花車映照盛開櫻花，宛如一座花城 (B)京都為日本流行時尚的最主要指標都市，集結世界最新流行資訊、時尚精品 (C)北海道富良野地區以雪祭活動聞名於世 (D)韓國慶州古蹟處處，有「露天博物館」之稱。
9. 下圖是日本氣象廳發布四種動植物在 1971~2000 年的平均觀測時間圖。請問四種動植物：樹鶯、楓葉、螢火蟲、櫻花適合的觀測時間配對，依序為何？(A)丙乙丁甲 (B)乙甲丙丁 (C)乙丙丁甲 (D)甲丙丁乙。







10. 東亞的日本戰後快速復甦，被譽為日本經濟奇蹟，關於 1960 年代日本製造業快速發展的因素，下列何者正確？(甲)低儲蓄率(乙)韓戰軍需(丙)高匯率政策(丁)盡忠的民族特性(戊)年功式薪資制度(己)彈性僱用制
(A)(甲)(丁)(戊) (B)(乙)(丁)(戊) (C)(丁)(戊)(己) (D)(丙)(丁)(戊)。
11. 「泡沫經濟」是指 1985 至 1990 年間，日本社會出現了下列哪些現象？
(甲)國際油價提高，工業成本升高；(乙)剩餘資金大量投入房地產界；(丙)股市狂熱；(丁)銀行利率低；(戊)國民資產增值速度超過實質經濟成長。
(A)甲乙丙戊 (B)乙丙丁戊 (C)甲丙丁戊 (D)甲乙丙丁。
12. 日本在工業發展歷程中，為了因應生產環境改變，將需要大量勞工、低技術、高污染的製造產業外移到東南亞或中國，雖有利國際市場的競爭，但也造成國內出現產業空洞化的問題。此種產業發展趨勢，可以用下列何種概念說明？ (A)區位混合 (B)區位聚集 (C)區位擴散 (D)區位轉移。
13. 某一時期，朝廷重視海路互市，開放沿海地區，以便與阿拉伯半島的大食、印度半島的注釐 (Chola)、東南亞的蘇門答臘、爪哇、占城等地貿易，商人甚至遠從麥加前來。政府因此在廣州、泉州、杭州、明州、密州等港口設市舶司，發給貿易執照，征收貨物稅。請問：引文所述的海上貿易活動，與下列哪個南洋群島的現象關係最密切？ (A)都市化的勃興 (B)人口轉型的出現 (C)伊斯蘭教的傳播 (D)殖民地式經濟的建立。
14. 某殖民國家在殖民地推行「強迫種植制度」，農民被迫將良田種植咖啡、甘蔗、茶、菸草、胡椒等經濟作物，並規定：總耕地面積至少要有五分之一種植經濟作物。殖民政府將收穫全部運往歐洲銷售，賺取巨大財富。直到二十世紀中期，這個殖民地經由武裝抗爭才取得獨立。請問：該殖民地獨立後，具有下列哪項區域特色？ (A)居民的宗教信仰種類繁多 (B)國家經濟泡沫化日趨嚴重 (C)伊波拉病毒感染頻繁爆發 (D)人口成長進入低穩定階段。
15. 下列關於東南亞地區現代經濟發展特色的敘述，何者正確？ (A)戰後各國的第二、三級產業成長皆相當迅速 (B)東帝汶與澳洲合作開發石油、天然氣，國民所得增加，但仍舊

落後 (C)馬、泰、印尼、越四國因較早進行經濟改革，有「亞洲四小虎」之稱 (D)印尼為避免過度依賴石油，故積極發展觀光業和服務業。

16. 印尼首都雅加達位於爪哇島北部沿海地區，下圖為雅加達的多年平均降水量各月分布圖。雅加達 7~10 月分降水偏少的特性，主要的影響原因為何？(甲)位於東南信風帶的背風面(乙)副熱帶高壓帶南移，氣流下沉(丙)位於西北季風的背風面(丁)赤道低壓帶北移，氣流輻合活動減弱 (A)(甲)(乙)(B)(丙)(丁) (C)(乙)(丙) (D)(甲)(丁)。



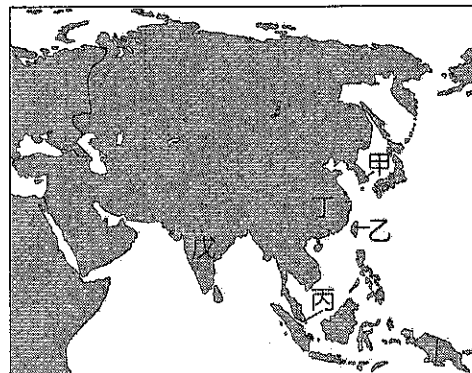
17. 在越南湄公河三角洲的省分——堅江省 (Kien Giang)，過去十年來由於肆虐的風暴及海平面上升致使家園土地流失，迫使許多家庭舉家遷移。若僅從上述現象來看，在這十年來，堅江省沿海地區最可能還出現了下列哪項環境問題？ (A)海蝕崖受到海浪侵蝕加劇，導致岩層崩塌面積擴大 (B)夏季風暴伴隨旺盛東北季風，使當地降水強度變大 (C)地下水的補注量減少，導致地層下陷作用更為明顯 (D)大片紅樹林死亡，使當地受風暴侵襲程度更加嚴重。
18. 小華利用暑假時遊歷了泰國，發現該地族群與宗教的多元文化景觀。以下何者是他比較「可能」在泰國境內看到的宗教建築？



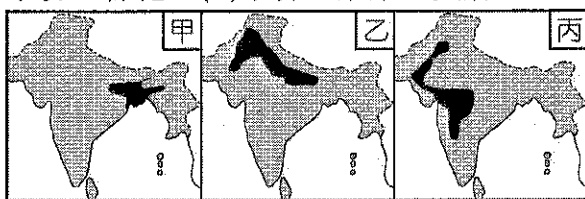
19. 東協內部達成合作共識的最主要原因為何？(甲)宗教文化複雜，企求透過合作，促使區域穩定；(乙)農礦產互補性高，會員國間之貿易可共創利潤；(丙)藉著政治上之結盟，逐步向西方資本陣營靠攏；(丁)藉由區域整合，以因應新的全球經濟秩序發展。 (A)甲乙 (B)甲丁 (C)乙丙 (D)丙丁。
20. 長期以來，印尼即以「關係印尼民族生死存亡的問題」為由，推動「國內移民」計畫。從 1960 年代到 1980 年代，共有 100 萬左右的家庭遷移他處。下列哪兩個因素是印尼推行國內移民計畫的主因？(甲)促進區域開發(乙)爪哇島居民過多(丙)土地分配不均(丁)民族混居動亂頻繁 (A)(甲)(乙) (B)(甲)(丁) (C)(乙)(丙) (D)(丙)(丁)。

21. 下表是日系電子大廠對亞洲 5 國零件組供給來源的評估。請就 I~V 的產品特徵依序與下圖的國家配對，下列何者正確？ (A)乙丁丙甲戊 (B)甲乙丙丁戊 (C)甲乙丙戊丁 (D)乙丙丁甲戊。

I	以大財閥企業為中心，提供手機用的高科技零組件
II	可提供零組件半導體科技產品
III	轉型為以轉運倉儲產業為中心的高附加價值產業
IV	以軟體產業為中心，不過難以支援日文系統
V	薪資水準低，勞動力豐富可提供零組件範圍很廣



22. 「在印度，土壤侵蝕、土質鹽化、淹水和過度放牧，已使 45% 的耕地變成不毛之地。」印度土壤的容易鹽化，和該地哪一項自然地理特性最具有關聯？ (A)德干高原地勢自西向東傾斜 (B)冬季季風來自於亞洲陸地 (C)北部喜馬拉雅山是一條新褶曲山地 (D)印度半島氣候分雨、涼、熱三季。
23. 印度半島幅員廣大，呈現多樣化的氣候特色，有全世界降雨量最多的乞拉朋吉，也有遍地黃沙的乾旱大地。其中位於印度大平原中的塔爾沙漠，降雨量極少，形成巨大沙丘的景象。請問，該地區降雨量少的成因包括下列哪些？(甲)夏季季風末端；(乙)西南季風背風坡；(丙)沿海涼流經過；(丁)副熱帶高壓籠罩。 (A)甲乙 (B)丙丁 (C)甲丁 (D)乙丙。
24. 印度成為全球 BPO 中心，與印度所具備的哪些條件關係密切？(甲)教育普及；(乙)社會穩定；(丙)工資低廉；(丁)時差優勢；(戊)英語、數理能力。 (A)甲乙戊 (B)甲丙戊 (C)乙丁戊 (D)丙丁戊。
25. 印度半島中，各地農作隨自然環境差異而有所不同。圖為該地區三種主要作物的分布圖，其依序為哪些重要的農作物？ (A)稻米、棉花、小麥 (B)茶葉、稻米、小麥 (C)稻米、小麥、棉花 (D)小麥、茶葉、黃麻。



26. 承上題，請問影響其土地利用方式的主要原因為下列何者？ (A)氣溫高低 (B)地形起伏 (C)降雨多寡 (D)土壤種類。

※ 日本人口老化的速度非常快，2010 年 65 歲以上的老人已占人口的 23%，預估 2025 年會增加至 33%，下面是關於日本人口的二則資料報導：

【資料一】據厚生勞動省的數據顯示，2009 年日本的出生人數比 2008 年減少 2 萬 2,000 多人，出生嬰兒約 106 萬 9,000 人；死亡人數則比 2008 年增加 2,000 人，達到 114 萬人。如果情況未有改變，預估到 2050 年前，日本人口將從現在 1.27 億人減少至 9,500 萬人，少了約 1/3 的人口。

【資料二】日本經濟產業省所屬的機械產業紀念事業財團報告，預計 2025 年起日本的機

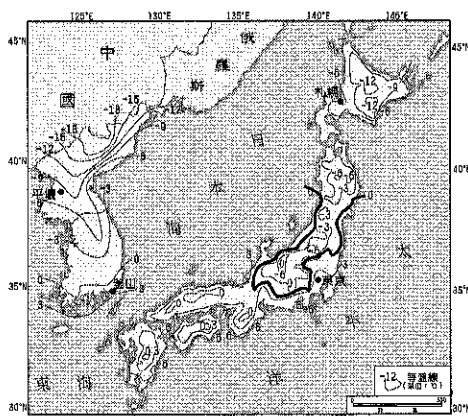
器人將擔負起 352 萬人的勞動工作，機器人將是日本未來經濟發展的重要力量。

依據上述資料，請問：

27. 從資料一中推測，日本的人口結構出現哪些現象？(甲)性別比例失衡(乙)少子化(丙)人口老化(丁)人口增加率降低 (A)(甲)(乙)(丙) (B)(甲)(乙)(丁) (C)(甲)(丙)(丁) (D)(乙)(丙)(丁)。
28. 資料二中提到日本的機器人將替代勞動工作，其主要目的為何？ (A)解決社會勞力不足 (B)避免產業空洞化 (C)瓦解終身僱用制 (D)延後經濟泡沫化。

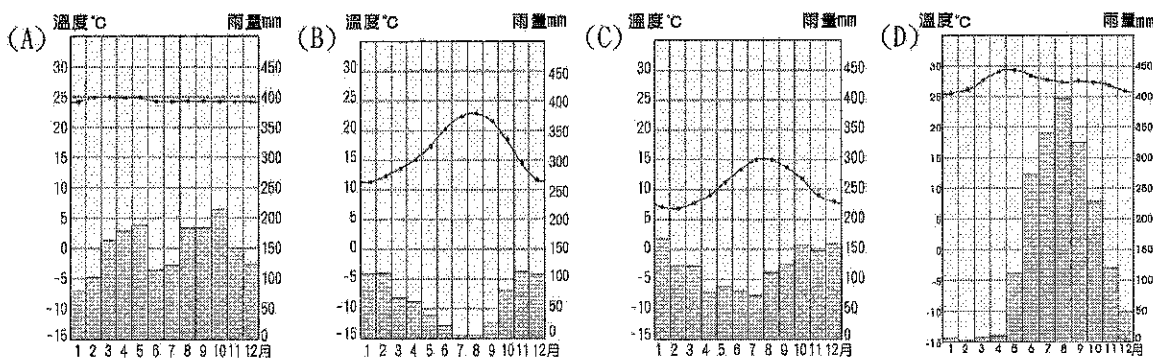
※ 右圖為東亞地區一月月均溫分布圖。請問：

29. 在朝鮮半島部分，一月-18~0°C 的等溫線大致呈現向南凸出的狀況，造成等溫線如此分布型態的最主要因素是什麼？ (A)地形 (B)海陸分布 (C)洋流性質 (D)季風風向。
30. 造成日本本州 0°C 等溫線，呈 U 字形的原因可能為下列何者？(甲)洋流；(乙)坡向；(丙)地勢高低；(丁)季風風向。 (A)甲乙 (B)乙丙 (C)甲丙 (D)丙丁。



※ 小詩在對東南亞某國的報告中寫到：「這個國家由七千多個島嶼組成，地震、火山活動頻繁，夏季常受颱風侵襲，然自然環境也造就了豐富的生態資源和生物多樣性。」請問：

31. 根據小民的報告內容判斷某國應是 (A)越南 (B)印尼 (C)馬來西亞 (D)菲律賓。
32. 該國應是屬於下列哪一種氣候類型？


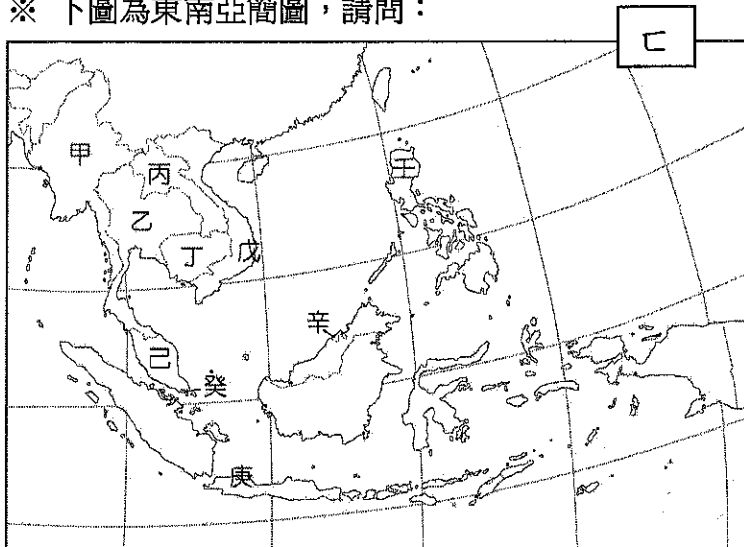


※ 下方照片是東南亞某地一個教堂，其形式與建築外觀展現東西多元文化的色彩。請問：

33. 東南亞地區多元文化色彩濃厚，和該地區哪項地理特徵關係最密切？ (A)位居大陸和島嶼的過渡帶 (B)地處熱帶雨林與熱帶季風氣候帶 (C)位居印度洋與太平洋航運交會帶 (D)地處印 澳板塊和歐 亞板塊的接觸帶。
34. 該地出現上方照片所示的教堂形式，和哪兩個族群的交互作用關係最密切？ (A)英國人、印度人 (B)荷蘭人、中國人 (C)葡萄牙人、馬來人 (D)西班牙人、阿拉伯人。



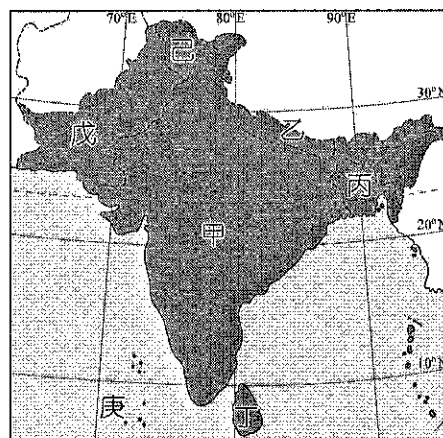
※ 下圖為東南亞簡圖，請問：



照片(1)

35. ㄅ~ㄿ何者應為赤道的位置？(A)ㄅ (B)ㄶ (C)ㄽ (D)ㄿ。
36. 知名跨國公司如 HSBC、HP、Citigroup 最近都紛紛將在印度的外包客服中心移到東南亞的某一國家，若從各方面條件考量，東南亞哪一國家最具發展外包服務中心業務的優勢？(A)甲 (B)乙 (C)己 (D)壬。
37. 照片(1)是在何國境內所拍攝？(A)丙 (B)丁 (C)戊 (D)己。
38. 「在印尼蘇門答臘島的東部平原，遍布著沼澤和湖泊，雖然島上的可耕地面積比例不及爪哇島，對農業不利，但卻是印尼在近代的經濟發展上極為重要的地區，因為『地上出油，地下也出油』。」文中所述的「兩種油」，今日東南亞哪一個國家的產量亦皆相當豐沛？(A)乙 (B)戊 (C)己 (D)辛。
39. 何者在第二次世界大戰前，因位於英、法兩殖民強權之間的緩衝位置，而得以保持獨立？(A)乙 (B)丙 (C)丁 (D)己。
40. 一般而言，移民者移居到他鄉後，常會將地名、信仰、飲食等原鄉文化帶到新故鄉。哪一個國家可以看到許多中國式的建築和道教信仰，並保留完整「儒釋道」精神？(A)甲 (B)己 (C)戊 (D)辛。

※ 南亞的宗教派別與分布甚為複雜，下圖為南亞各國簡圖：



41. 哪些國家或地區的主要宗教信仰與南亞地區西側的阿富汗、伊朗等國一致？(A)甲乙丙丁 (B)甲乙戊己 (C)乙丙丁戊 (D)丙戊己庚。

42. 丁及庚為南亞印度洋上的兩個島國，分居印度半島南方的東、西兩側，下列關於兩國共同性的比較，何者正確？ (A)皆以紅茶出口為主要經濟支柱 (B)皆曾淪為英國屬地 (C)皆以小乘佛教為主要的宗教信仰 (D)皆因位於印度洋中洋脊上而火山作用活躍。
43. 「這個國家為南亞地區信仰伊斯蘭教比例最高的國家，穆斯林的人數達到總人口數的 99%。受到全球暖化的影響，這裡未來將會是產生首批環境難民的國度。」請問文中所指的國家為下列何者？ (A)庚 (B)丙 (C)戊 (D)丁。
44. 丙地的水患相當頻繁，被稱為世界上水患最多的地區。幾乎每年定期發生的水患，為當地的居民及作物帶來浩劫。請問，該國水患成因中，與下列哪些相關？(甲)熱帶氣旋；(乙)鋒面；(丙)西南季風；(丁)三角洲地形；(戊)海嘯；(己)海水倒灌。 (A)甲乙丙丁 (B)甲丙丁戊 (C)乙丙丁己 (D)甲丙丁己。

※ 下列是有關於南韓經濟的三篇報導。請問：

甲：「美國、歐盟和中國全球三大經濟體都成了南韓的 FTA 經濟領土。未來南韓的 FTA 經濟領土規模可望繼續擴大。目前南韓正與紐西蘭和越南等國進行 FTA 談判，很有可能在年內達成。若包括日後可能簽訂的中日韓 FTA 和區域全面經濟夥伴協定 (RCEP)，南韓經濟領土占世界 GDP 比率可能突破 80%。」

乙：「由於積極扶植重化工業發展及努力拓展工業產品為主的出口，重化工業生產占製造業總生產比重超過 50%。」

丙：「因半導體國際價格急速下跌，出口環境惡化，使南韓企業之庫存快速增加，這種生產過剩現象使過度借貸之南韓企業還款困難，呆帳由企業擴展至金融機構和證券公司，以成長至上的「韓國體質」加上受到東南亞金融危機之波及，終於使南韓成為 OECD 加盟國中第一個受 IMF 接管經濟的國家。」

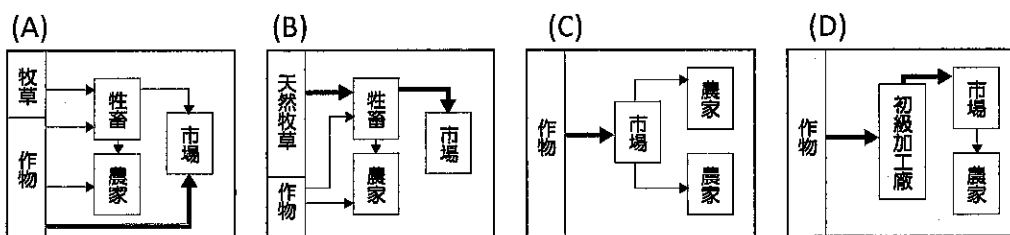
45. 此三篇報導依時間發生的前後順序為何？ (A)甲乙丙 (B)甲丙乙 (C)乙丙甲 (D)丙乙甲。
46. 根據丙報導，所謂的「韓國體質」有下列何項特徵？ (A)中小企業眾多 (B)少數大型企業掌握利益 (C)可靈活應變金融危機 (D)使國內貧富差距縮小。

※ 某一國家，宗教色彩相當濃厚，居民除 80%左右信奉該國的主流宗教外，其餘 20%則各有不同的信仰，宗教類別與內涵相當豐富多樣。居民使用的語言也很複雜，該國憲法除規定 2 種全國通用的語言外，還認可 15 種以上的官方語言。全國有 60%左右的人口務農，將近半數的人口生活於聯合國訂定的貧窮線之下。2014 年該國人類發展程度指標 (HDI) 只有 0.609，世界排名第 130。請問：

47. 該國具有下列哪二項特質？(甲)世界古文明的發源地之一；(乙)猶太教和伊斯蘭教的發源地；(丙)1858~1947 年間曾受英國殖民統治；(丁)葡萄牙引進黑奴在該國發展熱帶栽培業；(戊)生產的白銀曾於明朝中葉以後大量流入中國。 (A)甲丙 (B)甲戊 (C)乙丁 (D)丙戊。
48. 該國「2014 年人類發展程度指標 (HDI) 只有 0.609，世界排名第 130。」和下列哪二項因素關係最密切？(甲)都市化程度低；(乙)國民平均預期壽命短；(丙)國內生產毛額 (GDP) 低；(丁)國民平均受學校教育年數短。 (A)甲乙 (B)甲丙 (C)乙丁 (D)丙丁。

※ 印尼擁有世界第四大人口，藉由加入東協，2011 年經濟成長率創下 1996 年以來新高，達到 6.5%，是東協十國年經濟成長率最高的國家。高成長率吸引外商大量投資，連帶提升印尼人均所得和降低失業率，並成為金磚四國外較閃亮的一國。雖然國內經濟成長率高，但對於生態保育的推行不夠澈底，也使印尼陷入開發及保育的兩難中。請問：

49. 東協各國從 1967 年最初為防範共產勢力擴張，後來轉往經濟領域合作，並在 2010 年成立「東協加一」(ASEAN-China)，然後進一步推動「東協加三」(EAFTA)、「東協加六」(CEPEA)。東協推動加一、加三、加六的主要因素，與下列何種關係最為密切？
 (A)全球跨國資金流動頻繁 (B)避免產業外移或空洞化 (C)區域內民族組成較複雜 (D)區域內各國出口優勢產品相似。
50. 印尼生態保育被外界認為推行不夠澈底，理由與蘇門答臘和爪哇島的雨林被砍伐，面積逐年縮減有關。砍伐雨林後的土地除了做為建地外，還與當地主要從事何種農牧業型態有關？



電腦閱卷答案卡

姓名：高二地理(自然組)

年級：_____ 班別：_____ 座號：_____

科目名稱：_____

※畫線要粗黑，清晰，不可出格，擦拭要乾淨，若畫線過輕或污損不清，不為機器所接受，考生自行負責。

※請用 2 B 鉛筆畫記。

年級	1	2	3								
班別	十	0	1	2	3	4	5	6	7	8	9
	個	0	1	2	3	4	5	6	7	8	9
座號	十	0	1	2	3	4	5	6	7	8	9
	個	0	1	2	3	4	5	6	7	8	9

↓注意題號，不要畫錯

1	<input type="checkbox"/> A <input type="checkbox"/> B <input type="checkbox"/> C <input type="checkbox"/> D <input type="checkbox"/> E
2	<input type="checkbox"/> A <input type="checkbox"/> B <input type="checkbox"/> C <input type="checkbox"/> D <input type="checkbox"/> E
3	<input type="checkbox"/> A <input type="checkbox"/> B <input type="checkbox"/> C <input type="checkbox"/> D <input type="checkbox"/> E
4	<input type="checkbox"/> A <input type="checkbox"/> B <input type="checkbox"/> C <input type="checkbox"/> D <input type="checkbox"/> E
5	<input type="checkbox"/> A <input type="checkbox"/> B <input type="checkbox"/> C <input type="checkbox"/> D <input type="checkbox"/> E
6	<input type="checkbox"/> A <input type="checkbox"/> B <input type="checkbox"/> C <input type="checkbox"/> D <input type="checkbox"/> E
7	<input type="checkbox"/> A <input type="checkbox"/> B <input type="checkbox"/> C <input type="checkbox"/> D <input type="checkbox"/> E
8	<input type="checkbox"/> A <input type="checkbox"/> B <input type="checkbox"/> C <input type="checkbox"/> D <input type="checkbox"/> E
9	<input type="checkbox"/> A <input type="checkbox"/> B <input type="checkbox"/> C <input type="checkbox"/> D <input type="checkbox"/> E
10	<input type="checkbox"/> A <input type="checkbox"/> B <input type="checkbox"/> C <input type="checkbox"/> D <input type="checkbox"/> E
11	<input type="checkbox"/> A <input type="checkbox"/> B <input type="checkbox"/> C <input type="checkbox"/> D <input type="checkbox"/> E
12	<input type="checkbox"/> A <input type="checkbox"/> B <input type="checkbox"/> C <input type="checkbox"/> D <input type="checkbox"/> E
13	<input type="checkbox"/> A <input type="checkbox"/> B <input type="checkbox"/> C <input type="checkbox"/> D <input type="checkbox"/> E
14	<input type="checkbox"/> A <input type="checkbox"/> B <input type="checkbox"/> C <input type="checkbox"/> D <input type="checkbox"/> E
15	<input type="checkbox"/> A <input type="checkbox"/> B <input type="checkbox"/> C <input type="checkbox"/> D <input type="checkbox"/> E
16	<input type="checkbox"/> A <input type="checkbox"/> B <input type="checkbox"/> C <input type="checkbox"/> D <input type="checkbox"/> E
17	<input type="checkbox"/> A <input type="checkbox"/> B <input type="checkbox"/> C <input type="checkbox"/> D <input type="checkbox"/> E
18	<input type="checkbox"/> A <input type="checkbox"/> B <input type="checkbox"/> C <input type="checkbox"/> D <input type="checkbox"/> E
19	<input type="checkbox"/> A <input type="checkbox"/> B <input type="checkbox"/> C <input type="checkbox"/> D <input type="checkbox"/> E
20	<input type="checkbox"/> A <input type="checkbox"/> B <input type="checkbox"/> C <input type="checkbox"/> D <input type="checkbox"/> E

21	<input type="checkbox"/> A <input type="checkbox"/> B <input type="checkbox"/> C <input type="checkbox"/> D <input type="checkbox"/> E
22	<input type="checkbox"/> A <input type="checkbox"/> B <input type="checkbox"/> C <input type="checkbox"/> D <input type="checkbox"/> E
23	<input type="checkbox"/> A <input type="checkbox"/> B <input type="checkbox"/> C <input type="checkbox"/> D <input type="checkbox"/> E
24	<input type="checkbox"/> A <input type="checkbox"/> B <input type="checkbox"/> C <input type="checkbox"/> D <input type="checkbox"/> E
25	<input type="checkbox"/> A <input type="checkbox"/> B <input type="checkbox"/> C <input type="checkbox"/> D <input type="checkbox"/> E
26	<input type="checkbox"/> A <input type="checkbox"/> B <input type="checkbox"/> C <input type="checkbox"/> D <input type="checkbox"/> E
27	<input type="checkbox"/> A <input type="checkbox"/> B <input type="checkbox"/> C <input type="checkbox"/> D <input type="checkbox"/> E
28	<input type="checkbox"/> A <input type="checkbox"/> B <input type="checkbox"/> C <input type="checkbox"/> D <input type="checkbox"/> E
29	<input type="checkbox"/> A <input type="checkbox"/> B <input type="checkbox"/> C <input type="checkbox"/> D <input type="checkbox"/> E
30	<input type="checkbox"/> A <input type="checkbox"/> B <input type="checkbox"/> C <input type="checkbox"/> D <input type="checkbox"/> E
31	<input type="checkbox"/> A <input type="checkbox"/> B <input type="checkbox"/> C <input type="checkbox"/> D <input type="checkbox"/> E
32	<input type="checkbox"/> A <input type="checkbox"/> B <input type="checkbox"/> C <input type="checkbox"/> D <input type="checkbox"/> E
33	<input type="checkbox"/> A <input type="checkbox"/> B <input type="checkbox"/> C <input type="checkbox"/> D <input type="checkbox"/> E
34	<input type="checkbox"/> A <input type="checkbox"/> B <input type="checkbox"/> C <input type="checkbox"/> D <input type="checkbox"/> E
35	<input type="checkbox"/> A <input type="checkbox"/> B <input type="checkbox"/> C <input type="checkbox"/> D <input type="checkbox"/> E
36	<input type="checkbox"/> A <input type="checkbox"/> B <input type="checkbox"/> C <input type="checkbox"/> D <input type="checkbox"/> E
37	<input type="checkbox"/> A <input type="checkbox"/> B <input type="checkbox"/> C <input type="checkbox"/> D <input type="checkbox"/> E
38	<input type="checkbox"/> A <input type="checkbox"/> B <input type="checkbox"/> C <input type="checkbox"/> D <input type="checkbox"/> E
39	<input type="checkbox"/> A <input type="checkbox"/> B <input type="checkbox"/> C <input type="checkbox"/> D <input type="checkbox"/> E
40	<input type="checkbox"/> A <input type="checkbox"/> B <input type="checkbox"/> C <input type="checkbox"/> D <input type="checkbox"/> E

41	<input type="checkbox"/> A <input type="checkbox"/> B <input type="checkbox"/> C <input type="checkbox"/> D <input type="checkbox"/> E
42	<input type="checkbox"/> A <input type="checkbox"/> B <input type="checkbox"/> C <input type="checkbox"/> D <input type="checkbox"/> E
43	<input type="checkbox"/> A <input type="checkbox"/> B <input type="checkbox"/> C <input type="checkbox"/> D <input type="checkbox"/> E
44	<input type="checkbox"/> A <input type="checkbox"/> B <input type="checkbox"/> C <input type="checkbox"/> D <input type="checkbox"/> E
45	<input type="checkbox"/> A <input type="checkbox"/> B <input type="checkbox"/> C <input type="checkbox"/> D <input type="checkbox"/> E
46	<input type="checkbox"/> A <input type="checkbox"/> B <input type="checkbox"/> C <input type="checkbox"/> D <input type="checkbox"/> E
47	<input type="checkbox"/> A <input type="checkbox"/> B <input type="checkbox"/> C <input type="checkbox"/> D <input type="checkbox"/> E
48	<input type="checkbox"/> A <input type="checkbox"/> B <input type="checkbox"/> C <input type="checkbox"/> D <input type="checkbox"/> E
49	<input type="checkbox"/> A <input type="checkbox"/> B <input type="checkbox"/> C <input type="checkbox"/> D <input type="checkbox"/> E
50	<input type="checkbox"/> A <input type="checkbox"/> B <input type="checkbox"/> C <input type="checkbox"/> D <input type="checkbox"/> E
51	<input type="checkbox"/> A <input type="checkbox"/> B <input type="checkbox"/> C <input type="checkbox"/> D <input type="checkbox"/> E
52	<input type="checkbox"/> A <input type="checkbox"/> B <input type="checkbox"/> C <input type="checkbox"/> D <input type="checkbox"/> E
53	<input type="checkbox"/> A <input type="checkbox"/> B <input type="checkbox"/> C <input type="checkbox"/> D <input type="checkbox"/> E
54	<input type="checkbox"/> A <input type="checkbox"/> B <input type="checkbox"/> C <input type="checkbox"/> D <input type="checkbox"/> E
55	<input type="checkbox"/> A <input type="checkbox"/> B <input type="checkbox"/> C <input type="checkbox"/> D <input type="checkbox"/> E
56	<input type="checkbox"/> A <input type="checkbox"/> B <input type="checkbox"/> C <input type="checkbox"/> D <input type="checkbox"/> E
57	<input type="checkbox"/> A <input type="checkbox"/> B <input type="checkbox"/> C <input type="checkbox"/> D <input type="checkbox"/> E
58	<input type="checkbox"/> A <input type="checkbox"/> B <input type="checkbox"/> C <input type="checkbox"/> D <input type="checkbox"/> E
59	<input type="checkbox"/> A <input type="checkbox"/> B <input type="checkbox"/> C <input type="checkbox"/> D <input type="checkbox"/> E
60	<input type="checkbox"/> A <input type="checkbox"/> B <input type="checkbox"/> C <input type="checkbox"/> D <input type="checkbox"/> E