

國立台南二中 106 學年度高二適性班考試 社會科試題

一、單選題(60 題，每題 2 分，總分 120 分)

1. 圖 1 為木瓜溪支流與花蓮溪支流發生河川襲奪的示意圖。關於襲奪之後的河流特徵敘述，何者「錯誤」？
 (A)D 河因侵蝕基準下降，侵蝕能力增強 (B)B 河因流量減少、堆積量減少
 (C)A 河為搶水河，因流量增加，侵蝕能力增強 (D)C 河因流量增加而回春。

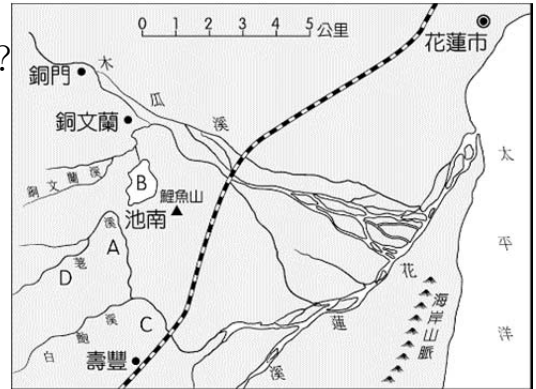


圖 1

2. 臺灣超商不僅是初期的取代「柑仔店」，現在也賣 3C 產品、蔬果、地方特產，甚至電視，近年更成為有座位區的簡餐店、咖啡店，業態變化迅速；近年來的超商競爭變化可能導致的改變是：(甲)商闖縮小；(乙)商闖擴大；(丙)縮小商品圈；(丁)擴大商品圈。請問正確的為何？ (A)甲丙 (B)乙丁 (C)甲丁 (D)乙丙。

國家	距離 (km)	方位角
甲	2,100	51°
乙	5,650	128°
丙	9,890	270°
丁	8,710	330°

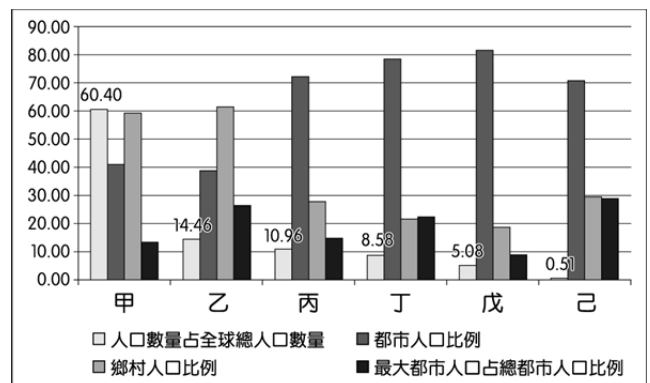
3. 右表是四個國家首都與臺北的距離，與以臺北為中心的方位角。請問表中哪個國家，最可能看見極光景觀？ (A)甲 (B)乙 (C)丙 (D)丁。

4. 早期都市發展多缺乏完善規劃，在都市長期發展之後常須以都市更新來改善長期衍生的都市問題。都市更新意指因早期欠缺規劃或建築物老舊，為促進土地利用再開發，復甦都市機能，改善居住環境，增進公共利益，在都市計畫範圍內，依據法定程序，實施重建、整建或維護措施等作為。請問右圖的都市內部結構圖中，哪一地區最有迫切都市更新的需求？ (A)2 (B)3 (C)4 (D)5。



5. 「臺灣的菁華工業是一間世界知名的染整廠，廠區內由機器找染料、加配方、秤重，若誤差超標，電腦就會自動停止；另外菁華還投資上游機能布，蓋下游成衣廠，從纖維、紡紗、針織、染整到成衣，成為全球頂尖刷毛供應商。」引文中菁華的生產過程和經營模式符合下列幾項工業特徵？(甲)垂直整合；(乙)水平整合；(丙)水平分工；(丁)垂直分工；(戊)自動化；(己)標準化；(庚)規格化。 (A)一項 (B)二項 (C)三項 (D)四項。

6. 附圖為 2007 年世界人口城鄉分布資料。甲~己代表六大洲 (亞洲、歐洲、非洲、北美洲、中南美洲和大洋洲)。請問哪兩洲的都市規模型態最接近首要型？ (A)甲己 (B)乙丁 (C)丙丁 (D)丁戊。



7. 圖 2 為某地土地利用圖，圖 3 為農業產值比例，請問該區域的農業類型最可能是何者？

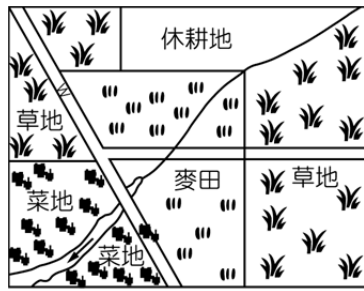


圖 2 0 100km

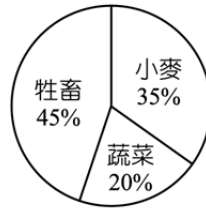
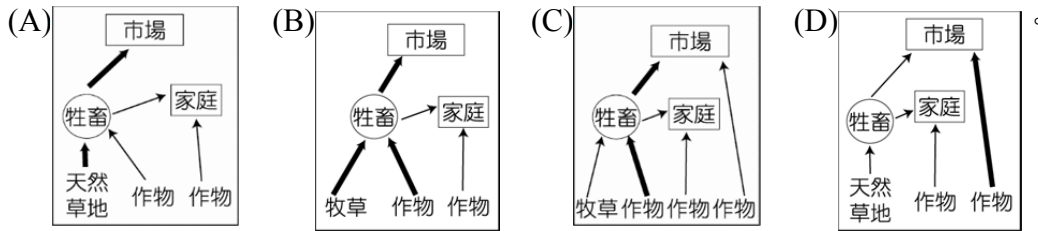
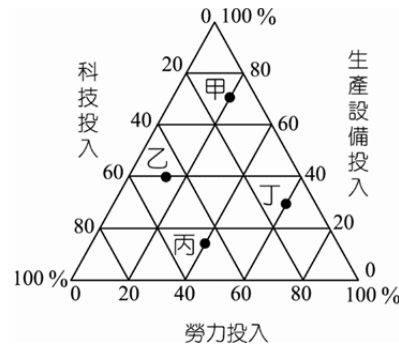


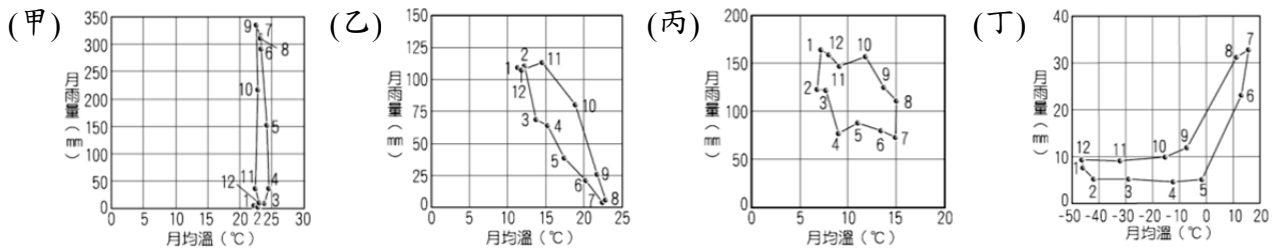
圖 3



8. 照片中為某地的農業活動，請問該農業活動的特色最可能符合圖中何者？ (A)甲 (B)乙 (C)丙 (D)丁。



◎圖甲~丁是四種氣候類型的氣溫雨量坐標落點圖，圖上的數字代表月分。請回答 9-11 題：



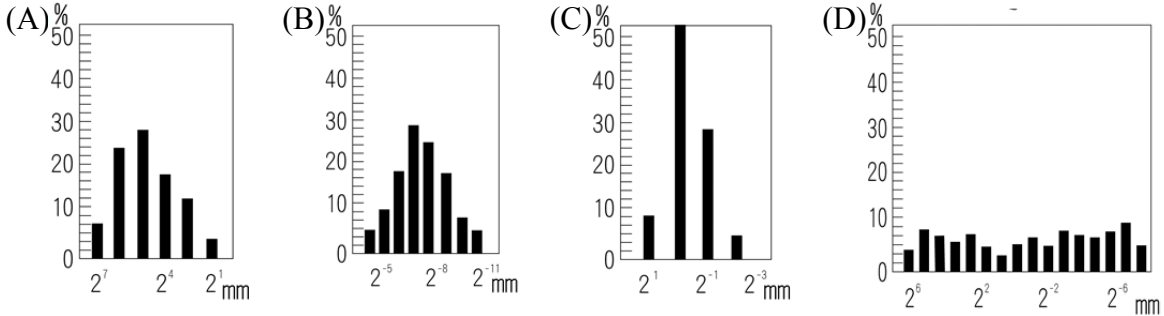
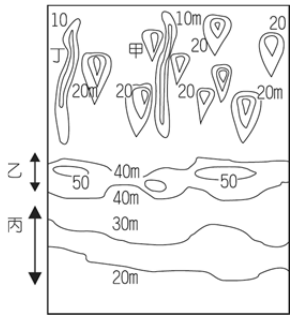
9. 何種氣候類型的降水來源，深受赤道無風帶的影響？ (A)甲 (B)乙 (C)丙 (D)丁。
10. 「老王是當地的農人，在農場中經營葡萄、柳橙、檸檬等作物已有 10 年的時間，每到夏季，老王便會特別注意農田裡的灌溉水源是否充足...。」引文中老王農場所在地區，其氣候類型最有可能為何者？ (A)甲 (B)乙 (C)丙 (D)丁。
11. 下列關於「丁」分布區的敘述，何者正確？(甲)地處嚴寒的極圈之內，其北界與最暖月均溫 0°C 等溫線分布一致；(乙)當地天然植被在歐亞大陸及北美呈現完整的帶狀分布；(丙)土壤化育以灰化作用為主，為酸性的灰化土；(丁)地衣為地表的主要植物，植物葉片為針狀且具有厚角質層；(戊)動物分布以具有冬眠或會遷徙的物種為主。 (A)甲乙丙丁戊 (B)甲丁戊 (C)乙丙戊 (D)乙丙丁戊。

◎ 「中洲」，行政區域隸屬臺南市學甲區，昔為學甲十三庄之一，相傳明鄭入臺以後，有一運糧官名為陳一桂（或為陳一貴）率領其部眾在「頭港」與將軍溪畔的「頭前寮」登陸，並在這兩溪之間的浮洲建立聚落，初取名為「中州」，大有再返「神州」復我大明之意，後來以當地地形寫成「中洲」。請回答 12-13 題：

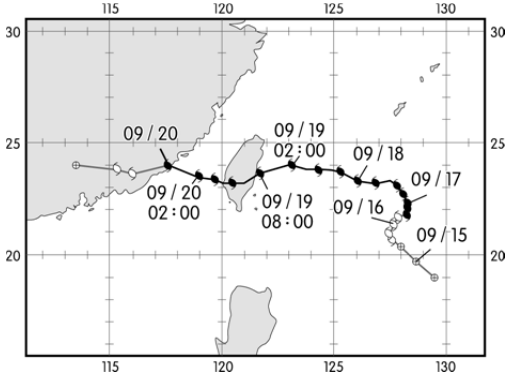
12. 此一聚落在地理環境上發展可能遭遇的困難為何？ (A)位沖積扇面上，缺水灌溉 (B)位沖積扇端，易積水不退 (C)位河口沙洲上，易生水患 (D)地當東北季風迎風坡，作物難生。
13. 明鄭時期初登陸時此地鄰近海邊，現已離海邊數公里遠，由此可以推論當地屬於哪一種海岸地形？ (A)沉水堆積 (B)離水堆積 (C)離水侵蝕 (D)沉水侵蝕。

◎ 右圖為某一冰河消融後之等高線地形圖，請回答 14-16 題：

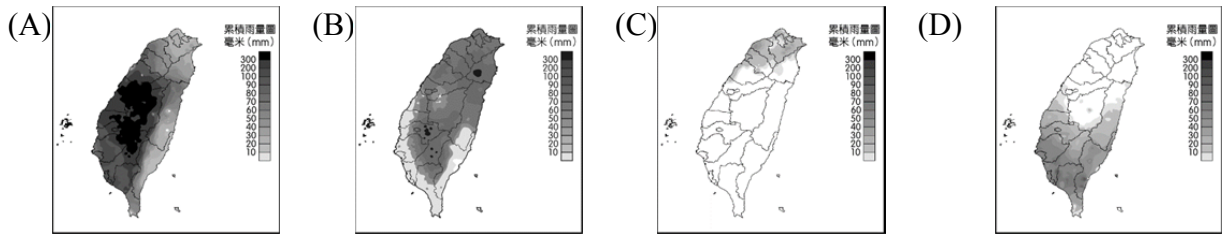
14. 圖中哪一組地形與「冰水沉積」作用有關？ (A)甲乙 (B)乙丙 (C)丙丁 (D)甲丙丁。
15. 由圖判斷此冰河流向應是： (A)由北向南 (B)由東向西 (C)由西向東 (D)由南向北。
16. 甲地堆積物的粒度組成應是下列何者？【圖中橫軸表示顆粒的直徑 (mm)，縱軸表示此物中該直徑的顆粒所占的重量百分比 (%)】



◎ 下圖為氣象局所發布凡那比颱風於 99 年 9 月 15 日～9 月 20 日的路徑圖，請回答 17-18 題：



17. 氣象局對各地降水進行了預測，如果縣市首長想要根據降水資料了解轄區內可能淹水地區，先行防洪作業或疏散避災，可以利用 GIS 系統中的何種分析方法？ (A)地勢分析 (B)視域分析 (C)最佳路徑分析 (D)環域分析。
18. 19 日 02:00 至 08:00 颱風逐漸接近臺灣，這段時間臺灣地區的降水量累積圖應較接近下列何者？



◎ 下表為2014年臺灣四個縣市(宜蘭縣、嘉義縣、臺北市、臺南市)的人口資料。請回答19-20題：

縣市	總人口數 (人)	性別(人)		年齡組成(%)		
		男	女	0~14歲	15~64歲	65歲以上
甲	524,783	273,324	251,459	11.40	71.75	16.84
乙	1,884,284	944,069	940,215	13.14	74.24	12.62
丙	2,702,315	1,295,636	1,406,679	14.17	71.75	14.08
丁	458,777	232,814	225,963	13.18	72.99	13.83

19. 上述四個縣市中，2014年哪一個縣市的性別比最低？ (A)甲 (B)乙 (C)丙 (D)丁。
 20. 下表為此四縣市的縣市政府所在之二度分帶坐標值，下列何者搭配正確？(A)甲—④ (B)乙—② (C)丙—① (D)丁—③。

①	②	③	④
(327162, 2736149)	(166441, 2543570)	(177764, 2595287)	(306888, 2770044)

21. 如果小叮噹是西周的平民，請問他會過著下列何種生活？ (A)他為貴族耕田，若是公田則收穫歸貴族所有 (B)他若非嫡子，就會淪落變成奴隸 (C)他若是「野人」，還得遵循禮制的規範 (D)他不需要到貴族的家中去做工。
 22. 《後漢書·皇后紀上》：「自古雖主幼時艱，王家多釁，必委成冢宰，簡求忠賢，未有專任婦人，……唯秦苻太后，始攝政事，故穰侯權重於昭王，……漢仍其謬，知患莫改。東京皇統屢絕，權歸女主，外立者四帝，臨朝者六后，莫不定策帷幄，委事父兄，貪孩童以久其政，抑明賢以專其威。」依據上文，下列敘述何者正確？ (A)說明西漢初年，高祖的呂后、武帝的衛后均臨朝聽政，重用外戚，敗壞朝綱的現象 (B)說明東漢未記取教訓，君主年幼登基，母后掌權，使外戚得勢 (C)上文所言，外立者四帝指的是西漢文、宣、哀、孺子嬰四帝 (D)引文所言之政治現象，致使宦官與名士儒生結合，打擊外戚，引發董卓之亂。
 23. 「這一段盛世長達一百三十多年，在平定封建諸侯的叛亂後，內部的統治愈見鞏固；對西北諸部多次用兵，將今日的蒙古、新疆、西藏納入版圖。君主的權力達於極盛。但在輝煌的表象下，有一股嚴厲的政風。政府雖然表面上大力支持學術事業，不少讀書人卻因文字觸犯忌諱慘遭迫害，許多書籍也因同樣的原因遭到刪改或焚毀。」這段文字描述的是何時的景況？ (A)唐 (B)元 (C)明 (D)清。
 24. 一段文獻記載：「明朝後期，一群士人不滿朝政紊亂，並對當時放任的學術風氣感到憂心，曾嘗試導正學風。由於他們在講學的同時，往往也針砭朝政，因此被政府當權者視之為結黨營私而遭到迫害。之後國家內部發生動亂，不久即亡國。」關於上文，請問下列哪一種說法最為正確？ (A)這群士人所批判的「學術風氣」是指宋代以來盛行的程朱學派理學

- (B)這群士人講學的書院應是指東林書院 (C)文中的「政府當權者」應是以倭仁為首的大學士 (D)「國家發生動亂」應指明末的倭寇侵擾。
25. 有位開國帝王認為他之所以能夠輕易篡位成功，是因為前朝未行封建，所以即位後大封宗室及子弟為王。諸王在自己的封國，得自選文武官吏，並擁有自己的軍隊，於是諸王成為割據勢力，而且鑑於前朝地方州郡兵權太重，演變成群雄割據，所以在他認為天下已定之後，便撤除州郡武備，也因此形成「內輕外重」之局。這應是對於哪一朝代的描述？ (A)東漢 (B)曹魏 (C)西晉 (D)隋。
26. 張三編寫的歷史劇《七世紀商人李生傳奇》，被學者批評其史實錯誤連連。劇中有以下幾段情節，請依據歷史知識判斷，哪一個選項依據的是正確的史實？ (A)李生到長安做生意，他選擇了位在長安城南，面對長安大街的住家，並改裝為店面 (B)接著李生來到蘇州，蘇州城內會館林立，李生在會館內認識了許多同鄉 (C)後來李生在廣州經營奇珍異寶的貿易，接觸的商人包括阿拉伯人，聽到許多阿拉伯逸聞 (D)最後，李生來到漳州，經營海外貿易，將中國的絲織品運往呂宋島銷售。
27. 這個條約簽訂之後，雙方雖然維持和平關係，但對方仍不斷提出增銀割地的要求，說明華夷進入新秩序的代價。更重要的是，此後漢人已被質疑是否為中原正統地位。請問此條約是 (A)後晉石敬瑭與遼的君臣之約 (B)北宋澶淵之盟與遼的兄弟之約 (C)南宋紹興和議與金的君臣之約 (D)南宋賈似道與蒙古的君臣之約。
28. 「311」強震與海嘯造成日本部分地區的重大傷亡，當時的東京都知事石原慎太郎在回答記者問題時說：「海嘯是對日本的天譴。」記者提問：「你剛剛說的天譴，到底是針對民主黨還是日本？」石原回覆：「我說的天譴是針對日本，這其實是一種去接受天災，當做反省的一種態度。」這段談話引起了各方不滿，石原因而為此正式道歉。請問石原的談話若發生在漢代，則可視為是受何種思想流行的產物？ (A)以法為治 (B)黃老治術 (C)天人感應 (D)循名責實。
29. 明熹宗天啟6年(1626年)，一位耶穌會傳教士到江南進行傳教的工作。他對江南的觀感，最可能是下列何者？ (A)有少數知識分子知道五大洲，也知道哥白尼「太陽為宇宙中心」的觀點 (B)此時明朝政權非常穩定，政治清明，秩序良好 (C)對江南經濟及城市文化發達印象深刻 (D)此地區社風淳樸，士大夫重禮教，尚倫理，維持優良的傳統。
30. 漢朝一位皇帝在位二十多年期間，宮室苑囿沒有新建，衣服車馬也是久不更新。開放皇家苑囿，百姓可以從中漁獵獲利。他曾經想建造一座露臺，工匠預估大概要花百金，他慨然道：「百金，相當於中等人家十戶的家產。」立即停止這個計畫。為自己建造的陵墓，陪葬品全用瓦器，不用貴重金屬器物。根據以上資料，下列敘述何者正確？ (A)此時諸侯力量已經被削減 (B)施政遵循黃老學說的精神 (C)表面儒家治術實際為法家 (D)與匈奴作戰耗費大量財力。
31. 對於西周初年的「管蔡之亂」，下列同學的看法中，哪些人是對的？甲生：「從周天子的角度來看，它顯然是一個宗室的叛亂。」乙生：「從商人的角度來看，則它是一個『反周復商』的復國運動。」丙生：「從周人的角度來看，它是一場奪嫡政爭。」丁生：「從殷人的角度來看，它是一場周人內部矛盾的內鬥，與殷人無關。」戊生：「從歷史角度來看，這是東方周人向西方發展所面臨的挑戰。」 (A)甲丁戊 (B)乙丙丁 (C)甲乙戊 (D)甲乙丙。

32. 北魏太武帝拓跋燾在位期間，詔徵賢能之胄，冠冕州邦者，以禮發遣。所徵范陽盧玄、博陵崔綽、趙郡李靈、河間邢穎、渤海高允、廣平游雅、太原張偉等四十二人，應徵者三十五人；於是東至渤海，北極上谷，西盡西河，窮中山，版圖所及，世家大族多被延攬。以上資料反映了哪些事實？(甲)世家大族要知道如何與胡主相處，學習如何在這樣一個複雜多變的環境中生存(乙)他們接受現實，誰有國家，即為誰所用(丙)士族與胡主相處愉快，未發生衝突(丁)這些士族被通稱為「僑姓」 (A)(甲)(乙) (B)(乙)(丙) (C)(乙)(丁) (D)(丙)(丁)。
33. 有一段資料記載：道光十年以後，因為閩、浙地區連年豐收，一年之中，好幾個月沒有廈門商船到臺灣收購稻米，「臺人苦穀有餘而乏日用」。有關此一資料的解釋何者較為適當？(A)臺灣需從大陸進口日用品，大陸日用品價格上漲，臺人無力負擔 (B)臺灣與大陸的經濟分工關係，臺灣出售糧食，從大陸購入日用品 (C)大陸引進新作物，糧食已可自給，此後不再需要由臺灣進口糧食 (D)臺地已無餘糧可供輸出，以致引起島內物價上漲，人民生活窮困
34. 在一項名為「時代光影——民國五十年代臺灣老照片攝影展」的展覽中，展出者將照片分成許多主題。請問下列那些主題最可能出現在這個展覽中？(甲)政府解除戒嚴，臺商轉進大陸；(乙)臺海危機發生，美軍巡弋臺海；(丙)加工出口區上、下班人潮擁擠；(丁)電視機開始成為民眾熱買商品；(戊)南部鄉村地區，青壯人口外流；(己)中共與美國建交，群眾抗議示威 (A)甲丙丁 (B)乙丙丁 (C)丁戊己 (D)丙丁戊
35. 日治時期之「理蕃事業」激起了原住民族反抗的霧社事件，而清代施行開山撫番之政策，卻未曾聽聞有原住民族大規模的抗爭行動。請問造成兩者間差異的原因，下列何者解釋較為恰當？ (A)清治時期漢原關係和諧，原住民族未受壓迫 (B)因清廷「開山撫番」後，仍未完全控制全臺原住民族地區，原住民族所受壓迫不若日治時期 (C)對漢人而言，清朝統治者與原住民族同為異族，是以原住民族受清朝刻意保護 (D)原住民族漢化程度高，因此抗拒日本統治及現代文明
36. 資料一：「臺灣對日輸出品，主要為農產品，其中米、糖占 77%，餘為香蕉、鳳梨、茶葉、樟腦、煤炭等；輸入臺灣的日本產品中絕大部分是紡織品、機械、化肥、藥品和日用品。」
資料二：臺灣米產量、輸日量、平均消費量

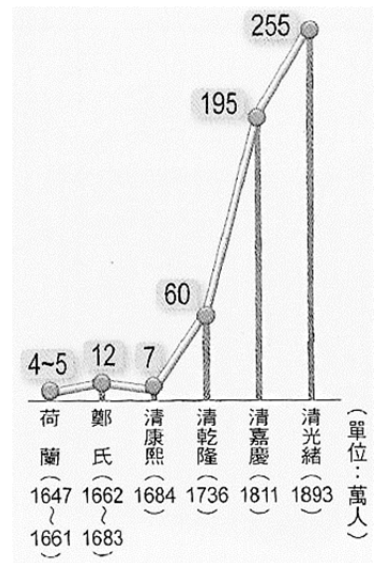
臺灣總督府的統計書

年代	項目 每年生產量 (千公石/年)	輸日量 (千公石/年)	輸日量/ 生產量 (%)	每人平均米消費	
				指數	百分比
1911~1915	8,318	1,401	16.8%	152.6 kg	100%
1916~1920	8,618	1,607	18.7%	165.8 kg	95.5%
1921~1925	10,032	2,636	26.3%	143 kg	93.7%
1926~1930	12,180	4,215	34.6%	137.9 kg	90.4%
1931~1935	15,574	7,089	45.5%	129.5 kg	84.9%
1936~1937	16,474	7,682	50.4%	116.6 kg	76.4%

日本統治臺灣期間致力於推展各項農業措施，旨在實施日臺經濟一體化。對日治時期臺灣

經濟的正確認識為 (A)在日本統治下的臺灣農業迅速成長，農村生活富裕，主糧(稻米)的消費因而下降 (B)臺灣土地肥沃，營生容易，農民勤勞，日人稍加經營收穫倍增，農村經濟因此富庶 (C)根據日治時代臺灣居民的口述，大多指出當時的生活困苦，上列官方資料應為臺灣總督府刻意誇大統治成效，並無參考價值 (D)日本完全掌控臺灣產銷與貿易，臺灣只是日本廉價原料的供應地與工業成品的消費市場

37. 附圖為臺灣人口演變圖，關於圖中各階段人口變動的原因，下列何者說法最為合理？ (A)荷蘭至鄭氏時期人口增加分別是漢人來臺耕作與武裝軍民隨鄭氏登陸 (B)鄭氏至康熙階段人口減少是因為朱一貴事件 (C)康熙至乾隆階段因廢除「渡臺禁令」而使人口大幅增加 (D)嘉慶至光緒階段人口增加的主因是因為開港通商

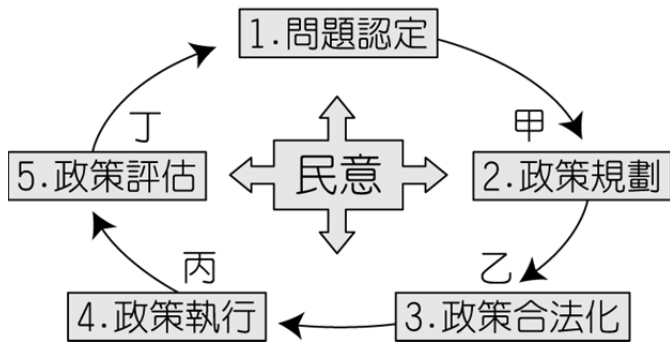


38. 除了以基督教的傳播「馴化」原住民族外，荷蘭人還建立某種形式的政治統治組織，實行村民自治。這一方面是為了便於管理，另一方面也是出於實際的需要，因為荷蘭人並無足夠的人手派駐每一村社。上文的「某種形式的政治統治組織」是指 (A)地方會議 (B)郡縣制度 (C)贖社制度 (D)荷蘭長官評議會
39. 日據時代有位名人，出身望族，在社會運動的參與不遺餘力，被學者譽為「臺灣自治運動的領袖及文化的保母」。後因二二八事件被牽連，避居日本，並留下「異國江山堪小住，故園花草有誰憐」的傷感詩句，最終客死異鄉。請問下列敘述中何者是他的事蹟？ (A)成立「台灣民眾黨」，協助勞工運動 (B)成立東吟社，為日據時代臺灣三大詩社之一 (C)曾受梁啟超啟發，改採政治文化社會運動抗日 (D)曾參與臺灣農民組合，從事左派激進社會運動
40. 十六世紀末臺灣取代澎湖成為海上走私貿易基地與海盜的巢穴的原因為何？ (A)豐臣秀吉屢次攻擊澎湖，海盜及倭寇來到臺灣避難 (B)荷蘭兩度占領澎湖，海盜及倭寇只好轉移到臺灣交易商品 (C)臺灣開發日盛，戰略與經濟價值完全超越澎湖 (D)明軍在澎湖加強防務，嚴格查緝，倭寇和海盜只好轉移陣地到臺灣
41. 下列有關人權發展的敘述，何者正確？ (A)政府在風災過後，提供以工作換取酬勞而非直接救濟的機會，是屬於社會權的保障措​​施 (B)經過兩次世界大戰浩劫而主張的「和平權」，是政府不得侵犯的消極人權 (C)為因應高房價而推辦的「社會住宅」政策，是政府保障居住正義的集體人權 (D)取消中小學學生髮禁之政策，是屬於積極維護學生自主權益的積極人權。
42. 宜蘭縣秀春教育基金會，每年提供宜蘭縣上千萬元的教育基金，用於特殊境遇學生的勵學金、急難救助、課後輔導等，並要求青年學生從事社會服務。請問針對「宜蘭縣秀春教育基金會」，下列說明何者正確？ (A)為財團法人，亦屬於非正式團體 (B)要求學生從事社會服務，彌補政府不足之處，因此屬於第三部門 (C)屬於《人民團體法》中分類的慈善團體 (D)鼓勵學生從事社會服務，是建立親密人際關係的初級團體。
43. 日本知名作家村上春樹著作《海邊的卡夫卡》裡的大島先生具有「女性生殖器官」，但大島先生「以男性的身分自居」，「不論相貌、打扮、行為活脫脫地就是一個男子」，而且大

- 島先生還有一位「同性戀的男朋友」。請問上述這段話依序表現出哪些性別概念？ (A)性別氣質、性別認同、性傾向、生物性別 (B)性別氣質、生物性別、性別認同、性傾向 (C)生物性別、性別認同、性別氣質、性傾向 (D)生物性別、性傾向、性別認同、性別氣質。
44. 根據附表判斷甲、乙、丙三國之政府體制，請問下列敘述何者正確？ (A)甲國的最高行政首長為總統 (B)乙國總理可在不信任案通過後，呈請元首解散國會 (C)丙國虛位元首，不對國家政策負擔成敗責任 (D)甲國國會議員兼任內閣閣員，乙國則否。

	甲國	乙國	丙國
副署制度	○	×	○
覆議制度	○	○	×
信任制度	○	×	○

45. 景美女中拔河隊在 2015 年歐洲盃室外拔河錦標賽中，又奪下金牌的殊榮。這份榮耀得來不易，景美女中校長表示：「這次與我們對戰的歐洲人平均身高 180 公分，我們拔河聯隊的孩子平均只有 160 公分，一開始站在人高馬大的歐洲人面前，孩子們自己心裡難免感到膽怯，還好有教練不斷地向她們精神喊話才讓她們克服恐懼。」關於上文的敘述，下列何者正確？ (A)看到歐洲人人高馬大而膽怯，是受到顧里「鏡中自我」中主觀解釋的影響 (B)教練的心理喊話讓隊員克服恐懼，使「主我」戰勝「客我」 (C)教練對於拔河隊員而言，屬於「概化他人」 (D)團員間發展出良好默契，是處於艾瑞克森「心理社會發展理論」中的友愛親密階段。
46. 布袋戲原本是臺灣盛行的文化，卻因為電視和電影的流行而逐漸沒落，日前霹靂布袋戲結合傳統戲偶與好萊塢電影之聲光特效，推出新作後再度蔚為風潮，不僅重新喚起民眾對於布袋戲的熱情，還將其送上大螢幕外銷至國外。請問，該戲團的作為有助於達到下列哪一項效果？ (A)傳播文化帝國主義 (B)創造另類全球化 (C)推動本土文化認同 (D)促成「全球在地化」的實現。
47. 有位民眾這樣形容他的國家與政治狀況：「我們的政府像是拼裝車一樣，人們透過選舉挑選了一大堆的零件，但這些零件的廠牌很多樣化，政府就這樣拼組了起來。這部拼裝車，三不五時就因為不同廠牌零件的相互排斥而拋錨，必須要整個拆掉再重新挑選零件、重新組裝。但重組之後還是一部拼裝車，只是組成的零件換了一些而已。」請問：有關其國家政治現況之推論，何者正確？ (A)該國的政黨較不易出現極端主張 (B)該國是採取總統制的政府體制 (C)該國的國會議員選舉採行單一選區相對多數決制 (D)該國的責任政治較難落實。
48. 公共政策的過程如下圖。請問下列各實例與政策過程的配對何者正確？ (A)2016 年行政院向審計長提出該年度國家總決算報告，屬於「甲」階段 (B)2003 年行政院針對《公民投票法》向立法院提出覆議，屬於「丙」的階段 (C)2015 年教育部針對 107 課綱召開公聽會、廣納民間建言，屬於「丁」的階段 (D)2011 年立法院通過《道路交通管理處罰條例》加重酒駕刑責，屬於「乙」階段。



49. 我國為提升政府效能，進行多面向的政府改造，以「法人化、委外化、去任務化、地方化」等四化政策逐步朝向企業型政府邁進。請問，下列有關四化的內容敘述，何者最為正確？
 (A)法人化：將菸酒公賣局改為臺灣菸酒公司 (B)委外化：臺灣高鐵採 BOT 經營模式 (C)去任務化：建立「單一窗口」，精簡政府部門業務 (D)地方化：由教育部規範全國教育政策。
50. 請根據下列資料，判斷娃娃國最有可能是屬於哪一種政黨體制？資料(一)：娃娃國的政黨主張理性溫和，較少走偏狹極端路線。資料(二)：朝野分明、監督制衡嚴謹。資料(三)：在野黨組成「影子內閣」，運作良好。 (A)一黨專政制 (B)一黨優勢制 (C)兩黨制 (D)多黨制。
51. 在公民與社會課堂上，老師請同學對於民主理論的演進進行分組報告。請問以下哪位同學所做的報告內容是正確的？ (A)海綿寶寶：洛克提出古典民主理論的目的是為了服膺專制王權 (B)派大星：熊彼得提出經驗民主理論，認為民主即是選擇菁英領導大眾的過程 (C)珊迪：審議式民主理論主張國家權力應分散，令公民團體多元參政 (D)小蝸：道爾批判以「投票」為中心的民主，強調在公領域中的審慎思辯與溝通。
52. 下表是晴晴在上公民課時所作的重點表格整理，內容是關於我國對大陸的政策。請問：下列敘述正確者共有幾項？ (A)1 項 (B)2 項 (C)3 項 (D)4 項。

	總統	對大陸的政策
(甲)	蔣經國	以「三不政策」回應對岸所提出「三通四流」的要求
(乙)	李登輝	提出「一邊一國論」，表明兩岸為特殊國與國的關係
(丙)	李登輝	為避免臺灣對於中國大陸貿易過度依賴而提出「戒急用忍」政策
(丁)	陳水扁	頒布並廢止「國家統一綱領」，為表達對「反分裂國家法」的不滿
(戊)	馬英九	推動「活路外交」，並提出「新三不政策」：不爭、不獨、不統

53. 歐美許多國家雖然身為民主體制的先驅，但在民主制度之運作日趨完善的現代社會，卻出現民眾投票率越來越低落的情況，請問在低投票率下所選出來的行政首長或是代議士，最可能面臨什麼樣的問題？ (A)政黨惡鬥造成政治空轉，攸關民生的法案無法施行 (B)統治正當性不足，將衝擊主權在民的民主體制 (C)統治者將利用選民的冷漠感，在代議民主中遂行自身利益 (D)責任政治無法落實，民主的效率也大受考驗。
54. 拉拉國舉行國會議員選舉，議員名額一共 200 席，其中半數由比例代表制產生。假設 K 黨在區域代表中當選 55 席，在比例代表中政黨得票比例為 25%。若拉拉國採行「聯立制」計票方式，請問下列敘述何者正確？ (A)K 黨需籌組聯合內閣方得執政 (B)K 黨總當選席次為 50 席 (C)K 黨不分區當選席次為 25 席 (D)若拉拉國改採並立制，將對 K 黨更為

有利。

55. 下列何者的敘述符合「效益主義」對於公益的觀點？ (A)大寶：政府的施政必須兼顧富人與窮人的權利 (B)二寶：興建蘇花高速公路有利於東部地區整體交通網絡的聯結，因此符合公益 (C)三寶：興建核能發電廠只要能滿足最大多數人用電之需求與利益，即符合公益 (D)小寶：真正的公益應該是由政府提供足夠的資源給弱勢族群。
56. 附表是某一年代全球傳播媒體分布比例。根據表中數據，下列何者正確？ (A)北美洲是視訊影像媒體最發達的地區 (B)大洋洲的影劇事業受到最多管控 (C)非洲是擁有媒體資源最少的地區 (D)歐洲是出版業最發達的地區。

區域	書籍	報紙	電影	廣播	電視
非洲	1.8	1.0	0.5	2.7	0.7
阿拉伯國家	0.9	1.2	3.5	2.6	1.9
亞洲	22.3	31.4	49.3	20.7	16.6
歐洲	54.3	45.6	27.9	27.3	40.3
大洋洲	1.0	1.2	0.5	1.7	1.2
北美洲	13.6	13.2	11.8	36.9	32.0
合計	100	100	100	100	100

57. 關於公民權與基本人權的解釋，下列敘述何者正確？ (A)具中華民國國籍者，為中華民國國民，享有我國公民權 (B)外籍勞工不具有我國公民身分，但仍受憲法基本人權之保障 (C)在臺灣出生的外籍勞工子女，為中華民國國民 (D)外籍勞工非本國國民，不適用我國勞動基準法關於最低工資之保障。
58. 美國華盛頓州農業考察團前往中國訪問時，每到一處，就分送繡有該州標誌的「綠帽子」當禮物送人。但當他們發現所有人收下禮物後，卻沒一個人戴上它，除了感到疑惑外，心中不免覺得中國人真沒禮貌。最後，一位華裔團員把負責贈禮的代表拉到一旁說：「在中國，叫人戴綠帽子是一種恥辱。」請問：內文呈現了文化的什麼現象？ (A)不同文化有不同象徵符號 (B)文化有高低位階之分 (C)文化雜異化後的矛盾 (D)主流文化與次文化的差異。
59. 知名導演戴立忍的《不能沒有你》繼臺北電影節、金馬獎後，在第53屆亞太影展更勇奪最佳導演，然而其上台領獎時卻面色凝重，因得獎前一日媒體對片中取材的真實人物父女做了聳動報導，並且揭露未成年隱私，為此他在領獎時嚴辭表示「痛心、憤怒、慚愧」、「我花了3年時間拍攝一部有關媒體自省的電影，沒想到3年功夫完全白費。」請問在這一事件之中，呈現了什麼樣的衝突？ (A)新聞自由與人權保障 (B)知的權利與言論自由 (C)新聞倫理與國家安全 (D)媒體近用與隱私保障。
60. 就選舉制度的比較，下列敘述何者正確？ (甲)單一選區相對多數制最有利大黨生存 (乙)比例代表制容易因選區的劃分不公平，而影響選舉結果 (丙)「複數選區單記制」，候選人較容易提出偏激的政見以吸引部分選民的支持 (丁)採行複數選區制的國家，較易形成穩定競爭的兩黨制 (戊)相對多數制的最大缺點是得票數與席位的不成比例性，容易出現當選者代表性不足的疑慮 (A)甲乙丙 (B)乙丙丁 (C)甲丙戊 (D)乙丁戊。

106 學年度國立台南二中高二適性班社會科

解答

1	2	3	4	5	6	7	8	9	10
B	B	D	A	C	B	C	D	A	B
11	12	13	14	15	16	17	18	19	20
C	C	B	C	A	D	A	B	C	B
21	22	23	24	25	26	27	28	29	30
A	B	D	B	C	C	B	C	C	B
31	32	33	34	35	36	37	38	39	40
D	A	B	D	B	D	A	A	C	D
41	42	43	44	45	46	47	48	49	50
A	B	C	C	A	C	D	D	B	C
51	52	53	54	55	56	57	58	59	60
B	B	B	D	C	D	B	A	A	C