

台南二中 107 學年度 高二適性班考試 社會科試題卷

一、 單選題(1~60 題，每題 2 分，答錯不倒扣)

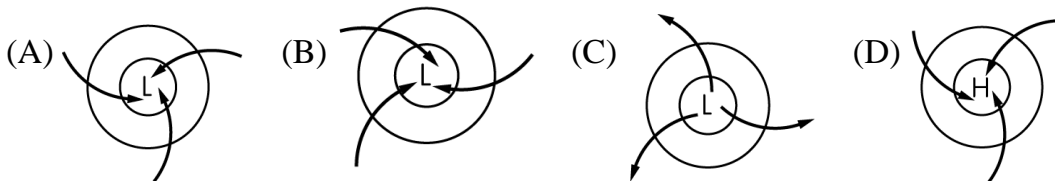
1. 某生在 O 點拍攝一張照片得知其 GPS 資訊為(時間:13 點 30 分 15 秒、X:252000、Y:2687000)，順著山路蜿蜒步行一段距離後，在 T 點拍攝另一張照片(時間:14 點 40 分 35 秒、X:257000、Y:2690000)。若僅透過 O、T 兩點的 GPS 資訊，可以推算下列哪個地理訊息？
- (A) O 點到 T 點的最佳路徑 (B) O 點到 T 點的步行速度
(C) O 點到 T 點的步行距離 (D) O 點到 T 點的步行時間

2. 地形因內營力的作用由 A 變成 B 地形的選項有哪些？

| | (甲) | (乙) | (丙) | (丁) | (戊) |
|---|-----|-----|------|------|-----|
| A | U型谷 | 海蝕洞 | 海蝕平臺 | 海蝕凹壁 | 島嶼 |
| B | 峽灣 | 海蝕門 | 海階 | 海崖 | 沙頸岬 |

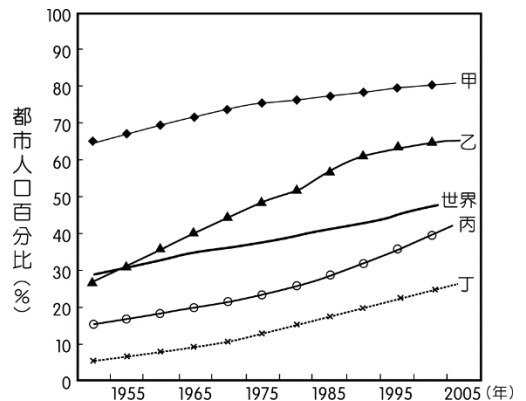
- (A)甲乙 (B)丙丁 (C)丙戊 (D)甲丙

3. 2015 年 2 月時澳洲東北部同時遭受兩個熱帶氣旋夾擊，這是 25 年來頭一遭！風力達到最高等級第 5 級的「瑪西亞」，每小時風速超過 250 公里；加上 4 級威力「蘭姆」氣旋合力發威，造成多達 3 萬多戶電力中斷等衝擊。下列氣流圖中，最符合侵襲澳洲的熱帶氣旋氣流圖的是：



4. 依據聯合國的人口統計資料，可發現第二次世界大戰後，各地人口急增，但都市化程度高低不一(如右圖所示)。圖中甲、乙、丙、丁依序是哪 4 個地區？

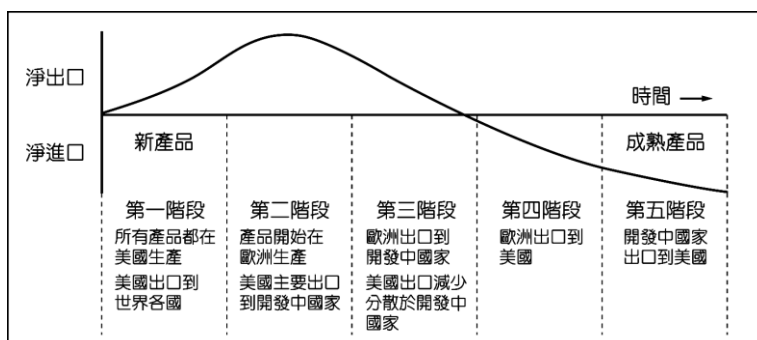
- (A)南歐、北非、南美、南非
(B)南歐、南美、北非、南非
(C)西歐、西亞、東南亞、東非
(D)西歐、東南亞、西亞、東非



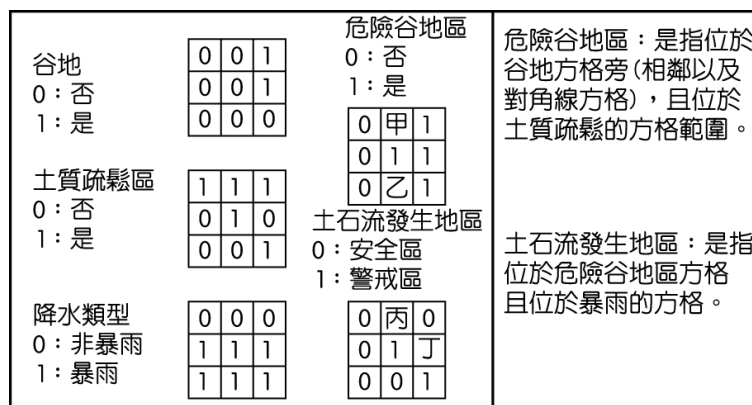
5. 近年來，一些國家因人口結構快速轉變，使工作年齡人口相較於受撫養人口快速

成長，且受過良好教育，將有利於經濟發展，成為「人口機會窗」。人口機會窗通常出現在人口轉型階段的哪個階段？ (A)高穩定階段 (B)低穩定階段 (C)早期擴張階段 (D)晚期擴張階段

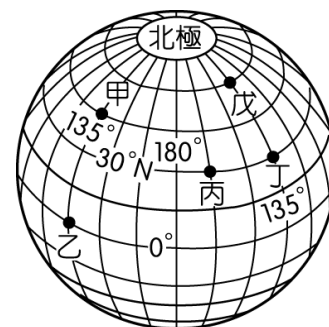
6. 有學者利用產品生命週期 (product life cycle) 的概念，研究美國廠商生產與銷售區位的變化，獲得右圖所示的結果。下列哪一個概念最足以解釋圖中前3階段的變化結果？ (A)空間移轉 (B)區位擴散 (C)空間分工 (D)產業連鎖



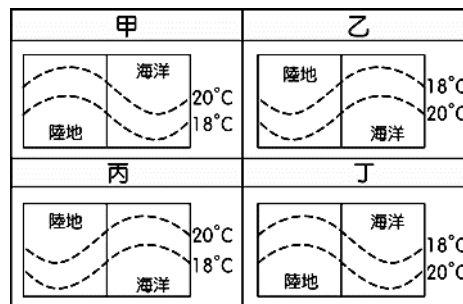
7. 右圖為網格式地理資料，它顯示土石流發生的相關訊息。根據土石流發生情形，圖中「甲、乙、丙、丁」依序應填入何值？ (A) 1001 (B) 0110 (C) 1010 (D) 0011



8. 下列關於右圖地球上五個定點(甲~戊)的相關敘述，何者正確？ (A)甲的經緯度為：(45°N, 135°W) (B)丙→乙的時間換算須減一天 (C)乙為五點中，最早看到 2019 年的第一道曙光 (D)甲、丙的時差為 4 小時



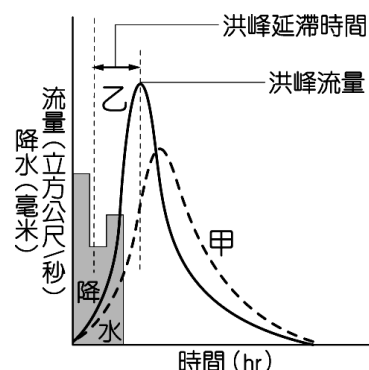
9. 右為四種海陸等溫線分布的示意圖，其中哪一幅圖最能展現北半球 1 月分等溫線分布的特性？ (A)甲 (B)乙 (C)丙 (D)丁



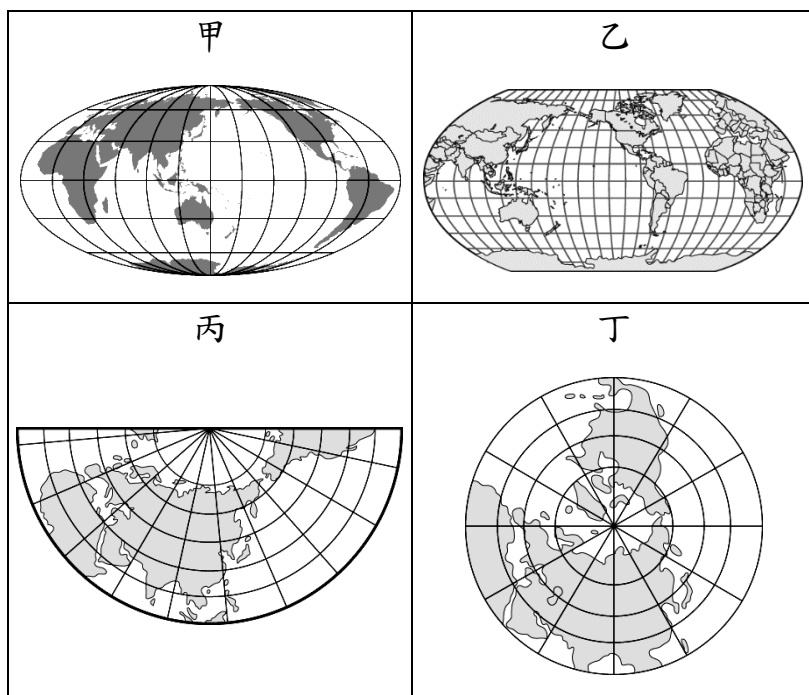
10. 陳小姐喜歡上網訂購某家廠商所生產的化妝品，不用親臨門市，只要參考網路上

的圖片，就可以買到慣用的商品。其主要的條件是這家廠商的化妝品必須具有下列何項工業特徵？ (A)專業分工 (B)產品規格化 (C)產品標準化 (D)生產自動化

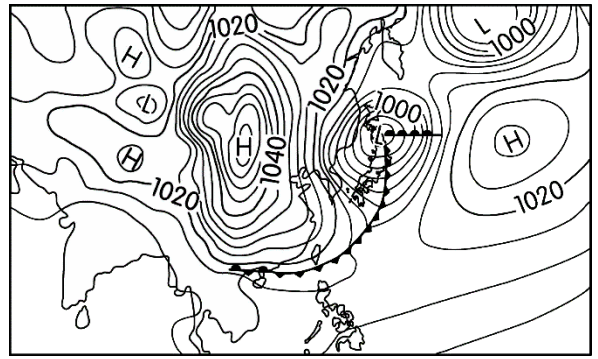
11. 若右圖甲、乙兩條曲線代表同一河道剖面前後兩個不同時期的「河川逕流量歷線」，請問其中所涉及的环境變遷可能為何？(A)「乙」為曲流截彎取直前之下游河段，「甲」為曲流截彎取直後之下游河段 (B)「乙」為河川上游興建水庫後，「甲」為河川上游興建水庫前 (C)「乙」為都市化前，「甲」為都市化後 (D)「乙」為河川上游集水區大量伐林後，「甲」為河川上游集水區大量伐林前



12. 西北航道 (Northwest Passage) 是指由格陵蘭經由加拿大北部北極群島到阿拉斯加北岸的路線，這是大西洋和太平洋之間最短的航道；近來因全球暖化導致北極融冰，使得西北航道夏季可通航的日數愈來愈長。請問該使用下列何種投影繪製西北航道之路線圖較適合？ (A)甲 (B)乙 (C)丙 (D)丁



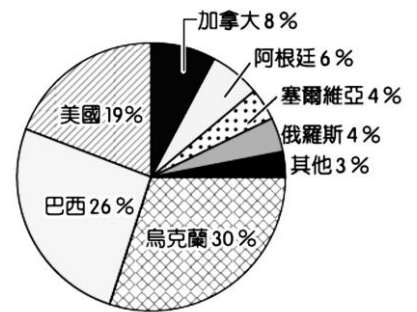
13. 右圖是東亞某日天氣圖，圖中等值線為等壓線，數值單位為百帕 (hPa)。根據該天氣圖所提供的資訊，下列哪些最可能是該日氣象報告的內容？



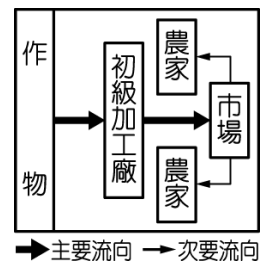
- (甲) 臺灣受西南氣流影響，各地午後會有雷陣雨
- (乙) 冷鋒正往臺灣接近，未來數日天氣逐漸轉冷
- (丙) 臺灣各地早晚氣溫偏低，沿海低地慎防寒害
- (丁) 臺灣海峽東北季風強勁，海面船隻多加注意

(A) 甲乙 (B) 甲丁 (C) 乙丙 (D) 丙丁

14. 右圖為 2015 年歐盟自境外國家輸入某項作物的百分比圖。該項作物，從下列哪個氣候區輸出至歐盟境內的比例最高？ (A) 熱帶雨林 (B) 溫帶大陸性 (C) 溫帶海洋性 (D) 夏雨型暖溼



15. 下列哪個地點所在的區域，最可能有右圖農業生產流程的商業性農業？

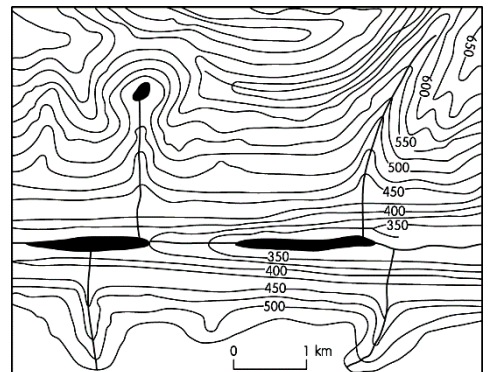


- (A) 22°03'N、122°12'E
- (B) 22°30'N、120°29'E
- (C) 24°43'N、121°45'E
- (D) 25°03'N、122°20'E

16. 請問可以從右圖看到哪些地形？

- (甲) 冰斗
- (乙) 角峰
- (丙) U 型谷
- (丁) 懸谷瀑布
- (戊) 鼓丘

(A) 甲丙丁 (B) 甲丙戊 (C) 乙丙丁 (D) 丙丁戊

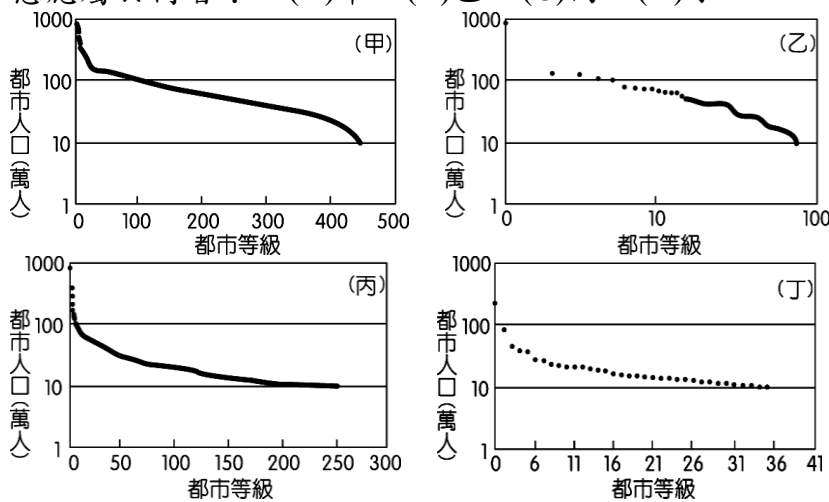


17. 下表為某區域平原中，5個不同等級中地各自提供的商品資料。根據此表判斷下列敘述何者正確？

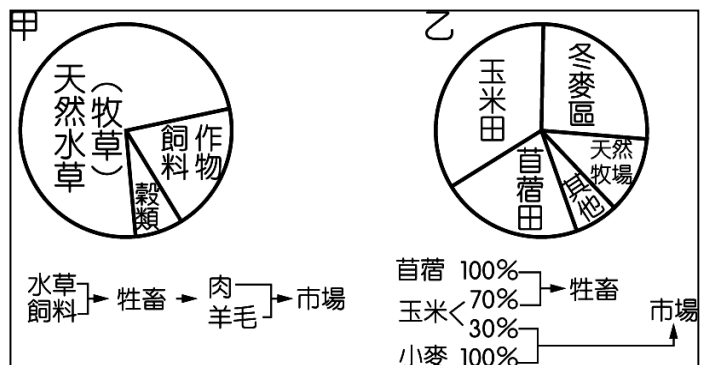
| 商品等級 中地等級 | 高 → 低 | | | | | | | | | |
|--------------|-------|---|---|---|---|---|---|---|---|----|
| | 1 | 2 | 3 | 4 | 5 | 6 | 7 | 8 | 9 | 10 |
| 甲 | | | | | | | √ | √ | √ | √ |
| 乙 | √ | √ | √ | √ | √ | √ | √ | √ | √ | √ |
| 丙 | | | √ | √ | √ | √ | √ | √ | √ | √ |
| 丁 | | | | | √ | √ | √ | √ | √ | √ |
| 戊 | | | | | | | | | √ | √ |

- (A) 中地等級高低依序為乙丙丁甲戊 (B) 戊中地包含所有甲中地的市場區域
 (C) 戊中地提供商品商闖最大 (D) 乙中地只提供需求頻率最低的商品

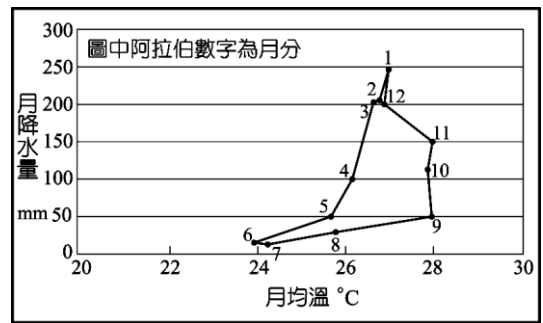
18. 下列為四個國家的都市規模分布圖。「在全球城市研究所預測的十大城市中，印度的孟買、德里和加爾各答占據了三席。」請問上述資料顯示印度的都市規模分布型態應屬於何者？ (A) 甲 (B) 乙 (C) 丙 (D) 丁



19. 右圖為某國境內兩種不同的農牧業經營方式，請依此圖回答下列問題：甲、乙兩者在經營上，有何共同的特色？ (A) 皆分布在濕潤的氣候區內 (B) 其發展與殖民背景有關 (C) 均為勞力密集產業 (D) 收入主要來自牲畜



20. 右圖是多年平均的降水及月均溫點散布圖。該地的主要植被特徵應是：(A)高草疏林 (B)針狀樹葉 (C)厚皮灌木林 (D)板狀根發達的巨樹群



21. 一段關於經學的記載資料如下：「經學知識的教導與傳遞，壟斷在士人家族之手。許多名門望族都因守護注釋某門經學而揚名於世，該門注釋的知識，也成為這個家族或宗族，代代相承的標誌。」請問這一時期應是：
(A)春秋戰國時期 (B)魏晉南北朝 (C)五代十國時期 (D)民國初期
22. 閱讀下列資料，選出正確的敘述：
資料一：漢高祖聽婁敬策，以和親緩敵。但和親政策終不可久，漢、匈一旦破裂，則漢之形勢實利攻而不利守，於是遂有漢武帝之誘敵政策。
資料二：漢武帝遣馬邑人聶豐，佯賣馬邑城以誘匈奴，單于貪馬邑財物，領兵十萬，惜雁門尉史洩其誘，致匈奴驚覺，引兵而還，從此漢、匈雙方失和。
(A)漢高祖先和親緩敵，再以馬邑城誘敵 (B)漢高祖聽婁敬所提策略得以打敗匈奴
(C)馬邑戰誘敵失敗，漢與匈奴走向戰爭 (D)漢朝對於匈奴始終採取和親利誘政策
23. 某個事件後，上海報紙登了一段文字來形容這個事件對國家社會造成的影響如下：「共和政體成，專制政體滅，……剪髮興，辮子滅……陽曆興，陰曆滅，鞠躬禮興，拜跪禮滅」。試問這個事件為：
(A)戊戌政變 (B)庚子拳亂 (C)辛亥革命 (D)五四運動
24. 以下是各家對於殷商滅亡的看法：
資料一：「無若殷亡受(紂)之迷亂，酗於酒德哉。」
資料二：「新朝之起，必因前期之德衰；新朝所據之德，必為前朝所不勝之德。」
資料三：「至於殷紂，逆天暴物，殺戮賢知，殘賊百姓……故天下去殷而從周。」
資料四：「仁人無敵於天下，以至仁伐至不仁。」
何者是以陰陽家的思想來解釋殷商的滅亡？
(A)資料一 (B)資料二 (C)資料三 (D)資料四
25. 某人指出：「寇與商同是人，市通則寇轉為商，市禁則商轉為寇，始之禁禁商，後之禁禁商。禁之愈嚴而寇愈盛。片板不許下海，艨艟巨艦反蔽江而來；寸貨不許入番，子女玉帛恒滿載而去」關於某人及其看法，正確的是：
(A)某人是北宋官員，他主張朝廷應保護商人、勦滅賊寇
(B)某人是元代官員，他主張朝廷該結束閉關、對外開放
(C)某人是晚明官員，他認為百姓的角色取決於朝廷政策

(D)某人是清末官員，他認為鴉片戰爭傷害國家貿易至深

26. 「滿洲之眾不過十數萬，而我中國之眾不下五千餘萬，以五千餘萬之眾，受制於十萬... 其有能擒狗彘子咸豐來獻者，或能斬其首級來投者，又有能擒斬一切滿洲胡人頭目者，奏封大官，決不食言。」前引文可能出自於何處？
(A)鄭成功的「誓師抗清」文宣(B)太平天國的「抗清檄文」
(C)英法聯軍的「宣戰書」(D)同盟會的「入會誓詞」
27. 有一位人士指出「大人」是與天地共生、與道並存的，而不是那些以束身修行自稱為「君子」的人。那些所謂的「君子」就像人家褲襠裡的蟲子，「行不敢離縫際，動不敢出褲襠」，自以為很守規矩。在人家褲襠裡爬來爬去自覺溫暖如春，餓了咬人家一口就洋洋得意。請問文中所述，可能是哪一學派的論點
(A)魏晉玄學(B)程朱學派(C)陽明心學(D)今文經學派
28. 「從社會內部關係來看，王國是一個宗族國家的型態；在宗族政治體制之下，王國領袖具有多重身分，他既是王國的領袖，又是同姓宗族的大族長，亦是異姓宗族的君主，集王權、族權與政權於一身，在王國內部，擁有至高無上的權力，無異於專制君主。」文中所述，是哪一時期王國內部關係發展特色？
(A)殷商時期(B)西漢時期(C)西晉時期(D)明初時期
29. 史學家錢穆曾說：「周朝宗法偏於□，封建偏於□，井田偏於□，此三者融凝為一體，然後始成治道，而中國古人稱之曰禮治。」上文中的□，應填入的正確選項為何？
(A)政治、經濟、社會 (B)經濟、政治、倫理 (C)倫理、政治、經濟 (D)宗教、社會、經濟
30. 兩位學者各自根據其閱讀史料，提出對漢代社會型態的看法。甲學者認為漢代社會是地緣社會，聚落內部的血緣聯繫不強；乙學者則認為漢代是血緣社會，聚落內部同姓的力量強大。我們應如何理解兩位學者意見的差異？
(A)甲學者的主張符合古代宗族瓦解後的形勢，較為合理 (B)乙學者的看法反映出古代社會的延續性，較具說服力 (C)古代地域社會間差異甚大，不應該只有一種社會型態 (D)兩位學者立場相反，正可說明歷史解釋缺少合理基礎
31. 資料一：「主（國君）荒政謬，國命委於閹寺（宦官），士子羞與為伍，故匹夫抗憤，處士橫議。」
資料二：「事始自甘陵、汝南，成於李膺、張儉，海內塗炭二十餘年，諸所蔓延皆天下善士。」
試問資料一、二所論的政治事件是：
(A)董卓亂政 (B)王莽篡漢 (C)黨錮之禍 (D)牛李黨爭
32. 臺灣某首歌謠如下：「大清帝主座龍庭，萬國來朝賀太平，文武安邦能定國，海不揚波樂萬民.....養鴨村驢濫小人，結黨聚約要謀反.....造反不為別事故，台灣府尊害

生靈……早知皇帝未易做，愿安養鴨也甘心。」歌謠的背景應是

(A)朱一貴事件 (B)林爽文事件 (C)戴潮春事件 (D)大甲西社抗清事件

33. 右表是依據某一時期官方統計資料製作成的「臺灣漢人祖籍分布表」。試判斷此一資料應出現於何時？

- (A)清實施渡臺禁令後
(B)劉銘傳擔任巡撫時
(C)日本殖民統治時期
(D)國民政府遷臺之後

| | | |
|-----|--------|---|
| 福建省 | 83.06% | 泉州府 44.81% 漳州府 35.17% 汀洲府 1.13% 福州府 0.72% 其他府 1.23% |
| 廣東省 | 15.62% | 嘉應府 7.91% 惠州府 4.12% 潮州府 3.59% |
| 其他省 | 1.32% | — |

34. 下表為臺灣某一時期人口統計分布表，請依據你的歷史知識，判斷此表應該最接近哪一年代？

| 北部 | 中部 | 南部 | 東部 | 澎湖 |
|--------|--------|---------|------|-------|
| 767000 | 622000 | 1101000 | 6000 | 67000 |
| 29.5% | 25.8% | 42.7% | 0.2% | 1.8% |

(A)1704年 (B)1850年 (C)1893年 (D)1956年

35. 「這個時期由於臺灣外在環境的變化促使作家開始重新思考臺灣的問題，產生回歸鄉土的運動，開始關心這塊土地人民的生活與問題，終於為前一個世代以來的失根與放逐感劃下一個休止符。」關於以上敘述，下列何者正確？

- (A)「前一個世代的失根與放逐感」是批評盛行於前一個世代的反共文學
(B)「這個時期」指的是1960年代，「外在環境的變化」指的是越戰爆發
(C)「這個時期」的強調回歸鄉土思潮，日後發酵引發了一場文學的論戰
(D) 會支持以上言論的作家有朱西甯、余光中、白先勇、王文興等作家

36. 某人起事失敗，在臨刑前自白書如下；「日本政府之虐政，我中華民國人民聞，莫不憤慨也……黃興先生又派陳士、王淵二君來台……對於革命起義，有所商議……能耐能忍，必有成功之一日也。」某人為

- (A)余清芳 (B)劉永福 (C)林少貓 (D)羅福星

37. 下表是1934年前後，臺灣某種機構的數據統計，五州三廳中除了澎湖廳與臺東廳沒有設立之外，各州廳至少都有一間以上，合計16間，總人數約5,000多人。請問這份統計的間數與人數分別是指：

| | | | | | | |
|----|-----|-----|-----|-----|-----|------|
| 地區 | 臺北州 | 新竹州 | 臺中州 | 臺南州 | 高雄州 | 花蓮港廳 |
| 間數 | 6 | 1 | 3 | 3 | 2 | 1 |

- (A)派出所，各層級警察 (B)高等女校，女子學生 (C)火車站，鐵路局員工 (D)日本神社，神職人員
38. 某一朝代，因強敵入侵，皇帝從寧波乘船出逃，船隻在江南沿海躲藏以避追擊。四十天後敵軍撤退，皇帝才返回陸地。為了安全考量，皇帝決定在富庶的江南臨海地區建都，萬一強敵再侵時，才方便出海避難。請問該事件最可能是：
(A)春秋時期的吳越相爭 (B)三國時期的孫吳政權
(C)女真壓境時宋室南渡 (D)滿清入關後南明諸王
39. 發生在17世紀的某場戰爭的史料如下：「根據基督教國家的習俗，我在開戰前先向你告知。現在我已兵臨城下，如果你願意投降，並接受我的條件，將鄰近城堡均完整地交予我軍……我們將善待你們。」根據上文，這場戰爭應是
(A)在臺灣北部的荷西對戰 (B)中國的太平天國的抗清
(C)臺灣的明鄭與荷蘭對戰 (D)中法戰爭的淡水攻防戰
40. 右表為1717年至1726年間某地商人到日本採購銅礦的數量統計表，試判斷某地應為：(A)台灣澎湖 (B)中國大陸 (C)巴達維亞 (D)民答那峨
- | 年代 | 採購量(斤) |
|------|-----------|
| 1717 | 4,370,000 |
| 1718 | 4,100,000 |
| 1719 | 3,670,000 |
| 1720 | 2,956,000 |
| 1721 | 2,696,000 |
| 1722 | 2,628,000 |
| 1723 | 2,736,000 |
| 1724 | 976,000 |
| 1725 | 2,528,000 |
| 1726 | 3,540,000 |
41. 25歲、身高165公分、體重90公斤、滿臉痘痘、國中畢業、無才藝的阿率在Facebook (臉書) 上留下個人資料，如下：身高188公分、體重70公斤、臺大碩士、擅長街舞與電吉他。這樣的資訊，造成許多網友紛紛提出想與其交友的要求。請問：阿率的行為是利用網路的特性刻意營造出的哪個「我」？(A)主我 (B)本我 (C)自我 (D)超我
42. 全民健保實施以來，造福不少貧困家庭，但也有人質疑，國家強制人民參加健保、繳交保費，有侵犯憲法保障之人民財產權的嫌疑。下列對於全民健保的看法，哪些與社群主義的主張較相符？
(甲)保障社會安全是國家發展的方針；(乙)尊重私人財產但不允許資本壟斷；
(丙)促進民族健康為國家施政的原則；(丁)人權的保障應依國家需要而限縮
(A)甲乙 (B)乙丁 (C)甲丙 (D)丙丁

43. 某位思想家認為，因為屠戶、釀酒家和麵包師出於他們自利的打算而製造食物，消費者因此而能獲得溫飽。根據此說法，下列敘述何者為是？
(A)與效益主義的主張相符合 (B)個人利益優先於公共利益
(C)公共利益優先於個人利益 (D)此位思想家可能是羅爾斯
44. 英國某旅遊網站票選出全球10大另類食物，台灣美食「豬血糕」榮登怪食物排行榜第1名。此網站對台灣豬血糕的描述為，「在台灣，豬血糕由豬血和米混合製作而成，他們會把成品用竹籤串起來，外觀有如冰棒一般。」外國人只看到豬血糕的模樣就不敢領教，認為這是不乾淨或噁心的。下列哪一個概念最適合說明西方人對豬血糕抱持的看法？
(A)文化相對論 (B)文明進化論 (C)我族中心主義 (D)多元文化主義
45. 言論自由是憲法中明定的人民權利，其內涵之一即透過媒體表達意見。請問，下列何者能落實此一內涵？ (A)媒體使用權 (B)媒體接近權 (C)媒體監督權 (D)媒體審查權
46. 「參與式預算」是指，透過市民的自主參與，共同討論預算計畫、提出具體方案，並投票決定預算使用的優先順序，同享市政決策過程。此即下列何者的實踐？
(A)古典民主理論 (B)精英民主理論 (C)多元民主理論 (D)審議民主理論
47. 下列有關美國總統與國會的敘述，何者正確？
(A)總統需至國會接受議員質詢 (B)國會可彈劾違反法律的總統
(C)二者皆由公民直接選舉產生 (D)總統需接受國會通過之法案
48. 英國內閣制的形成，有其歷史背景。時至今日，英國王權受到很大的限制。下列關於英國王權的敘述何者正確？
(A)任命國會選舉的國會議員擔任首相
(B)國會通過不信任案後主動解散國會
(C)簽署的法案須經內閣副署始可生效
(D)擔任上議院議長主持上議院之運作
49. 選舉制度是民主國家政黨體系形成的重要因素之一。若某國採取德國的國會議員選舉制度，則該國國會中較可能出現下列何種政黨體系？
(A)兩黨制 (B)多黨制 (C)一黨制 (D)一黨優勢制

50. 假設某國於2017年舉行大選，開票結果如下表。若該國國會總席次為50席，該次選舉所採行的選舉制度為何？

| 政黨名稱 | 第一黨 | 社民黨 | 國家聯盟黨 | 其他所有政黨 |
|---------|-----|-----|-------|--------|
| 得票率(%) | 60 | 28 | 6 | 7 |
| 獲得席次(席) | 32 | 15 | 3 | 均未達門檻 |

- (A)並立制 (B)比例代表制 (C)單一選區制 (D)絕對多數制
51. 選舉制度對於民主國家的政治制度與政府運作具有關鍵性之影響。根據我國現行的選舉制度，下列敘述何者正確？
- (A)總統選舉採取兩輪投票制，故不會產生支持度未能過半的總統
 (B)縣市升格為直轄市後，市長的選舉改採單一選區絕對多數決制
 (C)縣市議員選舉採取複數選區制，名額較多能兼顧地方多元聲音
 (D)立法委員選舉採取絕對多數決制，故能充分代表地方主流意見
52. 依據我國《公民投票法》規定，下列何者得做為公民投票的提案？
- (A)政府租稅 (B)興建水庫 (C)公職薪俸 (D)國家預算
53. 憲法變遷有許多方式，也是不可避免的。在我國若發生下列情況時採取的解決途徑，何者「錯誤」？
- (A)立法委員改選後，內閣是否應總辭，若憲法未規定，則可依「憲政慣例」
 (B)國家領土範圍與憲法本文不同，可依「法令補充」方式，詳細列出領土範圍
 (C)行政機關建立全民指紋資料庫，是否侵犯人民權利，由大法官做「憲法解釋」
 (D)人民如何行使參政權，可以「法令補充」的方式規定
54. 面對敘利亞內戰問題，聯合國安理會欲將一切戰爭罪行提交國際刑事法院審理，但因俄羅斯和中國投下反對票，最終只能通過譴責案，並對平民採取人道救援，無法有效解決問題。由此可見，聯合國在運作上，遭遇了何種困境？
- (A)一極多元的國際政治環境，聯合國處處受限
 (B)人道救援為其成立宗旨，內戰調解非其目的
 (C)只能柔性勸導，不能動用軍隊強力調解紛爭
 (D)常任理事國間的權力競逐，否決權成為工具

◎55~60為題組題

2017年5月24日，大法官做出748號解釋文(摘錄):民法第4編親屬第2章婚姻規定，未使相同性別二人，得為經營共同生活之目的，成立具有親密性及排他性之永久結合關係，於此範圍內，與憲法第7條、第22條之意旨有違。有關機關應...依本解釋意旨完成相關法律之修正或制定。至於以何種形式達成婚姻...保護，屬立法形成之範圍。針對此釋憲文，行政院「同性婚姻法制研議專案小組」決定，與婚姻有關的規定，只要不涉及第三人權益都放寬同性伴侶適用；反同團體則提出全國性公民投票案，如「你是否同意以民法婚姻規定以外之其他形式來保障同性別二人經營永久共同生活的權益？」將同志婚姻議題訴諸民意。目前公投案已由主管機關審議通過，將進入下一階段程序。

55. 依憲政主義的概念，此解釋文具有下列何種性質？
(A)以「法令補充」的方式，對憲法規範加以補充
(B)為大法官做出之解釋文，將會形成「憲政慣例」
(C)依法治政治原則，行政與立法機關皆受其約束
(D)為符合「民意政治」，公民投票能改變此解釋文
56. 文中所提之憲法意旨，與下列哪些人權有關？
(甲)社會權 (乙)自由權 (丙)平等權 (丁)發展權
(A)甲乙 (B)甲丁 (C)丙丁 (D)乙丙
57. 此釋憲文之意旨與下列何者相呼應？
(A)性別社會化 (B)性別認同 (C)性別刻板印象 (D)性別主流化
58. 依行政院之說法，放寬規定後，同志伴侶可能仍「無法」享有下列何項權利？
(A)納入家暴保護範圍 (B)婚姻具有法律效力
(C)合法共同領養小孩 (D)成為遺產的繼承人
59. 關於反同團體的提案，下一階段程序應為下列何者？
(A)連署 (B)公告 (C)投票 (D)提議
60. 假設文中畫線處的提案，經公民投票通過後，將可能發生下列何種情況？
(A)公民行使創制權，訂定法律後直接實施
(B)立法機關訂定專法保障同性戀者的權益
(C)戶政機關可依法自行註記同性伴侶身分
(D)行政機關必須設立專區供同性戀者居住

台南二中 107 學年度 高二適性班考試 社會科解答卷

| | | | | | | | | | |
|----|----|----|----|----|----|----|----|----|----|
| 1 | 2 | 3 | 4 | 5 | 6 | 7 | 8 | 9 | 10 |
| D | D | B | C | D | B | A | C | B | C |
| 11 | 12 | 13 | 14 | 15 | 16 | 17 | 18 | 19 | 20 |
| D | D | D | B | B | A | A | A | D | A |
| 21 | 22 | 23 | 24 | 25 | 26 | 27 | 28 | 29 | 30 |
| B | C | C | B | C | B | A | A | C | C |
| 31 | 32 | 33 | 34 | 35 | 36 | 37 | 38 | 39 | 40 |
| C | A | C | C | C | D | B | C | A | B |
| 41 | 42 | 43 | 44 | 45 | 46 | 47 | 48 | 49 | 50 |
| D | C | B | C | A | D | B | C | B | B |
| 51 | 52 | 53 | 54 | 55 | 56 | 57 | 58 | 59 | 60 |
| C | B | B | D | C | D | D | C | A | B |