

國立台南二中 106 學年度第二學期高一公民與社會科第一次期中考試題

考試範圍：B2L1~L3

請將答案劃記於答案卡上。

一、單一選擇題（每題 2 分，共 66 分）

- 柏拉圖認為理想的國家有三種階層，統治者擁有智慧之德、衛國者擁有勇敢之德、人民擁有節制之德。統治者和衛國者可以擁有權力而無私產，人民可以擁有私產而無權力。治理國家有如航海，必須交由經過嚴謹訓練最理想的領導者。請問柏拉圖的看法較符合何種民主理論？
(A) 審議民主理論 (B) 經驗民主理論 (C) 多元民主理論 (D) 古典民主理論。
- 紐西蘭曾在 2016 年舉行國旗公民投票，將是否選出新國旗議題交由人民票選。原因一是紐西蘭和澳大利亞國旗圖案十分相似，二是現行國旗左上有英國國旗圖樣，帶有殖民地色彩。根據公投結果顯示，過半數民眾仍偏好現行國旗。根據上述，下列何者正確？
(A) 公投說明了紐西蘭民主運作，已逐漸朝向間接民主目標邁進
(B) 公投不僅是直接民主的展現，更落實了古典民主理論的理想
(C) 公投決策方式展現了經驗民主理論，由政治菁英執政的理想
(D) 公投屬於直接民主，紐西蘭符合小國寡民國家，全民皆能參政。
- 憲政主義起源最早可追溯到英國的《大憲章》，為限制君主權力的開端。其後憲政主義以限制政府權力、保障人民權利為核心思想。請問下列敘述何者符合憲政主義的精神？
(A) 七次修憲歷經廢省、廢國民大會，立法院成為單一國會，乃為落實憲政精神
(B) 過去我國總統上任前，行政院院長需率領全體閣員提出總辭，屬於憲政慣例
(C) 以憲法約束政府權力以達到保障人民權利，故有憲法的國家，便能符合憲政精神
(D) 立法院可解散行政院，行政院可提不信任案，屬於政府權力制衡，具有憲政精神。
- 某國政府之執政黨為國會多數黨，因政績不佳，民調持續低迷，引發要求首相下台的呼聲，該國已有多位執政黨籍的國會議員連署支持更換黨魁，要求舉行黨魁選舉。消息一出，引發國內股票市場震盪，多檔高價股的成交價格與數量均創下一個月新低的紀錄。依據題文訊息判斷該國的政治體制，下列敘述何者最可能？
(A) 該國統治屬於傳統型權威類型 (B) 該國選舉制度採間接選舉制度
(C) 最高行政首長兼任政黨領導人 (D) 中央政府係採聯合內閣的模式。
- 2013 年《會計法》修正，支用研究計畫費不罰人員的範圍，依立法委員提案各版本的條文及說明，都包含「教授」在內，但三讀法條文字疏漏「教」字，有欠明確及恐執行產生爭議。對此行政院提出覆議。請問下列敘述何者正確？
(A) 針對窒礙難行的法律案及預算案，皆可以提出覆議
(B) 覆議權設計屬總統制中的行政、立法兩權制衡原理
(C) 總統提出覆議案須經行政院通過，才能送交立法院
(D) 覆議時，立委 1/2 以上維持原決議，總統應該接受。
- 近年來強調「地方治理」概念，打破過去侷限於中央與地方政府的互動關係，強化中央與地方以外的公、私組織以及志願性團體等的聯繫互動。請問下列何者最符合此概念？
(A) 台北市和新北市政府共推捷運、公車無限次交通月票
(B) 法律扶助基金會與大安社區大學合辦公民素養周課程
(C) 內政部指導台中市政府辦理新移民生活適應輔導課程
(D) 教育部邀請關懷生命協會協助辦理各高中校園友善犬貓講座。

7. 前總統馬英九曾在 2016 年登上太平島，並闡述登島四個目的，一、春節前慰問駐島人員，二、發表「南海和平倡議」路徑圖，三、說明推動太平島和平用途，四、澄清太平島法律地位。請問其登島目的，主要是為了宣示國家的哪些構成要素？（甲）領土；（乙）人民；（丙）政府；（丁）主權。
- （A）甲丁 （B）乙丙 （C）甲丙 （D）乙丁。
8. 民主是不斷演進和發展的過程，下列有關民主理論發展先後順序，排列應是？
- （甲）因許多人非理性或不專業，交由人民選出的官員或民意代表代為決策即可
（乙）政治權力分散，不同政黨為贏得勝選，必須取得不同社會團體勢力的支持
（丙）政治權力由人民共享，因此應讓人人參與、理性討論一例一休是否應修法
（丁）青年國是會議，讓台灣的青年朋友能針對公共事務深度對話並向政府發聲
- （A）甲乙丙丁 （B）乙甲丙丁 （C）乙丙丁甲 （D）丙甲乙丁。
9. 內閣制是民主憲政國家常採取的一種政府體制。請問對於內閣制的敘述何者正確？
- （A）最高行政首長公布法律，須經國家元首的副署
（B）行政與立法相互分立制衡，避免政治權力腐化
（C）國家元首與最高行政首長合一，具有強大的民意基礎
（D）國家元首代表國家，具維繫國家認同、穩定政局作用。
10. 新北市實物銀行開辦 7 年多來，已募得超過 13 億元捐款和物資，造福 210 萬人次的弱勢族群。實物銀行是全台唯一的公辦公營機構，以實體的「實物」取代只能吃飽的「食物」，因此捐贈的項目包羅萬象，滿足弱勢民眾多元需求。請問新北市推出的實物銀行，主要是希望落實國家的何種功能？
- （A）維護文化傳統 （B）增進公共利益 （C）落實公平正義 （D）維持社會秩序。
11. 賈聰明在全國法規資料庫查詢《憲法增修條文》第 4 條時，寫著「立法委員除現行犯外，在會期中，非經立法院許可，不得逮捕或拘禁。《憲法》第 74 條之規定，停止適用。」請問我國以增修條文形式進行憲法變遷，此為何種憲法變遷的方式？
- （A）憲法解釋 （B）國會立法 （C）憲法修改 （D）憲法習慣。
12. 某國的礦業一直是其經濟發展的主要動力，其政局長期紛擾不斷；1990 年，該國一位政治人物在演說中呼籲：「我國的未來只能是一個在不分膚色的基礎上，通過民主選舉而產生的機構來決定，也就是建立一個民主、不分膚色和統一的國家，白人壟斷政權的狀況必須結束。」該政治人物的理想逐漸成為事實，但國內經濟發展同時出現遲緩現象，直到 21 世紀初才逐漸復甦。請問：該政治人物演說的內容，與下列哪一項權利保障的主張最吻合？
- （A）民主國家應該保障多元族群的文化差異 （B）保障少數族群權益才能提升政府合法性
（C）保障多元族群的平等才能促進國家整合 （D）民主國家應該保障少數族群的自決權利。
13. 俄羅斯總統選舉普亭第四度當選，至少將執政到 2024 年，普亭上台統治俄羅斯近 20 年，民調支持率高達約 70%，成為繼史達林之後執政最久的領袖。根據韋伯權威類型分類，普亭的權力來源應屬於何種？
- （A）法理型權威 （B）魅力型權威 （C）傳統型權威 （D）威權型權威。
14. 為了監督立法委員在國會的表現，學者與數個民間團體成立一個監督國會的聯盟，在立法院開會期間，觀察和記錄立法委員行使職權的狀況，並定期公布觀察記錄，以供民眾檢視與參考。下列何者屬於該組織觀察和記錄的項目或內容？
- （A）同意考試委員之任命 （B）解決直轄市間的爭議
（C）解釋行政中立法疑義 （D）提案彈劾涉弊的官員。

15. 公路總局曾開出機車汽燃費 15 萬張催繳烏龍罰單，補正做法為已繳款者退款，尚未繳者可免繳，並將負責業務的企畫科長調離原職並降 1 級、記申誡 2 次。請問，有關企畫科長的懲處，其所負的責任政治內涵為何？

- (A) 應透過媒體道歉，召開記者會說明
- (B) 應依違反規定，接受法律制裁
- (C) 應向法官自首，接受形式上的懲處
- (D) 應向民眾道歉，下台一鞠躬。

16. 依據我國《國籍法》規定，下列何者除非歸化，否則無法取得我國國籍？

- (A) 民眾在安平古堡旁發現的棄嬰小寶
- (B) 中華民國阿斗的外籍配偶阿霞在越南生下的女兒
- (C) 來台工作許久的美國籍瑪麗想入籍台灣
- (D) 中華民國黃氏夫妻留學德國時生下的兒子。

17. 民主政治發展過程中，間接民主的議會政治取代直接民主，下列何者為最主要原因？

- (A) 工業革命之後走向專業分工，產生專業的政治工作者
- (B) 公民直接參政社會成本太高，代議政治較為省時有效
- (C) 人民選舉投票就是直接民主，議員只是代行人民職權
- (D) 議會代表比人民熟悉議事規則，更能夠爭取人民權益。

18. 2014 年桃園升格後，各級地方政府的變化可整理如下表。請選出下列敘述正確者？

	省與直轄市政府	縣市政府	鄉鎮市政府
六都合併前數量	2 省、2 直轄市	18 縣 5 市	319 鄉鎮市
六都合併後數量	2 省、6 直轄市	13 縣 3 市	198 鄉鎮市

- (A) 我國現行地方自治團體分為省與直轄市、縣市政府以及鄉、鎮、市、區公所三個層級
- (B) 六都升格主要是基於都會區居民生活條件以及選舉考量，將使我國區域發展更為不均
- (C) 縣市升格直轄市後，轄下鄉鎮市升格為區公所，並與縣市政府屬於同層級的地方政府單位
- (D) 現行省受行政院指揮，辦理監督縣市自治事項，省政府委員與省諮議員皆由行政院長提請總統任命。

19. 根據現行《地方制度法》規定，下列何者屬於地方自治單位？(甲) 台中市和平區；(乙) 台南市北區；(丙) 嘉義縣大林鎮；(丁) 台南市仁德區仁和里；(戊) 台灣省。

- (A) 甲丙
- (B) 乙戊
- (C) 乙丙
- (D) 甲丁。

20. 最高法院判決書指出，漁船是國家的浮動領土，只要在漁船上犯罪，就可以依我國《刑法》處罰。除了漁船之外，我國的領土也涵蓋下列何者？

- (A) 我國駐韓國台北代表部 (Taipei Mission in Korea)
- (B) 華航飛機
- (C) 巴拉圭駐中華民國大使館
- (D) 在巴拿馬註冊的長榮貨運。

21. 下列有關內閣制國家運作模式的敘述，何者正確？

- (A) 內閣組閣必須獲得國會過半支持，若國會提出倒閣後內閣必須總辭
- (B) 國家元首為虛位象徵性質，統而不治，因此不會有任期固定的國家元首
- (C) 當國會無任一政黨獲得過半席次，因而組成聯合政府，又稱為「影子內閣」
- (D) 內閣閣揆通常由多數黨黨魁擔任，是最高行政首長，任期皆為四年一任的任期保障。

22. 依據地方制度法第 77 條規定，「直轄市間、直轄市與縣(市)間，事權發生爭議時，由甲解決之。縣與鄉(鎮、市)間，自治事項遇有爭議時，由乙解決之。」上述空格甲、乙分別應填入？

- (A) 行政院，中央各該主管機關
- (B) 行政院，內政部
- (C) 立法院，行政院
- (D) 行政院，內政部會同中央各該主管機關。

23. 我國自 1991 至 2005 共進行七次憲法的增修，依據第七次修憲結果，我國現行憲法修訂與下列哪一項法案審理程序相同？

- (A) 領土變更案
- (B) 《法官法》修正案
- (C) 健保費調漲案
- (D) 正副總統彈劾案。

24. 下表為我國立法委員、監察委員與考試委員的相關說明，請問下列何者正確？

	立法委員	監察委員	考試委員
產生方式	民選	(A)	
任期	(B)	6年	6年
職權	(C)	彈劾、糾舉、糾正等	(D)

- (A) 分別由監察院長與考試院長提名，並經立法院同意
 (B) 4年，連選得連任一次
 (C) 議決行政院提出的法律案、向內閣提出不信任案
 (D) 受理公職人員財產申報。
25. 2013年立委曾對行政院長提出不信任案，但該不信任案最後並未成功。請問對於不信任案的敘述，下列何者正確？
 (A) 不信任案的設計是為了解決立法院權力不足問題
 (B) 不信任案若通過，總統不但要重新選舉還需要解散立法院
 (C) 依《立法委員職權行使法》規定，不信任案至少需要57名立委贊成
 (D) 不信任案若不通過，立法院在一年內不得對同一行政院院長再次提出。
26. 南韓總統文在寅宣布恢復興建兩座已停工的核能反應爐，無核家園政策出現變化。對此，民間由471位公民組成的委員會表示，59.5%委員贊成恢復興建核能反應爐，40.5%委員反對。文在寅表示會維持選前承諾，停止興建其他核電廠計畫，以及不延長老舊反應爐的使用年限，復工決定不代表改變施政，而是使政府有充裕時間逐步淘汰核能，朝向再生能源發展。請問，上述南韓總統的作法，符合哪一民主政治的基本原則？
 (A) 責任政治 (B) 政治平等 (C) 依法行政 (D) 司法獨立。
27. 2017年爭議中的一例一休勞基法修正案，在民進黨立法院黨團表決下完成初審，總統蔡英文表示，這些政務的推動，她會與行政院長及執行團隊共同承擔，同時作為總統和黨主席，她會負起最後的責任。請問，對於我國總統和行政院的責任承擔，下列敘述何者正確？
 (A) 總統對人民負責，人民可以對總統進行彈劾
 (B) 總統對立法院負責，必須接受立法院的質詢
 (C) 行政對立法院負責，故行政院長需接受立法院的質詢
 (D) 行政院長須向人民負責，故人民可透過罷免要求行政院長下台。
28. 七次修憲之後，下列哪些人員的產生方式相同？(甲)考試院副院長與檢察總長(乙)省諮議員與審計長(丙)立法院院長與司法院副院長(丁)行政院院長與文化部長(戊)監察委員與大法官。
 (A) 乙丙丁 (B) 丙丁戊 (C) 甲乙 (D) 甲戊。
29. 混合制以法國第五共和為代表，又稱為半總統制、雙首長制，而關於法國總統是否具有實權、是否可解散國會、閣員是否可兼任國會議員、國會是否可提出不信任案，依序為下列何者？
 (A) 是、是、否、是 (B) 否、是、是、是 (C) 是、否、是、否 (D) 否、是、否、是。
30. 內政部推動研擬的不在籍投票，現階段規劃以全國單一選舉為主，如全國性公投、正副總統總統選舉等。請問，正副總統總統選舉投票屬於地方行政機關的何項職權？
 (A) 自治事項 (B) 委辦事項 (C) 跨區域自治事項 (D) 經營合辦事業。
31. 國務卿是美國國務院的最高領導人，主管外交事務。請問，國務卿產生方式為何？
 (A) 公民普選，再由選舉人團選出 (B) 總統提名，再經由國會表決通過
 (C) 總統選舉後，直接任命同黨者出任 (D) 國會推派最大黨領袖，經總統同意。

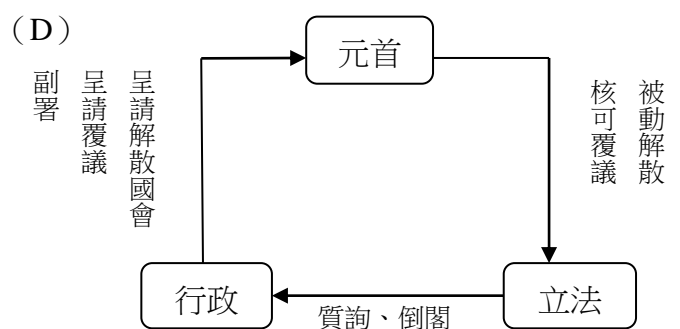
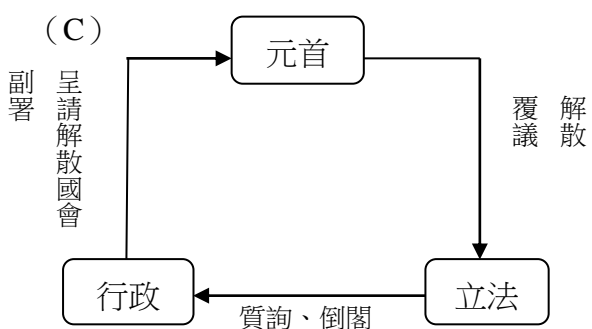
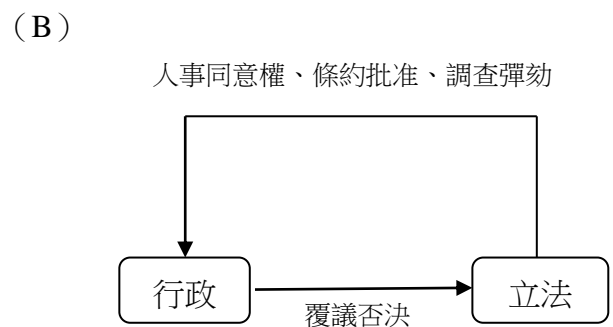
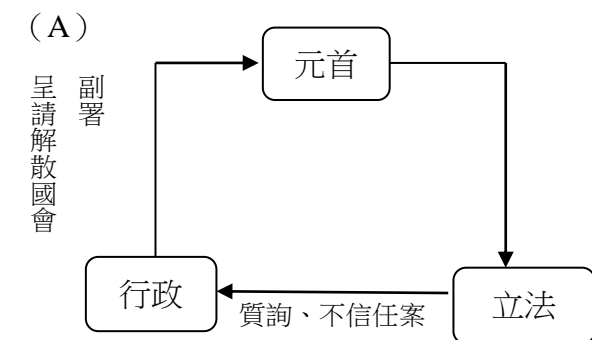
32. 有關歷次修憲的更迭與改革的相關敘述，下列何者正確？
- (A) 我國修憲早期為國民大會、立法院雙國會制度，分別為初決、複決兩關投票機制
 (B) 第 6 次修憲，因國大違反利益迴避與行政透明原則，因此自廢功能，將職權移轉給立法院
 (C) 第 7 次修憲由任務型國民大會召開，任務型國大為非常設性機構，任期一個月
 (D) 第 7 次廢除國民大會，使我國修憲程序轉為立法院提案，憲法法庭複決。
33. 客家桐花季由行政院客家委員會與臺東、花蓮、宜蘭、基隆、新北等 12 縣市、45 鄉鎮市區、120 多個政府機關及民間團體，共同辦理多場活動，更與優質藝文團體合作，在全國辦理許多中大型藝文表演。此活動符合下列何種概念？
- (A) 地方自治 (B) 地方治理 (C) 委辦事項 (D) 跨區域自治事項。

二、題組題（每題 2 分，共 24 分）

34~37 題為題組

2017 年 9 月德國舉行國會大選後，尋求四連任的總理梅克爾領導的基民盟雖然維持國會第一大黨，但得票率不到 3 成 3，必須和其他政黨合組聯合政府。基民盟和社民黨兩陣營在本次大選支持度嚴重流失，主因之一是選民不滿梅克爾自 2015 年起讓超過 100 萬難民和移民入境德國，難民政策引發德國社會問題，讓極右翼民族勢力抬頭，這是繼二戰納粹後，右翼首次進入議會，成為最大在野黨。
 【編輯自聯合新聞網、自由時報、天下雜誌 2018/03】

34. 請判斷德國政府體制的運作方式應為下列何圖？



35. 政治評論曾言：「此次選舉梅克爾是慘勝」，籌組聯合內閣過程也危機四伏。請問，關於這場選舉，下列敘述何者正確？
- (A) 德國總理具備國會議員身分，掌握行政實權，與美國政府體制相同
 (B) 梅克爾率領基民盟無法掌握國會多數，形成分立政府造成政治僵局
 (C) 梅克爾上任後面臨行政權的換軌，容易導致行政權力責任區分不明
 (D) 德國行政首長必須副署法律命令，負起政治責任，與臺灣運作相同。

36. 從此次選舉情況可知，德國政府體制與我國政府體制有何相同之處？

- (A) 在國會贏得過半數席次的政黨有權組閣
- (B) 行政首長提交內閣名單元首任命後上任
- (C) 總理為德國最高行政首長，不得兼任國會議員
- (D) 敗選政黨黨主席必須依法辭職，以維護憲政穩定。

37. 2015 年梅克爾對難民開放德國邊界，新移民政策確實讓她付出極大代價。不過靠著道歉和修正，梅克爾逐步削弱難民政策的傷害，在入境難民數量趨緩後，政府開始推動嚴厲的難民庇護政策，梅克爾支持度又逐漸上升。請問，德國政府在面對新移民問題時，下列何種方式最有助於減少衝突、增進理解？

- (A) 加強新移民在德語和文化上的學習
- (B) 以政策推廣方式，增進對主流文化理解欣賞
- (C) 給予新移民補助，減少其犯罪動機
- (D) 大眾媒體製播節目，消除對新移民的汙名化。

38~40 題為題組

庫德族人數約 3200 萬人，主要分布在土耳其、伊拉克等國，是全球最大的無國家民族。伊拉克北部庫德族自治區於 2017 年年 9 月舉行獨立公投，獲得 9 成壓倒性通過，伊拉克庫德自治政府主席馬蘇德·巴爾札尼宣布庫德族成功獨立，居住於伊拉克、伊朗、敘利亞與土耳其的庫德族人民握有自治權。這引起伊拉克政府與周遭國家的激烈反彈，不僅伊拉克政府及最高法院宣布公投違法，鄰國伊朗和土耳其也齊聲反對，美國及聯合國也表示不贊同庫德族的獨立公投。

【編輯自關鍵評論、自由時報 2017/09、中央廣播 2018/03】

38. 根據國家構成要素觀點分析，有關庫德族獨立行動的討論，何者較為合理？

- (A) 人民是國家的主體，庫德族有 3 千多萬人口，具備主權的統治對象
- (B) 庫德族散居在不同國家境內，但有自己的語言和文化，故主權存在
- (C) 庫德自治政府主席為國家元首，具有政府組織可自行管理公共事務
- (D) 國家必須具備領土，伊拉克北部自治區屬於庫德族建國的領土範圍。

39. 就國家構成要素而言，庫德族獨立最「缺乏」的是何種要素？

- (A) 人民、政府
- (B) 領土、主權
- (C) 主權、政府
- (D) 領土、人民。

40. 伊拉克北部庫德族自治區尋求獨立的轉捩點，肇因於伊拉克政府對 ISIL(伊斯蘭國)佔領江山無能為力，請問這主要顯示出伊拉克並未肩負起國家的何種功能？

- (A) 維持安全和秩序
- (B) 保障人民權利
- (C) 落實社會正義
- (D) 維護文化傳統。

41~43 題為題組

美國總統川普今年首次發表國情咨文演說，內容圍繞五大政策領域。一、經濟方面，透過大規模減稅案以及鬆綁法規等措施，創造投資及就業機會。二、基礎建設，川普訴諸兩黨合作，希望取得多數議員同意支持重修道路水利等基礎建設法案。三、貿易議題，以美國優先主軸，退出或重談國際自由貿易協定是有助於保障美國就業機會。四、移民方案，大幅削減可合法移民的人數，為已非法入境的 180 萬年輕人提供合法入籍管道，並在美墨邊界築牆加強邊界安全。五、國安議題，川普將強化軍力，以及透過強勢立場來達到和平。

【編輯自經濟日報 2018/01】

41. 川普的國情咨文這項職權與我國現行制度相較，下列敘述何者正確？(甲)在我國類似制度稱為總統國情報告；(乙)這項職權在我國類似於副署制度；(丙)兩國國會都不可以在總統行使這項職權時予以質詢；(丁)兩國國會若不認同總統這項職權時，可以運用否決權制衡。

- (A) 甲丙
- (B) 乙丁
- (C) 丙丁
- (D) 甲乙。

42. 透過國情咨文機會，川普除了對國會闡述施政方針，也意在尋求國會議員的支持。請問，美國國會議員對總統可以行使哪些法定職權？（甲）議案否決權；（乙）法律制定權；（丙）預算審查權；（丁）罷免總統權；（戊）人事同意權。
- （A）甲乙丙 （B）丙丁戊 （C）乙丙戊 （D）甲丙丁。
43. 川普上任後已退出「跨太平洋夥伴協定」(TPP)，新一代的 TPP，也就是「跨太平洋夥伴全面進展協定」(CPTPP)，今年包括越南等 11 個國家，在智利正式簽署了近 25 年來最重要的自由貿易協定，美國正考慮和上述成員國舉行雙邊或多邊談判，為美國日後重新加入 CPTPP 打開大門。請問，若美國想加入 CPTPP，其法案要在美國立法、生效，應採取的程序為？
- （A）總統提出，國會通過 （B）人民提出，人民複決
（C）聯邦法院大法官提出，人民複決 （D）國會提出，國會通過。

44~45 題為題組

由台北市、新北市政府聯合開發，捷運萬大樹林線位於土城的金城機廠工程日前動工，台北市政府將基地變更為捷運開發區，為避免徵收價格過低造成地主損失，採土地開發方式辦理並依法協議價購。目前已完成部分土地簽約價購，但仍有多數地主認為簽約價格不合理，動工當天到場抗議，現場引發一連串抗爭。萬大機廠工程經費高達 105 億元，萬大線、環狀線、汐止民生線對台北地區整體發展十分重要。 【編輯自工商時報 2018/03】

44. 有關市政府捷運土地開發的政策作為，下列敘述何者正確？
- （A）僅具備正當性 （B）具備合法性與正當性
（C）僅具備合法性 （D）不具備合法性與正當性。
45. 有關台北市、新北市聯合興建捷運萬大線作法，此屬於何種地方行政機關的職權事項？
- （A）委辦事項 （B）自治事項 （C）跨區域自治事項 （D）經營合辦事業。

三、多重選擇題（每題 2 分，共 10 分，答錯不倒扣）

46. 某班在課堂上討論我國與法國政府體制的異同，下列是他們討論的結果，哪些是正確的？
- （A）法國總統任期為五年一任，而我國總統任期為四年一任
（B）法國總統選舉採取絕對多數制，而我國總統選舉則是相對多數制
（C）法國與我國總統皆可任命閣揆，但法國總理的任命須先經國會同意
（D）法國與我國總統皆有覆議權，而我國總統須經諮詢行政院長始得提出
（E）法國總統可以直接解散國民議會，而我國總統則可以直接解散立法院。
47. 民主國家憲政主義的意涵中，最核心的概念之一就是「有限政府」(limited government)，下列哪些敘述屬於有限政府的內涵？
- （A）政府行政部門必須接受民意機關的監督
（B）政府的作為應該具備法律的授權並依法行政
（C）政府的各項施政必須考量行政體系的能力問題
（D）政府的資源不足，必須以行政部門所需經費為優先
（E）政府的權力並非無限制擴張，必須受到憲法與法律的約束。
48. 「合法性」乃民主國家的統治強調依法而治，其在積極面上要求行政行為必須有法律依據；而在消極面上要求行政行為不得牴觸法律。然而，法律可能只是反應執政者或是少數精英的利益，甚至違反公平正義原則時，則該統治行為不具「正當性」。一般而言，當政府具合法性但不具有正當性時，人民比較不願守法或遵從國家的治理，下列何種方式，有助於政府取得正當性？

- (A) 民眾採取司法訴訟向國家求償，爭取權益
- (B) 聲請司法院大法官釋憲，解決憲政的爭議
- (C) 發動修憲行動，讓國家運作合乎人民需求
- (D) 透過選舉產生政黨輪替，表達人民的意志
- (E) 透過公民投票，讓人民自主性的表達聲音。

49. 下列有關司法院和大法官任命及職權的相關敘述，何者正確？

- (A) 大法官由行政院長提請總統任命
- (B) 司法院所提出之年度司法概算、預算送交審計部審議
- (C) 公務員懲戒委員會負責審理監察院提出的彈劾、糾舉案
- (D) 若監察院認為法官有違法或失職情事，可以提出彈劾案
- (E) 大法官組成憲法法庭，審理政黨違憲解散案、正副總統罷免案。

50. 甄莉亥整理了有關我國與法國混合制的比較表，哪些比較項目配對完全正確？

比較項目	法國	我國
(A) 國家元首角色	部分行政實權	部分行政實權
(B) 總統任期	四年	四年
(C) 國家元首覆議權	由行政院發動，總統擁有核可覆議權	有
(D) 國家元首解散國會	除倒閣外，元首亦可主動解散國會	在倒閣後，元首才能被動解散國會
(E) 議員與閣員身分	可兼任	不可兼任

1	B	2	B	3	B	4	C	5	A or B
6	D	7	A	8	D	9	D	10	C
11	C	12	C	13	A	14	A	15	B
16	C	17	B	18	D	19	A	20	B
21	A	22	D	23	A	24	C	25	D
26	A	27	C	28	D	29	A	30	B
31	B	32	C	33	B	34	A	35	D
36	B	37	D	38	A	39	B	40	A
41	A	42	C	43	D	44	C	45	C
46	AB	47	ABE	48	BCDE	49	D	50	AD